



2020 වසරේ 5 වසර ශිෂ්‍යවර්ග විභාගය ඉලක්ක කර ගනිමින් ශ්‍රී ලංකා ආන්විදුලි සංස්ථාව මගින් ඉදිරිපත් කරන රේඩියෝ ආවරණ වැඩසටහන් මාලාව ඇතුළත් සකස් කරන ලද පෙර පුහුණු ප්‍රශ්න පත්‍රය

(1) පහත දැක්වෙන ජ්‍යෙෂ්ඨ නියෝජ්‍ය ආයතනික ප්‍රශ්නවලට පිළිතුරු සපයන්න.

වනය ඉතා අලංකාර ය. සෑම තැනක ම ඇති ගස් වැල් සහ ඒවායේ ගට ගන්නා මල් සහ ගෙඩි එහි අලංකාර බව තවත් වැඩි කරයි. ගස් වැල් බහුල නිසා දවල් කාලයේ ද වනය අදුරු ස්වභාවයක් උසුලයි. බැඳු බැල්මට ඒ අන්ධකාරය නිසාද ලෙස පෙනුණ ද වනය බෙහෙවින් සුන්දර ය. තැන් තැන් වලින් ගලා යන ඇළ දොළවල් නිසා වනය පුරා ම ඇත්තේ සිසිලයකි. නිත්‍ය පැටවු ඇළ දොළ වල පිනන ආකාරය ඉතාමත් දැකුම්කලු ය. දිය දහරා ගලා ගනී වනයේ ඇති නිහඬ බව බිඳ දමයි.

- (i) මෙයින් විස්තර වන්නේ දවසේ කුමන කාලයක් පිළිබදව ද?
(iii) මෙහි සඳහන් සුගල පදයක් ජ්‍යෙෂ්ඨ තෝරා ලියන්න
(iii) නාම විශේෂණ පදයක් ජ්‍යෙෂ්ඨ තෝරා ලියන්න
(iv) දහවල් කාලයේ ද වනය අදුරු ස්වභාවයක් උසුලන්නේ ඇයි?
(v) මහපුරාණ අක්ෂරයක් සහිත වචනයක් ජ්‍යෙෂ්ඨ තෝරා ලියන්න.
(vi) ප්‍රාණවාවි බහු වචන පදයක් ජ්‍යෙෂ්ඨ තෝරා ලියන්න.
(vii) මෙම ජ්‍යෙෂ්ඨ පුදුසු මාතෘකාවක් ලියන්න
(viii) එකිනෙකට විරුද්ධ පද දෙකක් ජ්‍යෙෂ්ඨ තෝරා ලියන්න.

(කොටස 08)

(2) පහත දැක්වෙන කවියේ ඉතිරි පදය ලියන්න.
මුග්ගි සිරිපා සිඹිමින්
සමනොළ ගිරි පොදෙසින්
මඳ සුළඟයි මේ එන්නේ

(කොටස 02)

(3) පහත ප්‍රස්ථාපිරුළු සම්පූර්ණ කරන්න.
(1) කට නිසා
(කොටස 01)

(4) සුදුසු වර්ග ලකුණ යොදන්න.
(1) බැහැ පඩිතැනි නොටියා කිටුවේ ය
(II) එයින් වන සතුන් ද ආරක්ෂා වේ
(කොටස 03)

(5) පහත දැක්වෙන තේරුම්ලත් තෝරා ගිණිගනෙහි ලියන්න.
(1) ගසක නොපිපෙන මල
(කොටස 01)

(6) පහත දැක්වෙන වාක්‍යවලට සුදුසු නාම පද යොදා වාක්‍ය සම්පූර්ණ කරන්න.
(1) මල්සත් ස්කන්ධයෙන්විසානු ජාතිකයෙකි.
(II) අභ්‍යවකාශ මධ්‍යස්ථානයක පක්ෂියකු සිටිය හැකි ය.

(කොටස 02)

(7) සුදුසු ක්‍රියා පදය වරහන් තුළින් තෝරන්න.
(1) මල් වැනි
(II) කිරි කුරහන්
(III) ගෙයි අටු කොටු

(කොටස 03)


(8) පහත දැක්වෙන කවිය කියවා ඇතැයි ප්‍රශ්නවලට පිළිතුරු ලියන්න.
නිඳුට යන තැන
කුල දෙව් වදිමන
කරපුතු පසු දින
සලකයි නුවණින

මෙහි සඳහන් ආකාරයට නින්දා යාමට පෙර සිදු කරන ක්‍රියාව කුමක්?
(කොටස 02)

(9) නිවැරදි අක්ෂරය යොදා වචනය සම්පූර්ණ කරන්න.
(1) ලේ.....නය (බ, ක)
(II) පුදුරි.....නය (ඔ, ට)
(10) වරහන් තුළ ඇති පදවලින් සුදුසු පදය තෝරා ගිණිගනෙහි ලියන්න.
(1) ලමයා
(II) මවුනු/මවුන්
(කොටස 02)

(11) කියවීමේ මිනිසා සම්පූර්ණ වේ යනු ප්‍රසිද්ධ කියමනකි. පොත් කියවීම විනෝදාශයක් කර ගත යුතු ය. පොත් කියවීමේ ලාබාල ප්‍රයෝජන රැසකි. "පොත් කියවීමේ අගය" යන මාතෘකාව පිළිබඳ වාක්‍ය තුනක් ලියන්න. උචිත ආකාරය සම්බන්ධය නිවැරදි විය යුතු ය.
(1)
(II)
(III)
(කොටස 06)

(12) පහත දැක්වෙන රූපවලට ගැලපෙන වචනය නිස්තරාණව ලියන්න.



(13) පහත දැක්වෙන ඉංග්‍රීසි වාක්‍යවල තේරුම සිංහලෙන් ලියන්න.
(I) I have a pet.
(II) I can dance.
(III) How old are you?
(කොටස 03)

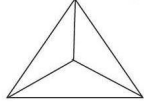
(14) පහත දැක්වෙන දෙමළ වාක්‍යයේ තේරුම සිංහලෙන් ලියන්න.
(1) අම්මා ඉරක්කිරුවා?
(කොටස 01)

(15) පහත දැක්වෙන සිංහල වැකියේ තේරුම දෙමළෙන් කියන ආකාරය සිංහල අකුරින් ලියන්න.
(1) ගුරුවරයා එනේ ඉන්නවා?
(කොටස 01)

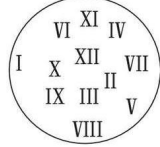
(16) පහත දැක්වෙන සාබ්‍යව ඉලක්කමෙන් ලියන්න.
අනු හට දහස් හටසිය අනු හටය-

(17) නිස්තරාණව ගැලපෙන සාබ්‍යව ලියන්න.
42 301 + [] = 94 532

(18) (1) මෙම ඝන වස්තුව හඳුන්වන නම කුමක් ද?
(II) එහි ශීර්ෂ හා පාද සංඛ්‍යාවෙහි එකතුව කීය ද?




(19) රවුම තුළ ඇති සාබ්‍යවලින් දෙකෙහි ගුණාකාර හා හතරෙහි ගුණාකාර තෝරා ලියන්න.
(1) දෙකෙහි ගුණාකාර
(II) හතරෙහි ගුණාකාර



(20) කොළඹ බස් නැවතුමෙන් පෙ.ව. 8.40 ට නුවර බලා පිටත්වීමට නියමිතව තිබූ බස් රථය විනාඩි 15 ක් ප්‍රමාදව නුවර බලා පිටත් විය. නිරවුණ්ඩේ දේ පානය සඳහා තවත් විනාඩි 15 ක් ගත කළ අතර ප.ව. 12.10 ට බස් රථය නුවරට ළඟාවිය. බස් රථය ධාවනයේ යෙදී තිබූ කාලය කොපමණ ද?

(21) පහත දැක්වෙන රටාවේ ඊළඟට ආයුතු සාබ්‍යය ලියන්න.
4,16,5,25,6,36,.....

(22) රවුමෙහි ඇති මත්තේ සාබ්‍යවල එකතුවෙන් ඉරට්ටේ සාබ්‍යවල එකතුව අඩු කර නිස්තරාණව ලියන්න.



(23) A නගරයේ සිට B නගරය හරහා C නගරය දක්වා ඇති මාර්ගයේ දිග 12 km 550 m කි. එම මාර්ගයේ A සිට B නෙක් දිග 7km 750m නම් B සිට C දක්වා දිග කොපමණ ද?

(24) අම්ලතායේ වයස හා උලානියේ වයසට එකතුව අවුරුදු 15 කි. අම්ලතාට වඩා උලානියේ වයස අවුරුදු 4 ක් වැඩිය. අම්ලතාගේ වයස කීය ද?

(25) සීනි 1kg හා තේකුඩු 500 g ක මිල රුපියල් 290 ක් වේ. සීනි 1 kg ක හා පටිපිටු 500 g ක මිල රුපියල් 190 ක් වේ. සීනි 1 kg, පටිපිටු 500 g හා තේ කුඩු 500 g ක මිල රුපියල් 390 ක් වේ. පටිපිටු 1 kg ක මිල සොයන්න.

(26) නාගරික පෙදෙසක පැල්පත්වාසීන්ගෙන් 5/7 ක් පැලෑටි වෙළඳාම් කරති. එම පිරිස 500 ක් නම් ගම් ඉතිරි පිරිස සොයන්න.

(27) ලොකු පෙට්ටියක බිස්කට් 8kg ක් ඇත. ඒවා පැකට් ලෙස අසුරා ඇති අතර පැකට් 2 බැගින් කුඩා පෙට්ටි 10 කට දමා ඇත. පැකට් එකක බර කොපමණ ද?

(28) මිනිත්තුවකට ප්‍රභූ ලීරර් 20 බැගින් රූකිකට ගලා එන්නේ නම් ලීරර් 2000 ක් අල්ලන රූකියක් පිරවීමට ගතවන කාලය මිනිත්තු කීය ද?

(29) සඳුරුවන් කඩයට ගොස් බඩු මිලදී ගත් අතර ඔහුගේ බිල රු.147.50 ක් විය. එම මුදල නොවිට

3 ක් හා කාඩ් 3 කින් ගෙවිය හැකි ආකාරය ලියන්න

(30) පහතක දැක්වෙන වගුව සම්පූර්ණ කරන්න.

ද්‍රව්‍ය	එකක මිල රු.සහ	මිලදී ගත් ප්‍රමාණය	මිල රු.සහ
හාල්	98.00	2½ kg
සීනි	1½ kg	135.00
පොත්	18.00	10
තෙල්	220.00	660.00
එකතුව		

(කුණු 28)

• සුදුසු පිළිතුර යටින් ඉරක්සුදින්න.

- (31) "සුද්දෙටන් ඇවිත් සිඳු පිට නැව් නැගිලා පරංගි" යන ගීතය,
 (I) දේශානිමානී ගීතයකි (II) ජන ගීතයකි (III) අටන් කාව්‍යයකි (IV) සරල ගීතයකි
- (32) එඩරු ව්‍යාප්ත වන්නේ,
 (I) සතුන් මගිනි (II) ජලය මගිනි (III) පිපිරීමෙනි (IV) සුළඟ මගිනි
- (33) මාලක හක්ෂක සත්ත්වයෙකි.
 (I) ගවයා (II) බත්කුරා (III) බද්ලා (IV) සමනලයා
- (34) පත්‍ර ආශ්‍රයෙන් සිය ව්‍යාප්තිය සකසා ගනී.
 (I) වේයා (II) මීයා (III) දිමියා (IV) කුරුමිණියා
- (35) නටියා මගින් බෝවිය හැකි රෝගයකි.
 (I) සොංගමාලය (II) මී උණ (III) ජලගිනිකාව (IV) උණ

- (36) ආදේශක සංගීත භාණ්ඩයක් නොවේ.
 (I) පැපොල් බට නළාව (II) උණ බට බෙරය
 (III) එක්ස්පේ කොළ රබාන (IV) බට නළාව
- (37) වච්චුවා විසින් ලියූ සිදුරු කරගැනීමට භාවිත කරයි.
 (I) මීටිය (II) කියන (III) නියන (IV) ඉස්කුරුපිපු නියන

- (38) ගෙවත්තක බෝග වගාකර ගැනීමෙන් ඇතිවන වාසියක් නොවේ.
 (I) රසායනික බෙහෙත් වලින් තොර ආහාර ලබා ගැනීම (II) අලුත් අහාර ලබා ගැනීම
 (III) අපතේ යෑම වැඩිවීම (IV) මුදල් ඉතිරි වීම

(39) පහත දැක්වෙන පින්තූර වලින් ආනන්ද කුමාරස්වාමි මහතා දැක්වෙන පින්තූරය තෝරා ඉරක් ඇදින්න.



- (40) වේලීම මගින් කල්තබා ගත හැකි ආහාරයකි.
 (I) අවිචාරු (II) බිලො (III) තක්කාලි (IV) වෙරළි
- (41) ගිතකරණයක දොර වැසීම සඳහා යොදා ගනී.
 (I) කප්පි (II) ආනන තල (III) ලිවර (IV) කාන්දම්

- (42) රෝදයක් පහසුවෙන් ක්‍රියා කරවීමට යොදා ගනී,
 (I) පෙට්‍රල් (II) ශ්‍රීස් (III) තාර (IV) ජලය

- (43) වි ගොවිතැනේ දී වගාව ආරක්ෂා කිරීමට යොදා ගනී,
 (I) දිය හොඳමන (II) දඬුවැට (III) පිට වැට (IV) ගිනිමැල

- (44) විද්‍යේ තොරතුරු ක්ෂණිකව ලබා ගත හැකි මාධ්‍යකි
 (I) අන්තර් ජාලය (II) පුවත්පත් (III) ලිපි (IV) පෝස්ටර්

- (45) "අහසින් වැටෙන එක ජල බිඳවක් හෝ අපතේ නොයචා ප්‍රයෝජනයට ගත යුතු යි" යනුවෙන් පැවසුවේ,
 (I) දුටුගැමුණු රජතුමා (II) මහා පරාක්‍රමබාහු රජතුමා
 (III) කාශ්‍යප රජතුමා (IV) ධාතුසේන රජතුමා



- (46) රූපසටහනෙහි දැක්වෙන්නේ
 (I) කොලාප් නිර්මාණයකි (II) පලාපෙති නිර්මාණයකි
 (III) ලියවැල් නිර්මාණයකි (IV) කැටයමකි
- (47) "ජලයට නිශ්චිත හැඩයක් නැත" මෙම කියමන
 (I) අසත්‍යකි (II) සත්‍යකි
 (III) අර්ධ සත්‍යකි (IV) කිව නොහැක
- (48) කුමාර ගසකට නැගිලි වීට ඔහු බිම ඇද වැටුණි. ඔහුගේ පාදය අස්ථි බිඳී ඇති අතර ඔහුට ඉදහැනීමට පවා නොහැකිය. ඇසල්වාසින් පැමිණ ඔහු රෝහලට ගෙනයාමට සූදානම් විය. ඒ සඳහා වඩාත් සුදුසුම ක්‍රමය වන්නේ
 (I) ඔහුව ඔසවාගෙන යාමයි (II) කෙසේ හෝ ඇවිදීමට ගෙන යාමයි
 (III) බිඳුණු පාදයට යටින් ලී පටියක් තබා බිඳ ලෑල්ලක් මත තබා ඔසවාගෙන යාමයි
 (IV) රෝද පුටුවක ගෙනයාමයි

- (49) සීගිරිය පිහිටා ඇත්තේ
 (I) පොලොන්නරුවේ ය (II) අනුරාධපුරයේ ය (III) දඹුල්ලේ ය (IV) මාතලේ ය

- (50) දකුණු පළාතේ ප්‍රධාන නගරය වන්නේ
 (I) මාතර (II) නම්බන්තොට (III) බලපිටිය (IV) ගාල්ල

- (51) පහත දැක්වෙන රූපික ප්‍රකාශනයෙන් ඇදහස් වන්නේ
 (I) වාහන නතර කර නැබීම තහනම් (III) පළල් මාර්ගය
 (II) වාහන ඇතුල් කිරීම තහනම් (IV) නළා ශබ්ද කිරීම තහනම්



- (52) අතු කැබලි සිටු වීම මගින් පැළ ලබාගතහැකි බෝග වර්ගය කුමක් ද? කරන්න
 (I) මීටස් (II) තක්කාලි (III) බතල (IV) රම්පෙ

- (53) රූපයේ දැක්වෙන වල් පිළිව පුෂ්පය නියෝජනය කරන පළාත වන්නේ
 (I) දකුණු පළාත
 (II) උතුරු පළාත
 (III) නැගෙනහිර පළාතක
 (IV) සබරගමු පළාත



- (54) ශ්‍රී ලංකාවේ දිස්ත්‍රික් ගණන
 (I) 22 (II) 24 (III) 25 (IV) 26

- (55) ජන ක්‍රීඩාවක් නොවේ,
 (I) මලිඳු කෙළිය (II) පංචා දෑමීම (III) එළුවන් කෑම (IV) ගම හරතා දිවීම

- (56) වාහන සඳහා ආලෝක සංඥා කුලයේ ඇති කහ පැහැති වර්ණය දැල්වුණි මෙයින් අදහස් කරන්නේ,
 (I) වාහනය නතර කරන්න (II) රටය ගමනට සූදානම් කරන්න
 (III) ගමන ආරම්භ කරන්න (IV) ඉක්මනින් ගමන් කරන්න