

● කවි ඇසුරෙන් අසා ඇති ප්‍රශ්න වලට පිළිතුරු සපයන්න.

අගනා දුබල වන මල් ගොමු ඇත බැඳ්දේ  
තුරු මත කුරුල්ලන්ගේ සුමිහිරි සද්දේ  
මීදුම් පටල පෙර වූ නිල් කඳු මැද්දේ  
සිතල රිදී දිය වැලි පහළට ඇද්දේ

අවුකන ගල් වෙහෙර ඇත මහ පිළිම තැනූ  
සුකිරි වගෙයි පුත්තලමේ මිදුණු ලුණු  
සිහිරි ගලේ සිතුවම් ලොව පුදුම වුණු  
ආඩම්බරයි ලොවා මහ පහයේ කණු

- කුරුල්ලන් සුමිහිරි හඬින් හි ගයන්නේ කොනි සිට ද ?
- නිල් කඳු පොරවා ගෙන සිටින්නේ මොනවාට ද ?
- පුත්තලමේ මිදුණු ලුණු උපමා කර ඇත්තේ මොනවාට ද ?
- "තුරු" යන වචනයට සමාන පදයක් ලියන්න.
- කවි පෙළෙහි සඳහන් පරිදි ලොව ම පුදුමයට පත් කළේ මොනවා ද ?
- "සිතල" යන වචනයට විරුද්ධ පදයක් ලියන්න.
- "දුර්ලභ" යන අදහස ඉදිරිපත් කිරීමට පළමු කවියේ යොදා ඇති වචනය කුමක් ද ?
- ප්‍රාණවාවී බහු වචන අනුක්‍රම පදයක් කවි වලින් තෝරා ලියන්න.

● නිවැරදි වචනය යටින් ඉරන් අඳින්න.

- වලි කුකුළා / වලි කුකුළා
  - විරෝධය / විරෝදය
- පහත සඳහන් එක් එක් වාක්‍ය නිවැරදි නම් (✓) ලකුණ ද, වැරදි නම් (x) ලකුණ ද එම වාක්‍ය ඉදිරියේ ඇති වරහන තුළ කොඳුන්.

- නංගි සෙල්ලම් කළා ය. ( )
- බල්ලෝ මූරයි. ( )

13. පහත සඳහන් පද්‍ය කියවා අසා ඇති ප්‍රශ්නයට පිළිතුරු ලියන්න.  
මා පිය සහ ගුරු - නෑදෑ සොහො ගුරු  
තැමටම කිකරු - සැපතෙකි මේ දරු  
කවියේ සඳහන් පරිදි මෙම දරුවාගේ හොඳ ගතිගුණ ලියන්න.


14. පහත සඳහන් වචන ගලපා අර්ථවත් වාක්‍යයක් ලියන්න.  
සැම / කරමු / ස්ථාන / බෝ වෙන / විනාශ / මදුරුවන් / අපි / එක්වී

● පහත සඳහන් වැඩිවල අර්ථය සිංහලෙන් ලියන්න.

- dustbin - .....
- clouds - .....

17. පහත සඳහන් වාක්‍යයෙහි අදහස ඉංග්‍රීසියට හරවා ඉංග්‍රීසියෙන් ලියන්න.  
'කරුණාකර ඔබගේ පොත මට දෙන්න'

18. හිස්තැනට ගැළපෙන අර්ථය ලියන්න.

i) This is a  .....

19. පහත සඳහන් වගන්තිය දෙමළෙන් කියන ආකාරය සිංහල අකුරෙන් ලියන්න.  
සුභ උපන්දිනයක් වේවා -

20. පහත සඳහන් දෙමළ වැකියේ අර්ථය සිංහලෙන් ලියන්න.  
එනක්කු පසික්කිරදු -

● "මගේ අනාගත බලාපොරොත්තුව" යන මාතෘකාව යටතේ වාක්‍ය පහක් ලියන්න.  
ලියන ලද සෑම වාක්‍යයක ම වචන 5 ක ට වැඩි විය යුතුයි. උක්ත ආච්ඡාසන පද සම්බන්ධය නිවැරදි විය යුතුයි.

- .....
- .....
- .....
- .....
- .....

● දී ඇති හිත් ඉරි මත පිළිතුරු සපයන්න.

26. අකුරෙන් දී ඇති සංඛ්‍යාව ඉලක්කමෙන් ලියන්න.  
හතළිස් තුන්දහස් එකසිය පනස් අට

27. රවුම තුළ ඇති ඉලක්කම්වලින් සෑදිය හැකි විශාල ම සංඛ්‍යාව කීයද?



28. 3, 6, 12, 24, ..... හිස් තැනට සුදුසු සංඛ්‍යාව ලියන්න.

29. රූපයේ පාට කළ කොටස දශම සංඛ්‍යාවක් ලෙස ලියන්න.



30.  $8 + 7 - 1 = \dots\dots\dots$  ලැබෙන පිලිතුර රෝම සංඛ්‍යාවලින් ලියන්න.

31. ශිෂ්‍යත්ව පන්තියක් පෙ.ව. 10.00ට ආරම්භ වී ප.ව. 3.30 ට අවසන් විය. පන්තිය පැවති කාලය කොපමණ ද?

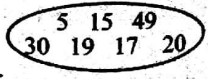
32. .... vii ..... හිස් තැනවලට සුදුසු පරිදි පෙර හා පසු රෝම සංඛ්‍යා ලියන්න.

33. 0.5 භාගයක් ලෙස ලියන්න.

34. අඹ ගොඩක තිබූ අඹ ප්‍රමාණයෙන්  $\frac{3}{5}$  හරක් වී තිබුණි. ඉතිරි වීවා හොඳ අඹ ය. හොඳ අඹ ගෙඩි ප්‍රමාණය 200 ක් නම්, අඹ ගොඩේ තිබූ මුළු අඹ ප්‍රමාණය කොපමණ ද?

35. ප්‍රමිතීන් 5 දෙනෙකු සහ බහු පැටවුන් තිදෙනෙකු තරඟයට දුවති. මේ සියලු දෙනාට ඇති කතුල් ගණන කීයද?

36. රවුම තුළ ඇති සංඛ්‍යාවලින් 5 හි ගුණකාර තෝරා ලියන්න.



37. ගුණිතයේ කාමරයේ හිත්ත ගෑමට ලීටර 3 ක් අවශ්‍ය විය. හිත්ත මිල දී ගත්තේ ලීටර භාගයේ ටින් ය. විවැවින් අවශ්‍ය වන හිත්ත ලීටර භාගයේ ටින් ගණන කීයද?

38. ධාරිතාව 1200ml ක් වන භාජනයක ජලය 900ml තිබේ. එයට තවත් 900ml ක් ජලය එක් කළ විට භාජනයෙන් පිටතට උතුරා යන ජල පරිමාව කොතෙක් ද?

39. ඉඩමකින්  $\frac{2}{4}$  ක වළවළු ද,  $\frac{1}{4}$  ක පලතුරු ද වගා කර ඇත. වගා කර හැකි බිම් ප්‍රමාණය මුළු ඉඩමෙන් කොපමණ කොටසක් ද?

**හැළපෙන පිළිතුර යටින් ඉරක් අදින්න.**

40. ඒක දේශික ශාක පමණක් ඇතුළත් පිළිතුර වන්නේ,  
 1. කෙකටිය, බිහර, හිරිතිල්ල, දෝතලු  
 2. දෝතලු, බිහර, කපු, පොල්  
 3. අඹ, හිරිතිල්ල, දෝතලු, පොල්

41. බෝගවලට හානි කරන සත්ව කාණ්ඩ වන්නේ,  
 1. වේයා, බළලා  
 2. ගොළුබෙල්ලා, උළුඹුවා  
 3. කාචා, සමනලයා

42. කැටයම් කලාව පිළිබඳව අනෙකු නිර්මාණ දැකිය හැකි ස්ථානයක් වන්නේ,  
 1. සිහිරිය  
 2. ඉසුරුමුණි විහාරය  
 3. ගල් විහාරය

43. හාල්මැස්සන්වල බහුලව අඩංගු වන්නේ,  
 1. ඔක්සිජන්  
 2. කැල්සියම්  
 3. පිණ්ඩය

44. පහත වෘත්තීන් අතුරින් "පලංචිය" භාවිත කරනු ලබන්නේ,  
 1. පෙදෙරේරුවා  
 2. කම්මල්කරුවා  
 3. ගොවියා

45. මෙම රූපයේ දැක්වෙන්නේ,  
 1. මිනෙට්ටුවක් ගුණකන්ද හිමි.  
 2. ඇස්. මහින්ද හිමි  
 3. අනභාරක ධර්මපාලතුමා



46. "ශුද්ධවත් ඇවිත් සිදු පිටි හැවී හැඟලා.." යන ගීතයෙන් දැක්වෙන විදේශීය ජාතිය වන්නේ,  
 1. පෘතුගීසීන් 2. ලන්දේසීන්  
 3. ඉංග්‍රීසීන්

47. සහනශීලී වර්ග හිසා සිදු නොවන දෙයකි.  
 1. හැම දෙනාගේ ම ආරක්ෂාව ඇති වීම.  
 2. එකිනෙකාගේ ගරුත්වයට හානි සිදු වීම.  
 3. වගකීමකින් හැසිරීමට හුරු වීම.

48. අවිචාරු බෙදීමට සුදුසු නොවන්නේ කුමන හැක්ද ද?  
 1. ලී හැක්ද  
 2. ඇළුම්හියම් හැක්ද  
 3. පොල්කටු හැක්ද

49. ශ්‍රී ලංකාවේ වෙස් මුහුණුවලට ප්‍රසිද්ධ නගරයකි.  
 1. තංගල්ල  
 2. මහරගම  
 3. අම්බලන්ගොඩ

50. ත්‍රිකුණාමලය ආසන්නයෙන් ම මුහුදට වැටෙන ගංගාව කුමක් ද?  
 1. වළවේ ගඟ  
 2. කළු ගඟ  
 3. මහවැලි ගඟ

51. සිහිරිය අයත් වන දිස්ත්‍රික්කය කුමක් ද?  
 1. දඹුල්ල 2. මාතලේ 3. මහනුවර

52. මෙම රූපයේ සඳහන් නිර්මාණය දැක ගත හැක්කේ,  
 1. යාපහුවේ  
 2. සිහිරියේ  
 3. ගඩොලාදෙණියේ



53. වැවක ජලය පිටකරන ස්ථානය,  
 1. වැකන්ද 2. සොරොව්ව  
 3. වැව්කාටුල්ල


54. මෙම දියරවලින් ඉක්මනින් වාෂ්ප වන ද්‍රව වර්ගය වන්නේ.  
 1. පෙට්ටුල් 2. පොල්තෙල් 3. සීසල්

55. පෙදෙරේරුවා භාවිත නොකරන උපකරණයකි.  
 1. මේසන් හැක්ද 2. මුරුමිය  
 3. සවල

56. ශ්‍රී ලංකා සිතියමක මහා මාර්ග දැක්වීමට යොදා ගන්නා චිහ්ණය වන්නේ,  
 1. කළු 2. රතු 3. තැඹිලි

57. රත්නපුරය ප්‍රසිද්ධ කුමන කර්මාන්තයක් සඳහා ද?  
 1. මැණික් 2. රන් 3. මිනිරන්

58. රූපයෙන් දැක්වෙන ඖෂධීය ශාක පහය කුමක් ද?  
 1. කරපිංචා  
 2. කටුවැල් බටු  
 3. හිප්පිලි



59. මෙම රූපය දැක ගත හැකි වන්නේ,  
 1. ඉසුරුමුණියේ දී  
 2. යාපහුවේ දී  
 3. සිහිරියේ දී


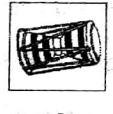



61. ආහාරයට යොදා ගන්නා බීජ වර්ගයකි.  
 1. කොස් ඇට  
 2. ගස්ලබු ඇට  
 3. අඹ ඇට

62. කර්මලෙන් හුස්ම ගන්නා සතෙකි.  
 1. කිඹුලා 2. ගවයා 3. මාළුවා

63. මෙම රූපයෙන් දැක්වෙන පක්ෂියා වන්නේ,  
 1. පරවියා  
 2. පැණි කුරුල්ලා  
 3. කුකුළා



64. දේශීය සංගීත භාණ්ඩයක් වන්නේ,  
 1.  2.  3. 

65. මේ පස් වර්ග අතුරින් සාරවත් පස් වර්ගය වන්නේ,  
 1. වැලි පස  
 2. ලොම් පස  
 3. මැටි පස

66. "හාමිබුව" යන වචනය යෙදෙන්නේ,  
 1. වඩු කර්මාන්තයේ දී  
 2. පතල් කර්මාන්තයේ දී  
 3. ධීවර කර්මාන්තයේ දී

67. යක් බෙරය ප්‍රධාන වාද්‍ය භාණ්ඩය ලෙස ගැනෙන්නේ ශ්‍රී ලංකාවේ කුමන නැටුම් සම්ප්‍රදායෙන් ද?  
 1. උඩරට නැටුම් සම්ප්‍රදායේය.  
 2. සබරගමු නැටුම් සම්ප්‍රදායේය  
 3. පහතරට නැටුම් සම්ප්‍රදායේ ය.

68. වැඩිපුර ගංවතුර තර්ජනය ඇති ප්‍රදේශයකි.  
 1. ඇඹිලිපිටිය 2. නුවරඑළිය  
 3. රත්නපුර

69. පාරේ ගමන් කරන වීටි සැක කටයුතු යමක් ද්‍රව වීටි අප දැකුම් දිය යුතු දුරකථන අංකය වන්නේ,  
 1. 119 2. 1990 3. 1919

ජනප්‍රිය ගීතයන් වලින්  
**රුවන් ප්‍රසන්න සෙනරත්**  
 ඇඹිලිපිටිය ප්‍රාථමික විද්‍යාලය ආචාර්ය  
 (ජාතික ගීතයන් විද්‍යා ඩිප්ලෝමා  
 විද්‍යාපීඨ ප්‍රාථමික ප්‍රභූත බී. ඒ.)