

# MINISTRY OF EDUCATION

අධ්‍යාපන අමාත්‍යාංශය

## G.C.E. ORDINARY LEVEL - Rehearsal Paper

අ.පො.ස. සාමාන්‍ය පෙළ - ආදර්ශ ප්‍රශ්න පත්‍ර

### GEOGRAPHY

භූගෝල විද්‍යාව

# QUESTION PAPER - II

## ප්‍රශ්න පත්‍රය - II



අනුග්‍රහය :



අධ්‍යාපන අමාත්‍යාංශය

භූගෝල විද්‍යාව - II

අ.පො.ස. (සා/ පෙළ) - ආදර්ශ ප්‍රශ්න පත්‍රය

11 ශ්‍රේණිය

කාලය - පැය 2 යි

සැලකිය යුතුයි

- I කොටසේ පළමුවන ප්‍රශ්නය අනිවාර්ය වේ.
- II කොටස ව්‍යුහගත රචනා ප්‍රශ්න 07කින් සමන්විත වේ. ඉන් 04කට පිළිතුරු සැපයිය යුතුවේ.
- එක් ප්‍රශ්නයකට ලකුණු 10 බැගින් ලකුණු 40කි.

^අ) ඔබ වෙත සපයා ඇති 1:50000 සිතියම් කොටස අධ්‍යයනය කොට ඒ ඇසුරින් අසා ඇති ප්‍රශ්නවලට පිළිතුරු සපයන්න.

ප්‍රශ්න අංක i සිට iv දක්වා ඇති ප්‍රශ්න වලට ගැළපෙන පිළිතුර වරහන් තුළින් තෝරා ලියන්න

i. අංක 01 න් දක්වා ඇති සේවා ස්ථානය කුමක්ද ?

^ පොලිසිය / උප තැපැල් කාර්යාලය / තැපැල් කාර්යාලය )

ලකුණු 01

ii. අංක 02 න් දක්වා ඇති මාර්ග වර්ගය කුමක්ද ?

^ සෙසු මාර්ගය / ජීප් රථ මාර්ගය / ගුරු පාර )

ලකුණු 01

iii. අංක 03 න් දක්වා ඇති වගාව කුමක්ද ?

^ ගෙවතු / හේන් / වී )

ලකුණු 01

iv. අංක 04 න් දක්වා ඇති ත්‍රිකෝණමිතික ස්ථානයේ නිවැරදි උන්නතාංශය විය හැක්කේ,

^ මීටර 400 / මීටර 410 / මීටර 420 )

ලකුණු 01

v. A අක්ෂරයෙන් කොටුකර ඇති ජලවහන ලක්ෂණය නම් කරන්න

ලකුණු 01

vi. B අක්ෂරයෙන් කොටුකර ඇති ජලවහන රටාව නම් කරන්න

ලකුණු 01

vii. C අක්ෂරයෙන් කොටුකර ඇති භූ ලක්ෂණය නම් කරන්න

ලකුණු 01

සිතියම් ප්‍රදේශය පිළිබඳ ප්‍රකාශ දෙකක් (a) හා (b) ලෙස පහත දක්වා ඇත. එම ප්‍රකාශ දෙක කියවා බලා නිවැරදි නම් 'නි' යන්න වටාද වැරදි නම් 'වැ' යන්න වටාද ප්‍රශ්න අංක ඉදිරියේ රවුමක් අඳින්න

viii. (a) D අක්ෂරයෙන් දැක්වෙන භූ ලක්ෂණ කොටස දළ බැවුමකට නිදර්ශනයකි ( නි / වැ )

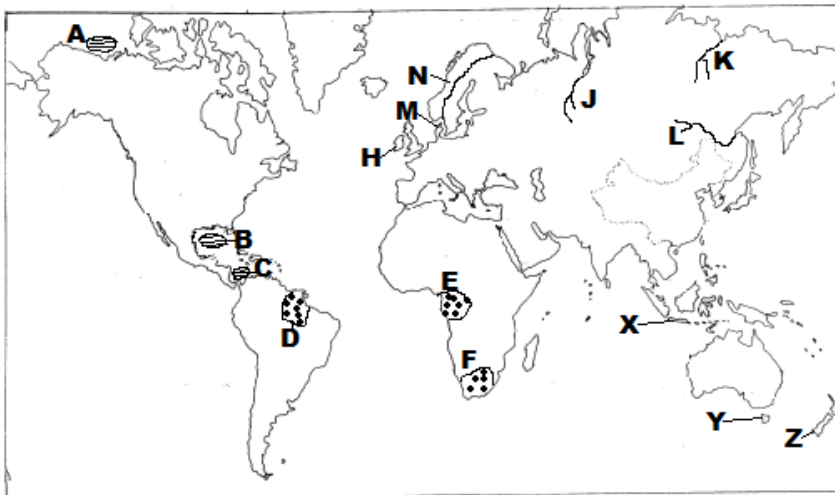
^b) මෙම සමස්ථ සිතියම් කොටස ශ්‍රී ලංකාවේ මධ්‍යම කඳුකරයට අයත් කොටසකි ( නි / වැ )

ලකුණු 02

ix. මෙම සිතියම් ප්‍රදේශයේ ඉහළම උන්නතාංශය වාර්තාවන සිතියම් කාර්තුව නම් කරන්න

ලකුණු 01

ආ) ඔබ වෙත සපයා ඇති ලෝක ආකෘති සිතියම හොඳින් අධ්‍යයනය කොට පහත සඳහන් ප්‍රශ්නවලට පිළිතුරු සපයන්න.



(i) ලකුණු කොට ඇති A, B හා C යන මුහුදු අතරින් 'කැරිබියන් මුහුද' දැක්වෙන අක්ෂරය කුමක් ද?

(ii) D, E හා F වලින් දක්වා ඇති 2019 අගෝස්තු මාසයේ ලැවිහිනිවලට ගොදුරු වූ 'ඇමසන් වනාන්තරය' දැක්වෙන අක්ෂරය කුමක් ද?

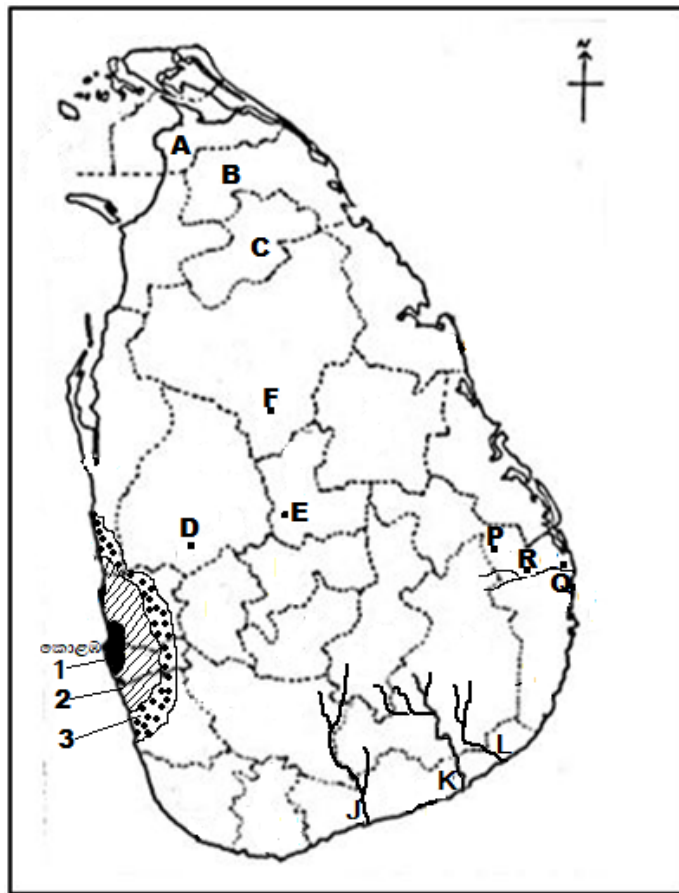
(iii) ලෝක කිරිපට්ටි පාලනය සඳහා ප්‍රසිද්ධ වූ 'ඩෙන්මාර්කය' H, M හා N යන අක්ෂර අතරින් කවර අක්ෂරයක්වේද ?

(iv) J, K හා M අක්ෂර මගින් දැක්වෙන ගංගා අතරින් 'අමූර් ගංගාව' දැක්වෙන අක්ෂරය කුමක් ද?

(v) X, Y හා Z අක්ෂරවලින් දැක්වෙන දූපත් අතරින් 'තස්මේනියා දූපත' දැක්වෙන අක්ෂරය කුමක් ද?

(ලකුණු 05)

ඉ) ඔබ වෙත සපයා ඇති ශ්‍රී ලංකා ආකෘති සිතියම හොඳින් අධ්‍යයනය කොට පහත සඳහන් ප්‍රශ්නවලට පිළිතුරු සපයන්න.



- (i) අංක 1, 2 හා 3 වලින් දක්වා ඇති ස්ථාන අතරින් 'මහ කොළඹ සංචාරක කලාපය' දක්වෙන අක්ෂරය කුමක් ද?
- (ii) D, E හා F වලින් දක්වා ඇති අක්ෂර අතරින් 'බතලගොඩ වී පර්යේෂණායතනය' දක්වෙන අක්ෂරය කුමක් ද?
- (iii) දැනට අඩුම ජන සංඛ්‍යාවක් වෙසෙන 'මුලතිව් දිස්ත්‍රික්කය' සඳහා A, B හා C යන අක්ෂර අතරින් කුමක් වේද?
- (iv) J, K හා L යන අක්ෂර අතරින් 'කිරිඳි මය' සඳහා යොදා ඇති අක්ෂරය කුමක් ද?
- (v) P, Q හා R යන අක්ෂර අතරින් 'අම්පාර නගරය' දක්වෙන්නේ කුමන අක්ෂරයෙන් ද?

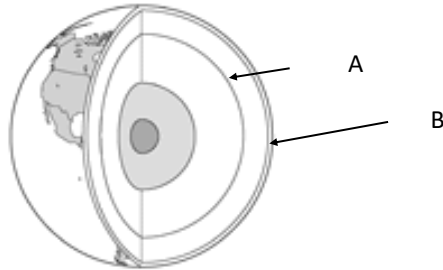
(ලකුණු 05)

11 කොටස

02& යාබදව දක්වා ඇත්තේ පෘථිවි අභ්‍යන්තරය දැක්වෙන භරස්කඩක රූපයකි

i. රූප සටහනට අනුව A හා B අක්ෂර වලින් දක්වා ඇති ස්ථර දෙක අනුපිලිවෙලින් නම් කරන්න

(ල. 2)



ii. A අක්ෂරයෙන් දක්වා ඇති ස්ථරයේ විශේෂ ලක්ෂණ තුනක් සඳහන් කරන්න

(ල. 3)

iii. (අ) පෘථිවි ශිලා ගෝලය යනු කුමක්දැයි කෙටියෙන් විස්තර කරන්න

(ල. 2)

ආ) මිනිසාට ශිලා ගෝලයෙන් ඇති ප්‍රයෝජන තුනක් දක්වන්න

(ල. 3)

03)

i. 'දේශගුණය' යන්න අර්ථ දක්වන්න

(ල.2)

ii. ' උෂ්ණත්වය , වර්ෂාපතනය හා අක්ෂාංශ ගත පිහිටීම වැනි සාධක පදනම් කර ගනිමින් ශ්‍රීකයන් පෘථිවියේ පුළුල් දේශගුණ කලාප තුනක් හඳුනාගෙන තිබුණි'

එම දේශගුණික කලාප තුන අක්ෂාංශ අනුව නම් කරන්න

(ල.3)

iii. සමකයට ආසන්නව ව්‍යාප්තව ඇති ප්‍රධාන වනාන්තර වර්ගය නම් කර එහි ප්‍රධාන ලක්ෂණ හතරක් සඳහන් කරන්න.

(ල.5)

(04)

මිනිස් ආර්ථික කටයුතු අතර නිෂ්පාදන කර්මාන්ත වලට සුවිශේෂ ස්ථානයක් ලැබී ඇත්තේ එහි ඇති මානව උපයෝගීතාව ඉතා උසස් මට්ටමක ඇති බැවිනි

i. කර්මාන්ත ස්ථානගත වීමට බලපාන භෞතික සාධකයක් හා මානව සාධකයක් නම් කරන්න (ල.2)

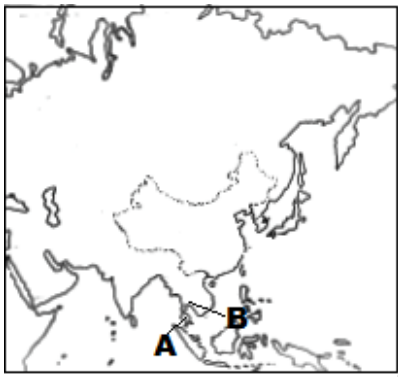
ii. මෝටර් රථ කර්මාන්තයේ ප්‍රමුඛ දකුණු ආසියාතික රටක් ද , නැගෙනහිර ආසියාතික රටක් හා අග්නිදිග ආසියාතික රටක්ද නම් කරන්න (ල.3)

iii. (අ) ඔබ ඉහතින් නම් කළ රටවල් තුනෙන් එක් රටක මෝටර් රථ කර්මාන්තයේ දියුණුවට බලපා ඇති සාධක තුනක් සඳහන් කරන්න (ල.3)

(ආ) මෝටර් රථ කර්මාන්තයේ මෑත කාලීන ප්‍රවණතා දෙකක් කෙටියෙන් සඳහන් කරන්න (ල.2)

(05)

i. යාබද ආසියාතික සිතියම් කොටසේ රබර් වගාව සඳහා ප්‍රසිද්ධ A හා B ලෙස දක්වා ඇති රටවල් අක්ෂර අනුව නම් කරන්න (ල.2)



ii. රබර් වගාව සාර්ථකව ව්‍යාප්ත වීමට නිවර්තන ආසියාතික රටවල් කිහිපයක භෞතික සාධකවල ඇති විශේෂත්වය සම්බන්ධයෙන් ප්‍රධාන කරුණු තුනක් දක්වන්න (ල.3)

iii ශ්‍රී ලංකාවේ වතු හෝග කෘෂිකර්මාන්තයේ භූමි පරිහෝගය ආශ්‍රිතව ඇති ගැටළු දෙකක් නිදර්ශන සහිතව කෙටියෙන් පැහැදිලි කරන්න. (ල.5)

06) i. ලෝක ජන සංඛ්‍යාවේ විශාලත්වය අනුව අප්‍රිකා සහ යුරෝපා මහාද්වීපය අයත් කරගෙන සිටින ජන සංඛ්‍යා

ප්‍රතිශත වරහන් තුළින් තෝරා මහාද්වීප අනුව ලියන්න ( 8% /10% /16% )

(ල.2)

ii. ලෝක ජන සංඛ්‍යා ව්‍යාප්තියේ

- a) ආසියාවේ අධි ජන සංකේන්ද්‍රණයක්ද
- b) දකුණු ආසියාවේ ද්විතියික ජන සංකේන්ද්‍රණයක්ද
- c) අප්‍රිකාවේ ජන හීන ප්‍රදේශයක්ද නම් කරන්න

(ල.3)

iii. ශ්‍රී ලංකාවේ ජන සංඛ්‍යා ව්‍යාප්තියෙහි අසමතුලිතතාවයට හේතු වූ භෞතික සාධකයක් හා මානුෂ සාධකයක්

කෙටියෙන් විස්තර කරන්න

(ල.5)

07) i. පාරිසරික අනවබෝධය නිසා ඇතැම් විට මානවයා නොදැනුවත්ව උපද්‍රවයන් නිර්මාණය කරගෙන ඇත.

ඔබ පරිසරය තුළ හඳුනාගත් එවැනි උපද්‍රවයක් නම් කර එයින් සිදුවිය හැකි ආපදාවක් සඳහන් කරන්න

(ල.2)

ii. 'ලැව්ගිනි ආපදාවක්' ඇතිවීමට බලපාන ස්වාභාවික හේතු දෙකක් ද මානුෂ හේතු එකක් ද නම් කරන්න

(ල.3)

iii. අ) ලැව්ගිනි නිසා සිදුවන වෘක්ෂලතා වැස්මේ විනාශයෙන් සිදුවිය හැකි පාරිසරික හානි තුනක් සඳහන් කරන්න

ආ) ඔබ ඉහතින් සඳහන් කළ එක් හානියක් පරිසර පැවැත්මට බලපාන ආකාරය විස්තර කරන්න

(ල.5)

08) i 'දේශගුණික වෙනස්වීම්' යන්න අර්ථ දක්වන්න

(ල.2)

ii දේශගුණික වෙනස්වීම් නිසා මානුෂ කටයුතුවලට ඇතිවන බලපෑම් තුනක් සඳහන් කරන්න

(ල.3)

iii දේශගුණික වෙනස්කම් අවම කිරීමට ශ්‍රී ලංකාව දායක වී ඇති ආකාරය කරුණු දෙකක් ඇසුරින් පැහැදිලි කරන්න

(ල.5)