

ශ්‍රී ලංකා විභාග දෙපාර්තමේන්තුව ශ්‍රී ලංකා විභාග දෙපාර්තමේන්තුව ශ්‍රී ලංකා විභාග දෙපාර්තමේන්තුව ශ්‍රී ලංකා විභාග දෙපාර්තමේන්තුව
 Department of Examinations, Sri Lanka Department of Examinations, Sri Lanka Department of Examinations, Sri Lanka Department of Examinations, Sri Lanka

අධ්‍යයන පොදු සහතික පත්‍ර (උසස් පෙළ) විභාගය, 2013 අගෝස්තු
 கல்விப் பொதுத் தராதரப் பத்திர(உயர் தர)ப் பரீட்சை, 2013 ஓகஸ்ட்
 General Certificate of Education (Adv. Level) Examination, August 2013

නව නිර්දේශය
 புதிய பாடத்திட்டம்
 New Syllabus

ආර්ථික විද්‍යාව I
 பொருளியல் I
 Economics I

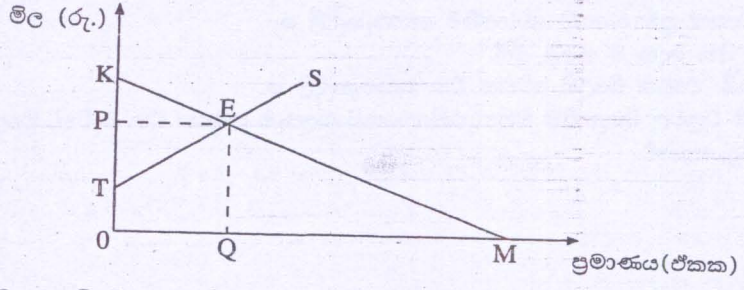
21 S I

පැය දෙකයි
 இரண்டு மணித்தியாலங்கள்
 Two hours

උපදෙස්:

- * සියලු ම ප්‍රශ්නවලට පිළිතුරු සපයන්න.
- * උත්තර පත්‍රයේ නියමිත ස්ථානයේ ඔබේ විභාග අංකය ලියන්න.
- * උත්තර පත්‍රයේ පිටුපස දී ඇති උපදෙස් ද, සැලකිල්ලෙන් කියවා පිළිපදින්න.
- * 1 සිට 50 තෙක් එක් එක් ප්‍රශ්නයට (1), (2), (3), (4), (5) යන පිළිතුරුවලින් නිවැරදි හෝ ඉතාමත් ගැලපෙන හෝ පිළිතුර තෝරාගෙන, එය උත්තර පත්‍රයේ පසුපස දක්වෙන උපදෙස් පරිදි කතිරයක් (X) යොදා දක්වන්න.

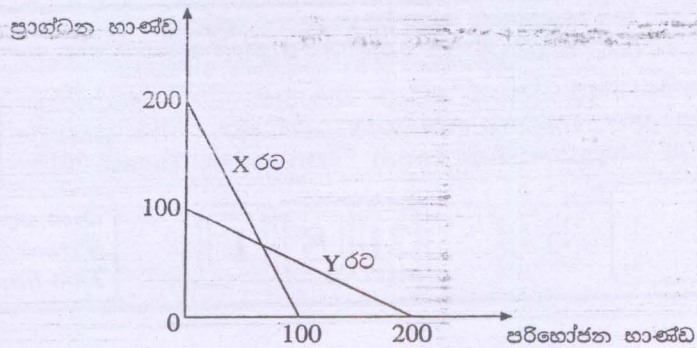
1. පහත සඳහන් ද අතුරෙන් අභිමතානුරූපී ප්‍රකාශයක් වනුයේ කවරක් ද?
 - (1) ආර්ථික විද්‍යාඥයෝ ස්වාභාවික සම්පත් ප්‍රතිස්ථාපනය කළ හැකි හා ප්‍රතිස්ථාපනය කළ නොහැකි වශයෙන් වර්ග කරති.
 - (2) පරිසරය හිඟ සම්පතකට උදහරණයක් වේ.
 - (3) අසීමිත වුවමනා සපුරාලීම සඳහා ආර්ථිකයක් සතුව ඇත්තේ සීමිත සම්පත් ප්‍රමාණයකි.
 - (4) වර්තමානයේ ශ්‍රී ලංකාවේ උද්ධමන අනුපාතිකය අංක එකේ සංඛ්‍යාවකි.
 - (5) ආදායම අසමාන ලෙස බෙදීයාම අසාධාරණ වේ.
2. පූර්ණ සේවා නියුක්තිය පවතින ආර්ථිකයක, ප්‍රාග්ධන ආයෝජනය ඉහළ නැංවීමේ ආවේණික පිරිවැය වනුයේ
 - (1) පරිභෝජනය පහළ වැටීම ය.
 - (2) ආදායම පහළ වැටීම ය.
 - (3) ඉතුරුම් ඉහළ නැගීම ය.
 - (4) පොලී අනුපාතිකය ඉහළ නැගීම ය.
 - (5) නිමැවුම පහළ වැටීම ය.
3. 'පරිවර්තන ආර්ථිකය' යන සංකල්පයෙන් විස්තර කෙරෙනුයේ
 - (1) ශ්‍රම සුක්ෂ්ම නිෂ්පාදන ක්‍රමලේඛ වෙනුවට ප්‍රාග්ධන සුක්ෂ්ම නිෂ්පාදන ක්‍රමලේඛ යොදා ගන්නා රටකි.
 - (2) මධ්‍යගත සැලසුම් ආර්ථිකයක සිට වෙළෙඳපොළ ආර්ථිකයක් කරා නැඹුරු වන රටකි.
 - (3) අඩු ආදායම් සහිත ආර්ථිකයක සිට මධ්‍යම ආදායම් සහිත ආර්ථිකයක් කරා නැඹුරු වන රටකි.
 - (4) වෙළෙඳ ශේෂයේ හිඟයක් සහිත තත්ත්වයක සිට වෙළෙඳ ශේෂයේ අතිරික්තයක් සහිත තත්ත්වයකට පත්වන රටකි.
 - (5) සාම්ප්‍රදායික ආර්ථිකයක සිට මධ්‍යගත සැලසුම් ආර්ථිකයක් කරා නැඹුරු වන රටකි.
4. මධ්‍යගත සැලසුම් ආර්ථිකයක දකිය හැකි වැදගත් ලක්ෂණයක් වනුයේ
 - (1) සාපේක්ෂ මිල ගණන් පදනම් කර ගනිමින් සම්පත් බෙදී යාම ය.
 - (2) ආර්ථික වෘද්ධියට බලපාන ප්‍රබල සාධකයක් ලෙස සම්පත් පිළිබඳ පෞද්ගලික හිමිකාරිත්වය පැවතීම ය.
 - (3) භාණ්ඩ හා සේවා වඩාත් හොඳින් නිෂ්පාදනය කළ හැකි ආකාරය පිළිබඳ තීරණ ආණ්ඩුවේ සැලසුම් සම්පාදකයන් විසින් ගැනීම ය.
 - (4) වෙළෙඳපොළ ආර්ථික පද්ධතියක පවතිනවාට වඩා ඉහළ මට්ටමේ කාර්යක්ෂමතාවක් අත්කර ගැනීම ය.
 - (5) ආදායම හා ධනය ඉතා අසමාන ආකාරයකට බෙදී යාම ය.
5. එක්තරා භාණ්ඩයක් සඳහා අදාළ වෙළෙඳපොළ ඉල්ලුම් හා සැපයුම් වක්‍ර රූපසටහනෙහි දක්වේ.



සමතුලිත ඒකක ප්‍රමාණය මිලදී ගැනීම සඳහා පාරිභෝගිකයන් විසින් ගෙවීමට කැමති මුළු මුදල් ප්‍රමාණය රූපසටහනෙහි නිරූපණය කෙරෙන ප්‍රදේශය වන්නේ

(1) OQEP ය. (2) OTEQ ය. (3) PEK ය. (4) OKM ය. (5) OKEQ ය.

6. X හා Y යන රටවල් දෙකට අදාළ නිෂ්පාදන හැකියා වක්‍ර පහත සඳහන් රූපසටහන පෙන්වුණි කරයි.



මේ රටවල් දෙක සම්බන්ධයෙන් නිවැරදි ප්‍රකාශය වනුයේ කවරක් ද?

- (1) රටවල් දෙකේ ම එක හා සමාන වූ ආවස්ථික පිරිවැයක් හැමවිට ම පවතී.
- (2) රටවල් දෙකේ ම අනාගත වෘද්ධි අපේක්ෂා එක සමාන වේ.
- (3) රටවල් දෙකේ ම ආවස්ථික පිරිවැය වැඩි වෙමින් පවතී.
- (4) රටවල් දෙකේ ම එක සමාන වූ භාණ්ඩ සංයෝජනයක් කිසිවිටකත් නිපදවිය නොහැකි ය.
- (5) පරිභෝජන භාණ්ඩ නිෂ්පාදනයේ දී X රටේ ආවස්ථික පිරිවැය Y රටේ ආවස්ථික පිරිවැයට වඩා වැඩි ය.

7. අදාළ භාණ්ඩය සඳහා ඇති කිට්ටු ම ආදේශක භාණ්ඩවල මිල සැලකිල්ලට ගනිමින්, කිසියම් සමාගම් පහක් විසින් නිපදවනු ලබන භාණ්ඩ සඳහා ඇති ඉල්ලුමේ හරස් මිල නම්‍යතා පහත සඳහන් වගුවේ දක්වේ.

සමාගම	හරස් මිල ඉල්ලුම් නම්‍යතාව
A සමාගම	+ 3.0
B සමාගම	+ 2.5
C සමාගම	+ 1.0
D සමාගම	+ 0.8
E සමාගම	+ 0.2

මේ අනුව ඉහත සමාගම් අතුරෙන් වැඩි ම වෙළෙඳපොළ බලය හිමි ව ඇත්තේ කවර සමාගමකට ද?

- (1) A සමාගමට ය.
- (2) B සමාගමට ය.
- (3) C සමාගමට ය.
- (4) D සමාගමට ය.
- (5) E සමාගමට ය.

8. පහත දී ඇති අවස්ථා අතුරෙන් නිෂ්පාදන ආයතනයේ මුළු අයහාරය පහළ වැටෙනුයේ කවර අවස්ථාවක දී ද?

- (1) සැපයුම නම්‍ය තත්ත්වයක තිබියදී මිල ඉහළ යන විට
- (2) ඉල්ලුම නම්‍ය තත්ත්වයක තිබියදී මිල පහළ යන විට
- (3) ඉල්ලුම අනම්‍ය තත්ත්වයක තිබියදී මිල ඉහළ යන විට
- (4) ඉල්ලුම නම්‍ය තත්ත්වයක තිබියදී මිල ඉහළ යන විට
- (5) ඉල්ලුම ඒකීය නම්‍ය තත්ත්වයක තිබියදී මිල පහළ යන විට

9. X බාල භාණ්ඩයක් වේ නම්, ආදායමෙහි හටගන්නා පහළ වැටීමක් නිසා එම භාණ්ඩයෙහි

- (1) ඉල්ලුම අඩු වේ, මිල අඩු වේ, ඉල්ලුම් කරනු ලබන ප්‍රමාණය අඩු වේ.
- (2) ඉල්ලුම අඩු වේ, මිල වැඩි වේ, ඉල්ලුම් කරනු ලබන ප්‍රමාණය අඩු වේ.
- (3) ඉල්ලුම වැඩි වේ, මිල වැඩි වේ, ඉල්ලුම් කරනු ලබන ප්‍රමාණය අඩු වේ.
- (4) සැපයුම වැඩි වේ, මිල අඩු වේ, ඉල්ලුම් කරනු ලබන ප්‍රමාණය වැඩි වේ.
- (5) ඉල්ලුම වැඩි වේ, මිල වැඩි වේ, ඉල්ලුම් කරනු ලබන ප්‍රමාණය වැඩි වේ.

10. දෙඩම් වෙළෙඳපොළ දැනට සමතුලිතතාවේ පවති යැයි සලකන්න. දෙඩම් සඳහා ඉල්ලුම වැඩි වෙමින් තිබියදී දෙඩම් සැපයුම අඩු වුවහොත් වෙළෙඳපොළ මිල හා ප්‍රමාණය කෙරෙහි ඇති වන බලපෑම පිළිබඳ ව කිව හැක්කේ කුමක් ද?

- (1) මිල හා ප්‍රමාණය යන දෙක ම ඉහළ නැගී.
- (2) මිල ඉහළ නැගී. එහෙත් ප්‍රමාණයෙහි වෙනස්වීම නොපැහැදිලි ය.
- (3) මිල හා ප්‍රමාණය යන දෙක ම පහළ බසී.
- (4) ප්‍රමාණය ඉහළ නැගී. එහෙත් මිලෙහි වෙනස් වීම නොපැහැදිලි ය.
- (5) ඉල්ලුම් හා සැපයුම් වක්‍රවල විතැන්වීම් මගින් එකිනෙකෙහි බලපෑම සමහන් වන බැවින්, මිලෙහි හෝ ප්‍රමාණයෙහි කිසිදු වෙනසක් සිදු නොවේ.

11. සිගරට් සඳහා ඇති ඉල්ලුමේ මිල නම්‍යතාව 1 ට වඩා අඩු යැයි සලකන්න. සිගරට් නිෂ්පාදනය මත දේශීය භාණ්ඩ බද්දක් පනවනු ලැබූ විට, භාණ්ඩයේ මිල, ප්‍රමාණය හා පාරිභෝගික පැහැදීම වෙනස් වනුයේ පහත සඳහන් කවර ආකාරයට ද?

	මිල	ප්‍රමාණය	පාරිභෝගික පැහැදීම
(1)	අඩු වේ.	වැඩි වේ.	වැඩි වේ.
(2)	අඩු වේ.	අඩු වේ.	අඩු වේ.
(3)	වැඩි වේ.	අඩු වේ.	අඩු වේ.
(4)	වැඩි වේ.	අඩු වේ.	වැඩි වේ.
(5)	වැඩි වේ.	වැඩි වේ.	වැඩි වේ.

12. දිවා සුරැකුම් මධ්‍යස්ථාන වෙත යොමු කෙරෙන දරුවන් වෙනුවෙන් වැය කිරීමට සිදුවන පිරිවැය ආවරණය කරගනු වස් රජය විසින් සෑම දෙමව්පියෙකුට ම එක් එක් දරුවා වෙනුවෙන් සහනාධාර කුපන් පතක් දෙනු ලැබූ යැයි සලකන්න. මේ නිසා දිවා සුරැකුම් සේවා සැපයුම් වෙළෙඳපොළෙහි කෙබඳු වෙනසක් ඇති විය හැකි ද?

- (1) දිවා සුරැකුම් සේවා සඳහා ඉල්ලුම අඩු වන අතර මිල පහළ බසී.
- (2) දිවා සුරැකුම් සේවා සඳහා ඉල්ලුම වැඩි වන අතර මිල ඉහළ නගී.
- (3) දිවා සුරැකුම් සේවා සැපයුම වැඩි වන අතර මිල පහළ බසී.
- (4) දිවා සුරැකුම් සේවා සැපයුම අඩු වන අතර මිල ඉහළ නගී.
- (5) දිවා සුරැකුම් සේවා සැපයුමේ හිඟයක් දිගින් දිගට ම හට ගනී.

13. පාරිභෝගික අතිරික්තය ශුන්‍ය අගයක් ගැනීමට අවශ්‍ය කරන කොන්දේසිය වනුයේ

- (1) ඉල්ලුම පූර්ණ මිල නම්‍යතාවෙන් යුක්ත වීම ය.
- (2) ඉල්ලුම පූර්ණ මිල අනම්‍යතාවෙන් යුක්ත වීම ය.
- (3) සැපයුම පූර්ණ මිල නම්‍යතාවෙන් යුක්ත වීම ය.
- (4) සැපයුම පූර්ණ මිල අනම්‍යතාවෙන් යුක්ත වීම ය.
- (5) ඉල්ලුමේ මිල නම්‍යතාව සාපේක්ෂ වශයෙන් සැපයුමේ මිල නම්‍යතාවට වඩා ඉහළ අගයක් ගැනීම ය.

14. 'සාමාන්‍ය භාණ්ඩයක්' සඳහා වන වෙළෙඳපොළක, අලෙවි කරනු ලබන භාණ්ඩ ඒකක ප්‍රමාණයන්, මිලක් යන දෙක ම එකවර ඉහළ යාම පැහැදිලි කළ හැක්කේ පහත සඳහන් ද අතුරෙන් කවරක් මගින් ද?

- (1) එම භාණ්ඩය සම්බන්ධයෙන් ක්‍රියාත්මක කරන ලද සඵල උපරිම මිල ප්‍රතිපත්තිය ඉවත් කර දැමීම
- (2) භාණ්ඩය නිෂ්පාදනය කිරීමේ දී හට ගත් තාක්ෂණික දියුණුව
- (3) භාණ්ඩය මත බද්දක් පැනවීම
- (4) එම භාණ්ඩයේ නිෂ්පාදකයන්ට සහනාධාරයක් ලබා දීම
- (5) එම භාණ්ඩය සඳහා ඇති ආදේශක භාණ්ඩයක මිල පහළ යාම

15. ශ්‍රමයේ ආන්තික ඵලදාව, ශ්‍රමයේ සාමාන්‍ය ඵලදාවට සමාන වන විට

- (1) ශ්‍රමයේ ආන්තික ඵලදාව උපරිම වේ.
- (2) නිෂ්පාදනයේ ආන්තික පිරිවැය අවම වේ.
- (3) නිෂ්පාදනයේ ආන්තික පිරිවැය අවම සාමාන්‍ය විචල්‍ය පිරිවැයට සමාන වේ.
- (4) සාමාන්‍ය මුළු පිරිවැය, අවම අගයක් ගනී.
- (5) ශ්‍රමයේ මුළු ඵලදාව උපරිම වේ.

16. කිසියම් නිෂ්පාදන ආයතනයක ශ්‍රම හමුදාවේ ප්‍රමාණය දිනකට ශ්‍රමිකයින් 100 සිට 101 දක්වා වැඩි කරන විට, ශ්‍රමිකයෙකුගේ දෛනික වැටුප ද රු. 600 සිට රු. 650 දක්වා ඉහළ නැංවීමට නිෂ්පාදන ආයතනයට සිදු වේ. මේ ශ්‍රම ඵලදාව එක් දිනක දී ශ්‍රමයේ ආන්තික පිරිවැය කොපමණ වේ ද?

- (1) රු. 50 කි. (2) රු. 650 කි. (3) රු. 5 650 කි. (4) රු. 60 000 කි. (5) රු. 65 650 කි.

17. කිසියම් නිෂ්පාදන ආයතනයක වාර්ෂික නිෂ්පාදන පිරිවැය ආර්ථික විද්‍යාඥයෙකු විසින් ගණනය කොට, පහත සඳහන් ආකාරයට ඉදිරිපත් කර ඇත.

අයිතමය	පිරිවැය (රු.දහස් ගණනින්)
වැටුප් සහ වේතන	150
අයිතිකරුවාගේ කාලයෙහි ආවස්ථික පිරිවැය	40
උව්‍ය මිල දී ගැනීම සඳහා පිරිවැය	80
බදු කුලිය	30
අලෙවිකරණ පිරිවැය	20
බැංකු ණය සඳහා පොලී ගෙවීම්	25
අයිතිකරුවා ම යොදන ලද ප්‍රාග්ධනයෙහි අහිමි වූණු පොලී ආදායම්	15

මෙම තොරතුරුවලට අනුව ආර්ථික විද්‍යාඥයෙකු විසින් නිර්වචනය කරනු ලබන මුළු පිරිවැය, ගණකාධිකාරීවරයෙකු විසින් නිර්වචනය කරනු ලබන මුළු පිරිවැයට වඩා කොතරම් ප්‍රමාණයකින් ඉක්මවා යනු ලැබේ ද?

- (1) රු. 30 500 යි. (2) රු. 55 000 යි. (3) රු. 85 000 යි.
- (4) රු. 305 000 යි. (5) රු. 360 000 යි.

18. A නමැති නිෂ්පාදන සමාගමේ ශ්‍රමිකයන් සංඛ්‍යාව 250 සිට 200 දක්වා අඩු කළ විට, සමාගමේ දෛනික නිෂ්පාදනය ඒකක 5 000 සිට 4 800 දක්වා පහළ බසී. B නමැති නිෂ්පාදන සමාගමේ ශ්‍රමිකයන් සංඛ්‍යාව 800 සිට 1000 දක්වා වැඩි කළ විට, එම සමාගමේ දෛනික නිෂ්පාදනය ඒකක 2000 සිට 2200 දක්වා ඉහළ නගී. මෙම ආයතන දෙකෙහි ශ්‍රම ඵලදායිතාවේ කෙබඳු වෙනසක් දක්නට ලැබේ ද?

	A සමාගමේ ශ්‍රම ඵලදායිතාව	B සමාගමේ ශ්‍රම ඵලදායිතාව
(1)	පහළ බසී.	ඉහළ නගී.
(2)	ඉහළ නගී.	පහළ බසී.
(3)	ඉහළ නගී.	ඉහළ නගී.
(4)	පහළ බසී.	පහළ බසී.
(5)	ඉහළ නගී.	නොවෙනස්ව පවතී.

19. එක්කරා කර්මාන්තයක් නිෂ්පාදන ආයතන විශාල සංඛ්‍යාවකින් සමන්විත වන අතර, ඒ සෑම ආයතනයක් ම සමජාතීය වූ භාණ්ඩ නිෂ්පාදනය කරයි. මෙම කර්මාන්තය තුළ එක් එක් ආයතනය මුහුණ දෙන ඉල්ලුම් වක්‍ර පහළට බැටුම් වන්නේ නම්, එය පැහැදිලි කළ හැක්කේ පහත සඳහන් කවර කරුණක් මගින් ද?

- (1) සියලු ම ආයතන මිල ගනුවන් ලෙස ක්‍රියා කිරීම
- (2) අබාධ ප්‍රවේශය සහ පිටවීම
- (3) නිෂ්පාදන සම්පත් පිළිබඳ පූර්ණ සංචලතාව
- (4) භාණ්ඩ සඳහා වියදම් කිරීමට පාරිභෝගිකයන් සිතුව ඇති මුදල් ප්‍රමාණය සීමිත වීම
- (5) වෙළෙඳපොළ තොරතුරු පිළිබඳ පූර්ණ දැනුමක් පාරිභෝගිකයින්ට නොතිබීම

20. පූර්ණ තරගකාරී නිෂ්පාදන ආයතනයක් සතියකට සහල් මලු 200ක් නිෂ්පාදනය කොට, මල්ලක් රු. 250 බැගින් වූ මිලකට අලෙවි කරයි. එම ආයතනයේ පිරිවැය පහත දක්වේ.

අයිතමය	පිරිවැය (රු.)
මුළු ස්ථාවර පිරිවැය	20 000
මුළු විචල්‍ය පිරිවැය	40 000
ආන්තික පිරිවැය	250

කෙටි කාලයේ දී ලාභය උපරිම කිරීමට හෝ අලාභය අවම කර ගැනීමට හෝ ආයතනය කුමක් කළ යුතු වේ ද?

- (1) නිෂ්පාදනය මුළුමනින් ම අත්හිටුවීම
- (2) නිමැවුම ප්‍රසාරණය කිරීම
- (3) නිමැවුම සංකෝචනය කිරීම
- (4) මිල පහළ හෙළීම
- (5) වර්තමාන මට්ටමෙහි ම නිමැවුම පවත්වා ගැනීම

21. මූර්ත දළ දේශීය නිෂ්පාදිතයේ ප්‍රමාණය කෙරෙහි බලපෑමක් ඇති නොවනුයේ පහත සඳහන් කවරක් නිසා ද?

- (1) පෞද්ගලික පරිහරණය සඳහා පාරිභෝගිකයකු විසින් අලුත් මෝටෝරයක් මිලට ගැනීම
- (2) ආණ්ඩුව ආරක්ෂක විද්‍යා පීඨයට නව බස් රථයක් මිලට ගැනීම
- (3) පාරිභෝගිකයකු විසින් බාබර් සාප්පුවකින් කොණ්ඩය කප්පවා ගැනීම
- (4) ආයෝජකයකු විසින් දුර්ලභ ගණයේ පැරණි චිත්‍රයක් වෙන්දේසියකින් මිලදී ගැනීම
- (5) නිෂ්පාදන සමාගමක් තම කර්මාන්ත ශාලාව සඳහා විදුලි ජනන යන්ත්‍රයක් මිලදී ගැනීම

22. ස්වාධීන පරිභෝජනය රු. 400ක් ද, ආන්තික පරිභෝජන නැමියාව 0.8ක් ද වේ යැයි සලකන්න. වැය කළ හැකි ආදායම රු. 1200කින් ඉහළ ගියහොත්, පරිභෝජන වියදම වැඩි වනුයේ

- (1) රු. 1 600 කිනි.
- (2) රු. 1 360 කිනි.
- (3) රු. 1 200 කිනි.
- (4) රු. 960 කිනි.
- (5) රු. 400 කිනි.

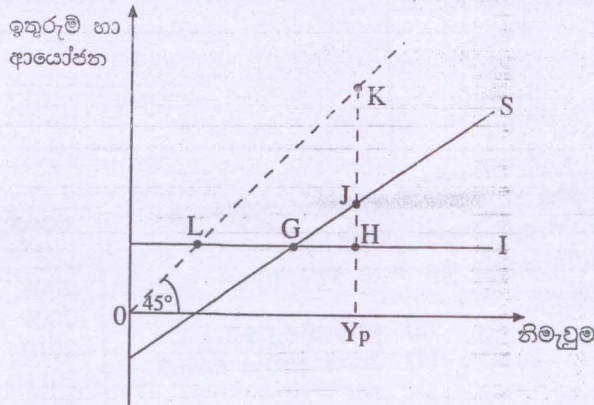
23. ආන්තික ඉතුරුම් නැමියාව 0.25 ක් සහිත ස්ථාවර බදු පමණක් දක්නට ලැබෙන ආවෘත ආර්ථිකයක, ආණ්ඩුවේ මිලදී ගැනීම් රු. බිලියන 80 කින් ඉහළ යාමක් කරණකොටගෙන නිමැවුම උපරිම වශයෙන් වැඩි වනුයේ

- (1) රුපියල් බිලියන 80 කිනි.
- (2) රුපියල් බිලියන 80.25 කිනි.
- (3) රුපියල් බිලියන 160 කිනි.
- (4) රුපියල් බිලියන 240 කිනි.
- (5) රුපියල් බිලියන 320 කිනි.

24. රජයේ කටයුතු නොමැති ආවෘත ආර්ථිකයක පරිභෝජන ශ්‍රිතය $C = 30 + 0.7Y$ (C = පරිභෝජන වියදම, Y = ආදායම) වේ. මෙම ආර්ථිකයේ සමතුලිත ආදායම රු. මිලියන 300 ක් වේ නම්, ආයෝජන මට්ටම කොපමණ වේ ද?

- (1) රුපියල් මිලියන 60 කි.
- (2) රුපියල් මිලියන 100 කි.
- (3) රුපියල් මිලියන 210 කි.
- (4) රුපියල් මිලියන 240 කි.
- (5) රුපියල් මිලියන 300 කි.

25. රජයේ කටයුතු තොරතුරු ආවෘත ආර්ථිකයක ඉතුරුම් හා ආයෝජන ඔහු රූපසටහනේ දැක්වේ.



මෙම ආර්ථිකයේ විභව නිමැවුම Y_p වේ. එබැවින් සැබෑ නිමැවුම සහ විභව නිමැවුම අතර පරතරය ප්‍රස්ථාරික ව මැනෙනුයේ

- (1) LG මගිනි. (2) GH මගිනි. (3) JH මගිනි. (4) KJ මගිනි. (5) HK මගිනි.
26. දෙන ලද වර්ෂයක් තුළ පරිභෝජනය, ආයෝජනය හා ආණ්ඩුවේ මිල දී ගැනීම් සඳහා වැය වූ මුළු වියදම, රටේ මුළු දළ දේශීය නිෂ්පාදිතයේ වටිනාකමින් 103% ක් විය. මෙවැනි තත්ත්වයක් හට ගත හැක්කේ
- (1) මුදල් සැපයුම වැඩි වුවහොත් පමණි.
 (2) ශුද්ධ අපනයන ධන අගයක් ගනු ලැබුවහොත් පමණි.
 (3) ශුද්ධ අපනයන සෘණ අගයක් ගනු ලැබුවහොත් පමණි.
 (4) අයවැය ලේඛනයේ අතිරික්තයක් හට ගතහොත් පමණි.
 (5) තුලිත අයවැයක් ඇති වුවහොත් පමණි.

27. ආවෘත ආර්ථිකයක බැංකු පද්ධතිය තනි වාණිජ බැංකුවකින් පමණක් සමන්විත වේ යැයි ද, බැංකුව 10% ක සංචිත අනුපාතයක් යටතේ කටයුතු කරන අතර ගනුදෙනුකරුවන් රුපියල් 10 000 ක මුදලක් බැංකුවේ අලුතෙන් තැන්පත් කරන්නේ යැයි ද සලකන්න. රට තුළ සංසරණය වන ව්‍යවහාර මුදල් ප්‍රමාණයේ වෙනස්කම් කිසිවක් පසුව සිදු නොවේ යැයි උපකල්පනය කළහොත්, මෙම තැන්පතුව නිසා බැංකුවට ලබා දිය හැකි උපරිම ණය ප්‍රමාණය කොපමණ යම් ද?

(1) රුපියල් 1 000 කි. (2) රුපියල් 9 000 කි. (3) රුපියල් 10 000 කි.
 (4) රුපියල් 90 000 කි. (5) රුපියල් 100 000 කි.

28. තේන්සියානු විග්‍රහයට අනුව මුදලට ඇති ඉල්ලුම වැඩි විය හැක්කේ සහන සඳහන් කවර තත්ත්වයක් යටතේ ද?

	මූර්ත ආදායම	මිල මට්ටම	පොලී අනුපාතිකය
(1)	වැඩි වීම	අඩු වීම	වැඩි වීම
(2)	ස්ථාවරව තිබීම	ස්ථාවරව තිබීම	වැඩි වීම
(3)	වැඩි වීම	වැඩි වීම	අඩු වීම
(4)	ස්ථාවරව තිබීම	අඩු වීම	අඩු වීම
(5)	අඩු වීම	ස්ථාවරව තිබීම	වැඩි වීම

29. ආර්ථිකය පුරුණ සේවා නියුක්තියේ පවති යැයි සලකන්න. මිල මට්ටම ස්ථාවරව පවත්වා ගනිමින් ආයෝජනය ඉහළ නැංවීමට ප්‍රතිපත්ති සම්පාදනයන් අපේක්ෂා කරන්නේ නම්, පහත සඳහන් මූල්‍ය හා රාජ්‍ය මූල්‍ය ප්‍රතිපත්තිවල කෙලෙස සංයෝගයක්, එම අරමුණ සාක්ෂාත් කරගැනීමට යෝග්‍ය වන්නේ ද?

	මූල්‍ය ප්‍රතිපත්තිය	රාජ්‍ය මූල්‍ය ප්‍රතිපත්තිය
(1)	නොවෙනස්ව තබාගැනීම	සංකෝචනාත්මක
(2)	ප්‍රසාරණාත්මක	නොවෙනස්ව තබාගැනීම
(3)	ප්‍රසාරණාත්මක	සංකෝචනාත්මක
(4)	ප්‍රසාරණාත්මක	ප්‍රසාරණාත්මක
(5)	සංකෝචනාත්මක	ප්‍රසාරණාත්මක

30. ආර්ථිකය, පසුබෑමකින් හෙවත් ප්‍රතිගමනාත්මක තත්ත්වයකින් (recession) මුදවා ගැනීම සඳහා යෝග්‍ය මූල්‍ය හා රාජ්‍ය මූල්‍ය ප්‍රතිපත්තිවල සංයෝගය පහත සඳහන් ඒවා අතුරෙන් කවරක් වේ ද?

(1) බදු සහ මුදල් සැපයුම යන දෙක ම පහත හෙළීම
 (2) බදු සහ මුදල් සැපයුම යන දෙක ම ඉහළ දැමීම
 (3) ආණ්ඩුවේ මිලදී ගැනීම් ඉහළ නැංවීම හා මහ බැංකුවේ පොලී අනුපාතික පහත හෙළීම
 (4) බදු සහ වට්ටම් අනුපාතික යන දෙක ම ඉහළ නැංවීම
 (5) හිඟ අයවැය ප්‍රතිපත්තියක් යොදා ගැනීම සහ රජය විවෘත වෙළෙඳපොළේ සුරැකුම්පත් අලෙවි කිරීම

31. එක්තරා ආර්ථිකයක වර්ෂයක් තුළ මුළු නිමැවුම 2%කින් ද, මුදල් තොගය 5%කින් ද ඉහළ යයි සලකන්න. මුදල් සංසරණ ප්‍රවේගය නොවෙනස්ව පවතින්නේ නම්, මෙම තත්ත්වය යටතේ මිල මට්ටම හා මුළු නිමැවුමේ නාමික වටිනාකම ආසන්න වශයෙන් කෙතරම් ප්‍රමාණයකින් ඉහළ යයි ද?

	මිල මට්ටම ඉහළ යාම	මුළු නිමැවුමේ නාමික අගය ඉහළ යාම
(1)	2%	5%
(2)	2%	7%
(3)	2.5%	10%
(4)	3%	5%
(5)	3%	7%

32. 2008-2012 කාලය තුළ කිසියම් රටක දළ දේශීය නිෂ්පාදිතයේ නාමික අගය දර්ශක අංක මගින් ඉදිරියෙන් ඇති වගුවේ දක්වේ.

වර්ෂය	ද.දේ. නිෂ්පාදිතයේ නාමික අගය
2008	100
2009	96
2010	90
2011	85
2012	83

මෙම දත්තවලට අනුව, 2008-2012 කාලය තුළ පහළ වැටී ඇතැයි නිගමනය කළ හැකි විචල්‍යය වනුයේ

- (1) සමාහාර ඉල්ලුමයි.
- (2) මූර්ත නිමැවුමයි
- (3) උද්ධමන අනුපාතිකයයි.
- (4) රජයේ අයවැය හිඟයයි.
- (5) වෙළෙඳ ශේෂයේ හිඟයයි.

33. නව දුම්රිය මාර්ගයක් ඉදිකිරීමේ දී අත් වන ප්‍රතිඵල ලෙස දක්වා ඇති පහත සඳහන් ද අතුරෙන් ධන බාහිරතාවක් ලෙස සැලකිය හැක්කේ කවරක් ද?

- (1) මහාමාර්ගවල සිදුවන රිය අනතුරු අඩුවීම
- (2) දුම්රිය දෙපාර්තමේන්තුවට ලැබෙන ලාභ ඉහළ යාම
- (3) සංචාරකයන් දුම්රියෙන් ගමන් කිරීම නිසා දුම්රිය දෙපාර්තමේන්තුවට ලැබෙන ආදායම වැඩිවීම
- (4) දුම්රියේ ගමන් කරන මගීන්ගේ ගමන් කාලය ඉතිරිවීම
- (5) දුම්රිය මාර්ගයට ආසන්නව සිටි පිටි බඩම් වර්ෂාකම අඩුවීම

34. 'ශුභසාධන භාණ්ඩයක්' යනු

- (1) එකිනෙකාගේ සුදුසුකම් මත පාරිභෝගිකයින් වෙත ලබාදෙන භාණ්ඩයකි.
- (2) එම භාණ්ඩය නිදහස් වෙළෙඳපොළ මගින් සැපයුවහොත් පාරිභෝගිකයින් මිලදී ගනු ඇත්තේ ඉතා මද වශයෙන් යැයි රජය විශ්වාස කරන භාණ්ඩයකි.
- (3) එම භාණ්ඩය නිදහස් වෙළෙඳපොළ මගින් සැපයුවහොත්, පාරිභෝගිකයින් විසින් අවශ්‍ය ප්‍රමාණයටත් වැඩියෙන් මිල දී ගනු ඇතැයි රජය විශ්වාස කරන භාණ්ඩයකි.
- (4) යම් භාණ්ඩයකින් එක් පාරිභෝගිකයෙකු ලබන ප්‍රතිලාභය, සියලු ම පාරිභෝගිකයින් වෙතට ද ලබා දිය හැකි භාණ්ඩයකි.
- (5) යම් භාණ්ඩයක් පරිභෝජනය කිරීමෙන් ලබන පෞද්ගලික ප්‍රතිලාභය, එහි සමාජීය ප්‍රතිලාභ ඉක්මවන භාණ්ඩයකි.

35. ප්‍රතික්‍රමික බද්දක් යනු

- (1) සියලු ම බදු ගෙවන්නන් තම ආදායමෙන් නිරපේක්ෂ වශයෙන් සමාන ආදායම් ප්‍රමාණයක් බදු වශයෙන් ගෙවීම ය.
- (2) ඉහළ ආදායම් ලබන්නන් තම ආදායමෙන්, පහළ ආදායම් ලබන්නන්ට වඩා අඩු ප්‍රතිශතයක් බදු වශයෙන් ගෙවීම ය.
- (3) ඉහළ ආදායම් ලබන්නන්, පහළ ආදායම් ලබන්නන්ට වඩා අඩු මුදල් ප්‍රමාණයක් බදු වශයෙන් ගෙවීම ය.
- (4) ඉහළ ආදායම් ලබන්නන්, පහළ ආදායම් ලබන්නන්ට වඩා වැඩි මුදල් ප්‍රමාණයක් බදු වශයෙන් ගෙවීම ය.
- (5) බදු බර පසුපසට විතැන් කළ හැකි බද්දකි.

36. පහත දක්වන වගුව A හා B යන රටවල් දෙකට සංයුක්ත සම්පත් එකකයක් භාවිත කොට නිෂ්පාදනය කරනු ලබන X හා Y යන භාණ්ඩවල නිමැවුම් ප්‍රමාණ පෙන්නුම් කරයි.

භාණ්ඩය	A රට	B රට
X	100	300
Y	200	400

එක් එක් රට තමනට සාපේක්ෂ වාසි පවතින භාණ්ඩය පිළිබඳ විශේෂීකරණය කරයි නම්, රටවල් දෙකට ම වෙළෙඳමෙන් වාසි ලබා ගත හැකි හුවමාරු අනුපාතිකය කුමක් ද?

- (1) $1X = 1Y$
- (2) $1X = 1.3Y$
- (3) $1X = 1.5Y$
- (4) $1X = 2Y$
- (5) $1X = 3Y$

37. ශ්‍රී ලාංකික නිෂ්පාදන ආයතනයක් එක්සත් ජනපද ඩොලර් මිලියන 10ක් වටිනා ටයර්, එක්සත් රාජධානියේ සමාගමකට අපනයනය කරයි. ද්විත්ව සටහන් ක්‍රමය යටතේ ගිණුම් තැබීමේ දී මෙම ගනුදෙනුව මගින් බලපෑමක් ඇතිවන්නේ ගෙවුම් ශේෂයේ කවර ගිණුම් කොටස් දෙකට ද?

- (1) වර්තන ගිණුමේ අපනයන හා ප්‍රාග්ධන ගිණුමේ ප්‍රාග්ධන සංක්‍රාම
- (2) වර්තන ගිණුමේ අපනයන හා වර්තන ගිණුමේ ආදායම්
- (3) වර්තන ගිණුමේ අපනයන හා මූල්‍ය ගිණුමේ සංචිත වත්කම්
- (4) මූල්‍ය ගිණුමේ වගකීම් හා මූල්‍ය ගිණුමේ අනේවාසිකයන් මත හිමිකම්
- (5) වර්තන ගිණුමේ අපනයන හා මූල්‍ය ගිණුමේ අනේවාසිකයන් මත හිමිකම්

38. ක්‍රීඩියම් රටක සංඛ්‍යා ලේඛන දෙපාර්තමේන්තුවට එහි අවසාන ගෙවුම් ශේෂ ගිණුම් සකසා ඉදිරිපත් කිරීමට අවශ්‍යව ඇත. එම දෙපාර්තමේන්තුව මගින් වර්තන ගිණුමේ ශේෂය, ප්‍රාග්ධන ගිණුමේ ශේෂය හා මූල්‍ය ගිණුමේ ශේෂය ගණනය කර ඇත. ඉහත තාර්යය සම්පූර්ණ කිරීම සඳහා අවශ්‍ය වන අමතර තොරතුරු වනුයේ
- (1) විදේශ මුදල් සංචිත වෙනස්වීම් ය.
 - (2) විදේශ ආධාර ය.
 - (3) වැරදිම් හා අත්හැරීම් ය.
 - (4) සමපේක්ෂණ මුදල් ලැබීම් ය.
 - (5) කළඹ ආයෝජන වෙනස්වීම් ය.
39. එක්තරා රටක වෙළෙඳ අනුපාතය වර්තමානයේ 150 (පාද වර්ෂය 2010 = 100) කි. 2010න් පසුව එම රටේ අපනයන සඳහා ලැබුණු සාමාන්‍ය මිල 20% කින් වැඩි වී ඇත්නම්, ආනයන සඳහා එම රට ගෙවා ඇති සාමාන්‍ය මිල වෙනස් වී ඇත්තේ
- (1) -50% කිනි.
 - (2) -25% කිනි.
 - (3) -20% කිනි.
 - (4) +20% කිනි.
 - (5) +25% කිනි.
40. යම් තෝරා ගන්නා ලද භාණ්ඩ පැයක් සඳහා ඇමෙරිකාවේ දී ගෙවීමට සිදුවන මිල ඩොලර් 120 කි. ඒ හා සමාන වූ පැයක් සඳහා ශ්‍රී ලංකාවේ දී ගෙවීමට සිදුවන මිල රුපියල් 9 600 කි. මෙමගින් කිව හැක්කේ
- (1) රුපියලේ බාහිර අගය 25%කින් අධිකස්ථරු වී ඇති බව ය.
 - (2) රුපියලේ බාහිර අගය 20%කින් උභත තක්සේරු වී ඇති බව ය.
 - (3) ක්‍රය ශක්ති සාමාන විනිමය අනුපාතිකය ඩොලරයකට රුපියල් 96 ක් බව ය.
 - (4) ක්‍රය ශක්ති සාමාන විනිමය අනුපාතිකය ඩොලරයකට රුපියල් 80 ක් බව ය.
 - (5) ක්‍රය ශක්ති සාමාන විනිමය අනුපාතිකය රුපියලකට ඩොලර් 0.10 ක් බව ය.
41. දියුණු වෙමින් පවතින රටවලට ලැබෙන විදේශ සාප්පු ආයෝජන නිසා
- (1) දේශීය වැටුප් මට්ටම් පහළ වැටේ.
 - (2) සංවර්ධනය වෙමින් පවතින රටවල බදු ආදායම පහළ වැටේ.
 - (3) දේශීය ජනතාවට ලබා ගත හැකි විවිධ පාරිභෝගික භාණ්ඩ සංඛ්‍යාව අඩු වේ.
 - (4) ආයෝජනයෙන් ලැබෙන ශුද්ධ විදේශ ආදායම් ප්‍රවාහ අයහපත් වේ.
 - (5) ගෙවුම් ශේෂයේ ප්‍රාග්ධන ගිණුම අයහපත් වේ.
42. ක්‍රීඩියම් රටක ප්‍රතිශීර්ෂ ආදායම සාපේක්ෂ වශයෙන් පහළ මට්ටමක පවතින විට, ඒ හා බැඳුණු තවත් ලක්ෂණයක් ලෙස දැකිය හැක්කේ
- (1) ඉතුරුම් අනුපාතිකය ඉහළ අගයක් ගැනීම ය.
 - (2) ආර්ථික වර්ධන අනුපාතිකය පහළ අගයක් ගැනීම ය.
 - (3) උද්ධමන අනුපාතිකය පහළ අගයක් ගැනීම ය.
 - (4) ජනගහන වර්ධන අනුපාතිකය පහළ අගයක් ගැනීම ය.
 - (5) සේවා නියුක්ති අනුපාතිකය ඉහළ අගයක් ගැනීම ය.
43. වඩා වේගවත් ආර්ථික වර්ධනයක් ජනනය කිරීමට වැඩි හැකියාවක් ඇති සාධක සංයෝගයක් වන්නේ
- (1) සේවා නියුක්තියත්, ගෙවුම් ශේෂයේ හිඟයත් ඉහළ යාම ය.
 - (2) ආයෝජන මට්ටමත්, වැඩ කරන ජනගහනයේ ප්‍රමාණයත් ඉහළ යාම ය.
 - (3) ධනය වඩාත් සමාන ලෙස බෙදී යාම හා සංක්‍රාම ගෙවීම් ඉහළ මට්ටමක තිබීම ය.
 - (4) උද්ධමනය වේගවත් වීම හා ජාතික ණය ප්‍රමාණය ඉහළ යාම ය.
 - (5) විදේශ සාප්පු ආයෝජන හා පොලී අනුපාතික ඉහළ යාම ය.
44. දෙන ලද වර්ෂයක් තුළ A,B,C,D හා E යන රටවල පරිභෝජනය, දළ ප්‍රාග්ධන සම්පාදනය හා ක්ෂයවීම් පිළිබඳ සංඛ්‍යා දත්ත පහත සඳහන් වගුව පෙන්වුම් කරයි. (සියලු ම අගයන් මිනුම් කර ඇත්තේ ඇමෙරිකානු ඩොලර් මිලියනවලිනි.)

රට	පරිභෝජනය	දළ ප්‍රාග්ධන සම්පාදනය	ක්ෂයවීම්
A	200	40	50
B	500	200	150
C	1 000	1 200	1 400
D	5 000	6 000	6 000
E	10 000	8 000	8 200

- මෙම රටවල පවතින තාක්ෂණයේ වෙනසක් සිදු නොවේ නම්, ඉහත කොරතුරු අනුව ආර්ථික වර්ධනයක් අත්පත් කර ගැනීමට වඩාත් ඉඩකඩ ඇති රට කුමක් ද?
- (1) A
 - (2) B
 - (3) C
 - (4) D
 - (5) E
45. 'සැපයුම් පාර්ශ්වයේ ප්‍රතිපත්ති' යන්නෙන් අදහස් කෙරෙනුයේ
- (1) එලදයිතාව දියුණු කෙරෙන සහ වෙළෙඳපොළ අප්‍රවණතා අඩු කෙරෙන ප්‍රතිපත්ති වේ.
 - (2) හැකි තරම් භාණ්ඩ හා සේවා සැපයීමට රජයට හැකියාව ලබා දෙන ප්‍රතිපත්ති වේ.
 - (3) සේවා විද්‍යුක්ති ගැටලුව අවම වන ආකාරයට ශ්‍රම සැපයුම අඩු කිරීමට හේතු වන ප්‍රතිපත්ති වේ.
 - (4) පොලී අනුපාතික පාලනය කිරීම මගින් උද්ධමනය අඩුකරන ප්‍රතිපත්ති වේ.
 - (5) සමාහාර ඉල්ලුම ඉහළ නංවන ප්‍රතිපත්ති වේ.

46. 2000-2010 කාලය තුළ එක්තරා ආර්ථිකයක මුළු ආදායම, විවිධ ආදායම් කාණ්ඩ අතර බෙදී ගිය ආකාරය පහත වගුව පෙන්වුම් කරයි.

ආදායම් කාණ්ඩය	මුළු ආදායමෙන් ගිම් වූ ප්‍රතිශතය	
	2000	2010
පහළ 10%	4.1	2.5
පහළ 20%	9.8	6.8
පහළ 30%	16.0	12.0
ඉහළ 30%	47.0	54.0
ඉහළ 20%	35.0	41.0
ඉහළ 10%	20.0	26.0

මෙම දත්ත මගින් නිගමනය කළ හැක්කේ අදාළ කාලය තුළ

- (1) පහළ ආදායම් කාණ්ඩවල ආදායම් අඩු වී ඇති බව ය.
 - (2) ආදායම් ව්‍යාප්තිය වඩාත් අසමාන වී ඇති බව ය.
 - (3) ධන ව්‍යාප්තිය වඩාත් අසමාන වී ඇති බව ය.
 - (4) මුළු ආදායම ඉහළ යාම නිසා සෑම දෙනාට ම වාසිදායක තත්ත්වයක් උදා වී ඇති බව ය.
 - (5) ගිනි සංගුණකයේ අගය අඩු වී ඇති බව ය.
47. පහත දැක්වෙන වෙනස්වීම් අතුරෙන් රටක් සංවර්ධනය වී ඇති බව හොඳින් ම ඇඟවෙන්නේ කවර වෙනස්වීමක් මගින් ද?
- (1) සාමාන්‍ය පුරවැසියකුගේ ජීවිතයේ ගුණාත්මක තත්ත්වයේ දියුණුවක් ඇති වීම
 - (2) රටේ මූර්ත දළ දේශීය නිෂ්පාදිතයේ ඉහළ යාම
 - (3) රටේ වෙළෙඳ ශේෂයෙහි දියුණුවක් ඇති වීම
 - (4) දේශීය මුදලෙහි විදේශ අගය ඉහළ යාම
 - (5) වැඩිහිටි සාක්ෂරතා අනුපාතය ඉහළ යාම

48. සංවර්ධනය ඉහළ නැංවීම සඳහා හොඳ ම ප්‍රතිපත්තිය වන්නේ 'ආධාර නොව වෙළෙඳාම' බව ආර්ථික විද්‍යාඥයන් විසින් යෝජනා කර ඇත. මෙම යෝජනාව මගින් ඇඟවෙන්නේ

- (1) සංවර්ධනය වෙමින් පවතින රටවල් ආධාර මත රඳා නොසිට, ස්වයංපෝෂිත විය යුතු බව ය.
- (2) සංවර්ධනය වෙමින් පවතින රටවලට, සංවර්ධිත රටවල වෙළෙඳපොළවලට ඇතුළුවීමට ඉඩකඩ ලබා දිය යුතු බව ය.
- (3) සංවර්ධනය වෙමින් පවතින රටවල් තම රටට ලැබුණු විදේශ ආධාර, අපනයන කාර්යාල සංවර්ධනය සඳහා ආයෝජනය කළ යුතු බව ය.
- (4) සංවර්ධනය වෙමින් පවතින රටවල් ආනයන ආදේශනය දිරි ගැන්වීම සඳහා, ආරක්ෂණවාදී ප්‍රතිපත්ති යොදා ගත යුතු බව ය.
- (5) සංවර්ධනය වෙමින් පවතින රටවල් වෙළෙඳ ශේෂයේ අතිරික්තයක් පවත්වා ගැනීම මගින්, සංවර්ධනය දිරිගැන්විය යුතු බව ය.

49. X නමැති රටෙහි ප්‍රජා විද්‍යාත්මක දත්තවලින් සමහරක් පහත දී ඇත.

අයිතමය	සංඛ්‍යාව (මිලියනවලින්)
මුළු ජනගහනය	180
ජනගහනය (අවුරුදු 10 හා ඉහළ)	150
සේවා නියුක්ත ජනගහනය	81
සේවා විද්‍යුක්ත ජනගහනය	09
ආර්ථික වශයෙන් සක්‍රීය නොවන ජනගහනය	60

ඉහත තොරතුරු අනුව X නමැති රට සඳහා සේවා විද්‍යුක්ති අනුපාතිකය හා ශ්‍රම බලකා සහභාගිත්ව අනුපාතිකය දැක්වෙන පිළිතුර කුමක් ද?

	සේවා විද්‍යුක්ති අනුපාතිකය	ශ්‍රම බලකා සහභාගිත්ව අනුපාතිකය
(1)	10.00%	60.00%
(2)	10.00%	53.33%
(3)	6.66%	50.00%
(4)	5.55%	50.00%
(5)	5.65%	33.33%

50. යම් දෙන ලද ආර්ථිකයක සේවා නියුක්තිය සහ සේවා විද්‍යුක්තිය යන දෙක ම, වසර 10ක කාල පරිච්ඡේදයක් තුළ ඉහළ ගොස් ඇත. මෙම තත්ත්වයට හේතු වන්නට ඇත්තේ පහත දැක්වෙන කවරක් ඉහළ යාම ද?

- (1) උපන් අනුපාතය
- (2) ආර්ථික වශයෙන් සක්‍රීය ජනගහනය
- (3) ආයු අපේක්ෂාව
- (4) යැපුම් අනුපාතය
- (5) රටින් පිටතට සිදුවන සංක්‍රමණ

ශ්‍රී ලංකා විභාග දෙපාර්තමේන්තුව ශ්‍රී ලංකා විභාග දෙපාර්තමේන්තුව ශ්‍රී ලංකා විභාග දෙපාර්තමේන්තුව
 இலங்கைப் பரீட்சைத் திணைக்களம் இலங்கைப் பரීட்சைத் திணைக்களம் இலங்கைப் பரීட்சைத் திணைக்களம்
 Department of Examinations - Sri Lanka Department of Examinations, Sri Lanka Department of Examinations, Sri Lanka

අධ්‍යයන පොදු සාහිතික පත්‍ර (උසස් පෙළ) විභාගය, 2013 අගෝස්තු
கல்வியப் பொதுத் தராதரப் பத்திர(உயர் தர)ப் பரீட்சை, 2013 ஓகஸ்ட்
General Certificate of Education (Adv. Level) Examination, August 2013

නව නිර්දේශය
புதிய பாடத்திட்டம்
New Syllabus

ආර්ථික විද්‍යාව II
 பொருளியல் II
 Economics II

21 S II

පැය තුනයි
 மூன்று மணித்தியாலம்
 Three hours

උපදෙස්:

- * “අ” උප කොටසෙන් අවම වශයෙන් ප්‍රශ්න දෙකක් ද “ආ” උප කොටසෙන් අවම වශයෙන් ප්‍රශ්න දෙකක් ද තෝරාගෙන, ප්‍රශ්න පහකට පමණක් පිළිතුරු සපයන්න.
- * ප්‍රස්තාර කඩදාසි සපයනු ලැබේ.

“අ” උප කොටස

(මෙම කොටසෙන් අවම වශයෙන් ප්‍රශ්න දෙකක් තෝරා ගන්න.)

1. (i) 'ප්‍රාග්ධනය' හා 'මානව ප්‍රාග්ධනය' අතර වෙනස කුමක් ද? (ලකුණු 04 යි)
- (ii) විශේෂීකරණය හා ශ්‍රම විභජනය නගාලීම සඳහා මුදල් උපකාරී වන්නේ කුමන ආකාරයෙන් ද? (ලකුණු 04 යි)
- (iii) හිඟකම පිළිබඳ ගැටලුවට මුහුණ දෙමින් ආර්ථිකය මෙහෙයවීමේ දී වෙළෙඳපොළ ආර්ථික පද්ධතියක් හා විධානගත ආර්ථික පද්ධතියක් එකිනෙකින් වෙනස් වන්නේ කෙසේ දැයි පැහැදිලි කරන්න. (ලකුණු 04 යි)
- (iv) ආර්ථිකයේ සම්පත් කාර්යක්ෂම ව උපයෝජනය වේ ද යන්න තහවුරු කර ගැනීම සඳහා සපුරාලිය යුතු කොන්දේසි කවරේ ද? (ලකුණු 04 යි)
- (v) ආර්ථිකයේ සුක්ෂ්ම හා සාර්ව ආර්ථික ගැටලු පැහැදිලි කිරීම සඳහා නිෂ්පාදන හැකියා මායිම් වක්‍රය යොදා ගත හැක්කේ කෙසේ ද? (ලකුණු 04 යි)
2. (i) සංඥ සැපයීමෙහි හා සලාකනයෙහි ලා වෙළෙඳපොළ මිල විසින් ඉටුකරනු ලබන කාර්යභාරය විස්තර කරන්න. (ලකුණු 04 යි)
- (ii) කිසියම් කාර්මික භාණ්ඩයක සැපයුම තීරණය කරන, මිල නොවන ප්‍රධාන සාධක ගතරක් නම් කරන්න. (ලකුණු 04 යි)
- (iii) කිසියම් භාණ්ඩයක් සඳහා වෙළෙඳපොළ ඉල්ලුම් හා සැපයුම් ලේඛනවලට අදාළ දත්ත සමහරක් පහත දී ඇත.

මිල (රු.)	ඉල්ලුම් කරනු ලබන ප්‍රමාණය (Q _d)	සැපයුම් කරනු ලබන ප්‍රමාණය (Q _s)	
4	84	12	
8	68	44	

- (iii) ඉල්ලුම් හා සැපයුම් වක්‍ර දෙක ම රේඛීය වක්‍ර වේ යයි උපකල්පනය කොට, වෙළෙඳපොළ ඉල්ලුම් හා සැපයුම් වක්‍ර සඳහා අදාළ සමීකරණ ව්‍යුත්පන්න කරන්න. (ලකුණු 04 යි)
- (iv) ඉල්ලුම් හා සැපයුම් සමීකරණ උපයෝගී කරගනිමින්, සමතුලිත මිල හා ප්‍රමාණය ගණනය කරන්න. (ලකුණු 04 යි)
- (v) රජය භාණ්ඩ ඒකකයක් මත රු. 3ක විශේෂිත බද්දක් පනවන්නේ යැයි උපකල්පනය කරමින්, බද්ද පැනවීමෙන් පසු නිෂ්පාදකයන්ට ලැබුණු මිල හා රජයේ බදු අයභාරය ගණනය කරන්න. (ලකුණු 04 යි)
3. (i) භීතවන එලද නීතිය හා පරිමාණානුකූල එල නීතිය නිෂ්පාදන ආයතනයක නිෂ්පාදන පිරිවැය කෙරෙහි බලපාන්නේ කෙසේ දැයි පැහැදිලි කරන්න. (ලකුණු 04 යි)
- (ii) ආයතනයක ආන්තික පිරිවැය වක්‍රය හා එම ආයතනය අයත් කර්මාන්තයේ සැපයුම් වක්‍රය අතර සබඳතාවක් පවතින්නේ ද යන්න සාකච්ඡා කරන්න. (ලකුණු 04 යි)
- (iii) සුරණ තරගකාරී ආයතනයක් තිරස් ඉල්ලුම් වක්‍රයකට මුහුණ දෙන අතර, එම කර්මාන්තය පහළට බැවුම් වන ඉල්ලුම් වක්‍රයකට මුහුණ දෙන්නේ මන් දැයි පැහැදිලි කරන්න. (ලකුණු 04 යි)

- (iv) කෙටි කාලයෙහි නිෂ්පාදනයෙහි නිරත ව සිටින ආයතනයක් මුළු ආයතාරය රු. මිලියන 100 ක් බවත්, මුළු පිරිවැය රු. මිලියන 120 ක් බවත්, මුළු ස්ථාවර පිරිවැය රු. මිලියන 40 ක් බවත් වාර්තා කරයි. මෙම තත්ත්වය යටතේ එම ආයතනය තවදුරටත් නිෂ්පාදනයේ රැඳී සිටිය යුතු ද? එසේ නම් ඒ ඇයි? (ලකුණු 04 යි)
 - (v) සෑම වෙළෙඳපොළ ව්‍යුහයක ම ලාභ උපරිමනය සඳහා ආන්තික ආයතාරය ආන්තික පිරිවැයට සමාන වීම අත්‍යවශ්‍ය වන්නේ ඇයි? නිෂ්පාදන ආයතනය පූර්ණ තරගකාරී ආයතනයක් වේ නම්, ආන්තික ආයතාරය = ආන්තික පිරිවැය (MR=MC) කොන්දේසිය යටතේ, ආන්තික ආයතාරය (MR) වෙනුවට මිල (P) ආදේශ කළ හැක්කේ කුමක් නිසා දැයි පැහැදිලි කරන්න. (ලකුණු 04 යි)
4. (i) තොග වෙනස්වීම් යන්නෙන් අදහස් වන්නේ කුමක් ද? තොග වෙනස්වීම් ආයෝජන වියදමෙහි සංරචකයක් ලෙස ඇතුළත් කරන්නේ ඇයි? (ලකුණු 04 යි)
- (ii) රජය විසින් කරනු ලබන පොලී ගෙවීම් පෞද්ගලික ආදායමේ සංරචකයක් වශයෙන් සලකන නමුදු, එය ජාතික ආදායමේ සංරචකයක් වශයෙන් නොසලකන්නේ මක් නිසා ද? (ලකුණු 04 යි)
- (iii) "යම් රටක් තම ජාතික ආදායමට වඩා වැඩි ප්‍රමාණයක් වියදම් කරන්නේ නම්, එම රටෙහි වෙළෙඳ ශේෂයෙහි හිඟයක් පැවැතිය යුතු ය." මෙම ප්‍රකාශය පිළිබඳ ව අදහස් දක්වන්න. (ලකුණු 04 යි)
- (iv) යම් ආර්ථිකයක් පිළිබඳ ව පහත තොරතුරු ඔබට දී ඇත. (සියලු ම අගයන් රු. මිලියනවලිනි.)
- | | | |
|-----------------------------|---|-------|
| ජාතික ආදායම (Y) | = | 5 200 |
| වැය කළ හැකි ආදායම (Y_d) | = | 4 400 |
| පරිභෝජනය (C) | = | 4 100 |
| අයවැය හිඟය (BD) | = | 150 |
| වෙළෙඳ ශේෂයේ හිඟය | = | 110 |
- ඉහත තොරතුරු උපයෝගී කර ගනිමින් පහත දෑ ගණනය කරන්න.
- (අ) රජයේ මිලදී ගැනීම් (G)
 - (ආ) ඉතුරුම් (S)
 - (ඇ) ආයෝජනය (I)
- (ලකුණු 04 යි)
- (v) 'සැහැවුණු ආර්ථිකය (underground economy)' යන්නෙන් අදහස් වන්නේ කුමක් ද? එහි විශාලත්වය අඩු කළ හැක්කේ කෙසේ ද? (ලකුණු 04 යි)
5. (i) 'ආයෝජන ගුණකය' යන්නෙහි අර්ථය කෙටියෙන් පැහැදිලි කරන්න. (ලකුණු 04 යි)
- (ii) 'උද්ධමන පරතරය (inflationary gap)' හා 'ප්‍රතිගමනාත්මක පරතරය (recessionary gap)' (අවධමන පරතරය) අතර වෙනස පැහැදිලි කරන්න. (ලකුණු 04 යි)
- (iii) "ආදායම කීරණය වීමේ සරල ආදායම්-වියදම් ආදර්ශයට අනුව ආර්ථිකයක් එක්කෝ උද්ධමනය හෝ සේවා විප්ලවයක් හෝ සහිත ව, නැත්නම් මේ දෙකෙන් එකක්වත් නොමැතිව සමතුලිතතාවයේ පැවැතිය හැකි ය." පුද්ගල රූප සටහන් යොදා ගනිමින් මෙම අදහස පැහැදිලි කරන්න. (ලකුණු 04 යි)
- (iv) දෙන ලද කාලසීමාවක දී කිසියම් ආවෘත ආර්ථිකයක ආයෝජනය 100 ක් බවත්, රජයේ මිලදී ගැනීම් 75 ක් බවත්, ශුද්ධ බදු 100 ක් බවත්, පරිභෝජනය (C) = $25 + 0.8Y_d$ යන ශ්‍රිතයෙන් දී ඇති බවත් සලකන්න. මෙහි Y_d යනු වැය කළ හැකි ආදායම වේ.
- (අ) රජයේ වියදම් ගුණකය හා බදු ගුණකය ගණනය කරන්න. (ලකුණු 04 යි)
 - (ආ) මෙම ආර්ථිකයේ පූර්ණ සේවා නියුක්ති ආදායම් මට්ටම 1000 යයි සලකන්න. පූර්ණ සේවා නියුක්ති ආදායම් මට්ටම කරා ළඟාවීමට රාජ්‍ය මිලදී ගැනීම් කෙතරම් ප්‍රමාණයකින් ඉහළ යා යුතු ද? එයට විකල්ප ක්‍රියාමාර්ගයක් වශයෙන් පූර්ණ සේවා නියුක්ති ආදායම් මට්ටම කරා ළඟාවීමට බදු ආදායම පහළ හෙළන්නේ නම්, බදු කොපමණ ප්‍රමාණයකින් අඩු කිරීම ප්‍රමාණවත් වේ ද? (ලකුණු 04 යි)

"ආ" උප කොටස

(මෙම කොටසෙන් ද අවම වශයෙන් ප්‍රශ්න දෙකක් තෝරා ගන්න.)

- 6. (i) 'අධිබලැති මුදල්' යන්නෙන් අදහස් කෙරෙන්නේ කුමක් ද? මහ බැංකුවක් අධිබලැති මුදල් මවනු ලබන්නේ කෙසේ දැයි කෙටියෙන් පැහැදිලි කරන්න. (ලකුණු 04 යි)
- (ii) ආර්ථිකයක මුදල් සැපයුම නිර්ණය කරනු ලබන සාධක මොනවා ද? (ලකුණු 04 යි)
- (iii) ශ්‍රී ලංකාවේ මූල්‍ය පද්ධතිය සමන්විත වී ඇති ප්‍රධාන මූල්‍ය ආයතන කාණ්ඩ (categories) කවරේ ද? (ලකුණු 04 යි)

- (iv) යම් කල්පිත ආර්ථිකයක මුදල් සැපයුම (M) රු. බිලියන 1 200 ක් ද, මුළු තැන්පතු (D) රු. බිලියන 800 ක් ද, අවශ්‍ය සංචිත-තැන්පතු අනුපාතය 10% ක් ද වේ. බැංකු සතුව අතිරික්ත සංචිත තොපවතින බව ද සලකන්න.
 - (අ) මෙම ආර්ථිකය සඳහා වන මුදල් ගුණකයේ අගය කුමක් ද?
 - (ආ) මහ බැංකුව රු. බිලියන 3 ක් වටිනා භාණ්ඩාගාර බිල්පත් වාණිජ බැංකු වෙතින් මිලදී ගන්නේ නම්, මුළු මුදල් සැපයුම උපරිම වශයෙන් වෙනස් විය හැක්කේ කොපමණ ප්‍රමාණයකින් ද? (ලකුණු 04 යි)
 - (ව) 'මුදල් ප්‍රමාණවාදය' පිළිබඳ කෙටි විග්‍රහයක් කරන්න. ඒ හා බැඳුණු උපකල්පන හඳුනා ගන්න. (ලකුණු 04 යි)
- 7. (i) සම්පත් කාර්යක්ෂමව බෙදහැරීමෙහි ලා වෙළෙඳපොළ අසමත් විය හැක්කේ කුමක් නිසා ද? (ලකුණු 04 යි)
 - (ii) සුදුසු රූප සටහන් ආධාරයෙන් ශ්‍රී ලංකාවේ මහාමාර්ගවල සාමාජීය වශයෙන් හිතකර ප්‍රමාණයට වඩා වැඩි මෝටෝරව සංඛ්‍යාවක් දක්නට ලැබෙන්නේ මත් දැයි පැහැදිලි කරන්න. (ලකුණු 04 යි)
 - (iii) වෙළෙඳපොළ ආර්ථිකයක් තුළ රජය සතුව තොවැළැක්විය හැකි කාර්යභාරයක් පවතින්නේ ඇයි? (ලකුණු 04 යි)
 - (iv) යහපත් බදු ක්‍රමයක් සතුව තිබිය යුතු ගුණාංග සඳහන් කරන්න. (ලකුණු 04 යි)
 - (v) රාජ්‍ය මූල්‍ය ප්‍රතිපත්ති මගින් ආදායම් අසමානතාව අඩු කළ හැකි ආකාර පැහැදිලි කරන්න. (ලකුණු 04 යි)
- 8. (i) සංඛ්‍යාත්මක උද්භරණයක් සපයමින්, නිෂ්පාදනයේ නිරපේක්ෂ වාසි හා සාපේක්ෂ වාසි අතර වෙනස පහදන්න. (ලකුණු 04 යි)
 - (ii) රටවල් අතර වෙළෙඳ රටා තීරණය කිරීමට හේතු විය හැකි ආර්ථික සාධක පැහැදිලි කරන්න. (ලකුණු 04 යි)
 - (iii) ජාත්‍යන්තර වෙළෙඳමට ඇති බාධක ඉවත්කරලීමෙහි ලා යෝදා ගන්නා ගෝලීය හා කලාපීය ප්‍රවේශ එකිනෙක සංසන්දනය කොට, ඒවා අතර වෙනස්කම් දක්වන්න. (ලකුණු 04 යි)
 - (iv) නම්‍ය විනිමය අනුපාතික ක්‍රමයක වාසි හා අවාසි මොනවා ද? (ලකුණු 04 යි)
 - (v) ශ්‍රී ලංකාවේ ආනයන වියදම්වල හා අපනයන ඉපැයීම්වල මෑතකාලීන ප්‍රවණතා පරීක්ෂා කරන්න. වර්තමානයේ ශ්‍රී ලංකාව මුහුණ පා ඇති විශාල වෙළෙඳ ශේෂ හිඟයට බලපා ඇති හේතු කවරේ ද? (ලකුණු 04 යි)
- 9. (i) ආර්ථික වර්ධනය හා සංවර්ධනය අතර වෙනස විචාරාත්මකව පරීක්ෂා කරන්න. (ලකුණු 05 යි)
 - (ii) රටක ඵලදායීතා මට්ටම තීරණය කරන ප්‍රධාන සාධක සඳහන් කරන්න. (ලකුණු 05 යි)
 - (iii) "ශ්‍රී ලංකාව මානව සංවර්ධනය සම්බන්ධයෙන් ජාතික මට්ටමෙන් ලබා ගෙන ඇති ජයග්‍රහණ සිත් ඇදගන්නාසුලු වුව ද, ප්‍රාදේශීය වශයෙන් හා ආංශික වශයෙන් මානව සංවර්ධනයේ අසමානතා තවදුරටත් දක්නට ලැබේ." පැහැදිලි කරන්න. (ලකුණු 05 යි)
 - (iv) ශ්‍රී ලංකාවේ ප්‍රජා විද්‍යාත්මක සංක්‍රාන්තියේ කැපීපෙනෙන ලක්ෂණ හඳුනා ගන්න. ඒවායේ ආර්ථික ඇඟවීම් මොනවා ද? (ලකුණු 05 යි)
- 10. (i) ශ්‍රී ලංකාවේ ඉතුරුම්-ආයෝජන පරතරයේ මෑතකාලීන උපතනි පරීක්ෂා කරන්න. (ලකුණු 04 යි)
 - (ii) වර්ෂ 2016 ට ප්‍රථම එක්සත් ජනපද ඩොලර් 4000 ඉක්මවූ ප්‍රතිශීර්ෂ ආදායම් ඉලක්කයක් අත්කර ගැනීමට අපේක්ෂා කරන ශ්‍රී ලංකා ආර්ථිකය සම්බන්ධයෙන්, දැනට පවතින සෘණ ඉතුරුම්-ආයෝජන පරතරය ගම්‍ය කරන දෑ කවරේ ද? (ලකුණු 06 යි)
 - (iii) ශ්‍රී ලංකාව ආසියාවේ ප්‍රධාන සංචාරක මධ්‍යස්ථානයක් බවට පත් කර ගැනීමේ දී මෙරට සංචාරක කර්මාන්තය මුහුණ දෙන අභියෝග කවරේ ද? (ලකුණු 05 යි)
 - (iv) දිළිඳු රටවල ස්ථාවර හා දිගුකාලීන ආර්ථික වර්ධනයක් අත් කර ගැනීමේ දී, යහපාලනය පවත්වා ගැනීම කෙතෙක් දුරට වැදගත් වන්නේ ද? (ලකුණු 05 යි)
