

ශ්‍රී ලංකා විභාග දෙපාර්තමේන්තුව ශ්‍රී ලංකා විභාග දෙපාර්තමේන්තුව ශ්‍රී ලංකා විභාග දෙපාර්තමේන්තුව ශ්‍රී ලංකා විභාග දෙපාර්තමේන්තුව ශ්‍රී ලංකා විභාග දෙපාර්තමේන්තුව
 இலங்கைப் பரீட்சைத் திணைக்களம் இலங்கைப் பரීட்சைத் திணைக்களம் இலங்கைப் பரීட்சைத் திணைக்களம் இலங்கைப் பரීட்சைத் திணைக்களம் இலங்கைப் பரීட்சைத் திணைக்களம்
 Department of Examinations, Sri Lanka Department of Examinations, Sri Lanka Department of Examinations, Sri Lanka Department of Examinations, Sri Lanka Department of Examinations, Sri Lanka
 ශ්‍රී ලංකා විභාග දෙපාර්තමේන්තුව ශ්‍රී ලංකා විභාග දෙපාර්තමේන්තුව ශ්‍රී ලංකා විභාග දෙපාර්තමේන්තුව ශ්‍රී ලංකා විභාග දෙපාර්තමේන්තුව ශ්‍රී ලංකා විභාග දෙපාර්තමේන්තුව
 இலங்கைப் பரීட்சைத் திணைக்களம் இலங்கைப் பரීட்சைத் திணைக்களம் இலங்கைப் பரීட்சைத் திணைக்களம் இலங்கைப் பரීட்சைத் திணைக்களம் இலங்கைப் பரීட்சைத் திணைக்களம்

අධ්‍යයන පොදු සහතික පත්‍ර (උසස් පෙළ) විභාගය, 2015 අගෝස්තු
கல்விப் பொதுத் தராதரப் பத்திர (உயர் தர)ப் பரீட்சை, 2015 ஓகஸ்ட்
General Certificate of Education (Adv. Level) Examination, August 2015

සංයුක්ත ගණිතය இணைந்த கணிதம் Combined Mathematics	I III I	<div style="border: 1px solid black; padding: 2px; display: inline-block;">10</div> <div style="border: 1px solid black; padding: 2px; display: inline-block; margin: 0 5px;">S</div> <div style="border: 1px solid black; padding: 2px; display: inline-block;">I</div>	පැය තුනයි மூன்று மணித்தியாலம் Three hours
--	---------------	--	---

විභාග අංකය

--	--	--	--	--	--	--	--

උපදෙස් :

- * මෙම ප්‍රශ්න පත්‍රය කොටස් දෙකකින් සමන්විත වේ;
 A කොටස (ප්‍රශ්න 1 - 10) සහ B කොටස (ප්‍රශ්න 11 - 17).
- * **A කොටස:**
 සියලු ම ප්‍රශ්නවලට පිළිතුරු සපයන්න. එක් එක් ප්‍රශ්නය සඳහා ඔබේ පිළිතුරු, සපයා ඇති ඉඩෙහි ලියන්න. වැඩිපුර ඉඩ අවශ්‍ය වේ නම්, ඔබට අමතර ලියන කඩදාසි භාවිත කළ හැකි ය.
- * **B කොටස:**
 ප්‍රශ්න පහකට පමණක් පිළිතුරු සපයන්න. ඔබේ පිළිතුරු, සපයා ඇති කඩදාසිවල ලියන්න.
- * නියමිත කාලය අවසන් වූ පසු **A කොටසෙහි** පිළිතුරු පත්‍රය, **B කොටසෙහි** පිළිතුරු පත්‍රයට උඩින් සිටින පරිදි කොටස් දෙක අමුණා විභාග ශාලාධිපතිට භාර දෙන්න.
- * ප්‍රශ්න පත්‍රයෙහි **B කොටස පමණක්** විභාග ශාලාවෙන් පිටතට ගෙන යාමට ඔබට අවසර ඇත.

පරීක්ෂකවරුන්ගේ ප්‍රයෝජනය සඳහා පමණි.

(10) සංයුක්ත ගණිතය I		
කොටස	ප්‍රශ්න අංකය	ලකුණු
A	1	
	2	
	3	
	4	
	5	
	6	
	7	
	8	
	9	
	10	
B	11	
	12	
	13	
	14	
	15	
	16	
	17	
	එකතුව	
	ප්‍රතිශතය	

I පත්‍රය	
II පත්‍රය	
එකතුව	
අවසාන ලකුණු	

අවසාන ලකුණු

ඉලක්කමෙන්	
අකුරින්	

සංකේත අංක

උත්තර පත්‍ර පරීක්ෂක	
පරීක්ෂා කළේ:	1
	2
අධීක්ෂණය කළේ:	

5. $n \in \mathbb{Z}^+$ සඳහා, $\lim_{y \rightarrow a} \frac{y^n - a^n}{y - a} = na^{n-1}$ ප්‍රතිඵලය භාවිතයෙන් හෝ අන් ක්‍රමයකින් හෝ

$$\lim_{x \rightarrow 0} \frac{(x + \sqrt{2})^4 - 4}{\sin 4x} = 2\sqrt{2} \text{ බව පෙන්වන්න.}$$

38913

6. එක ම රූප සටහනක $y = e^x$ හා $y = e^{-x}$ වක්‍ර දෙකෙහි දළ සටහන් අඳින්න. x -අක්ෂයෙන් ද $-1 \leq x \leq 0$ පරාසය තුළ $y = e^x$ වක්‍රයෙන් හා $0 \leq x \leq 1$ පරාසය තුළ $y = e^{-x}$ වක්‍රයෙන් ද ආවෘත වන පෙදෙසෙහි වර්ගඵලය $2\left(1 - \frac{1}{e}\right)$ බව පෙන්වන්න.

9. O මූල ලක්ෂ්‍යය ඔස්සේ ද $y = 1$ රේඛාවේ $x^2 + y^2 - 2x - 2y + 1 = 0$ වෘත්තයේත් ඡේදන ලක්ෂ්‍ය දෙක ඔස්සේ ද යන වෘත්තයේ කේන්ද්‍රය හා අරය සොයන්න.

10. $\sin \alpha + \sin \beta = 1$ හා $\cos \alpha + \cos \beta = \sqrt{3}$ යැයි ගනිමු; මෙහි α හා β සුළු කෝණ වේ. $\alpha + \beta$ හි අගය සොයන්න.

සියලු ම හිමිකම් ඇවිරිණි / முழுப் பதிப்புரிமையுடையது / All Rights Reserved

ශ්‍රී ලංකා විභාග දෙපාර්තමේන්තුව ශ්‍රී ලංකා විභාග දෙපාර්තමේන්තුව ශ්‍රී ලංකා විභාග දෙපාර්තමේන්තුව ශ්‍රී ලංකා විභාග දෙපාර්තමේන්තුව ශ්‍රී ලංකා විභාග දෙපාර්තමේන්තුව
 இலங்கைப் பரீட்சைத் திணைக்களம் இலங்கைப் பரීட்சைத் திணைக்களம் இலங்கைப் பரීட்சைத் திணைக்களம் இலங்கைப் பரීட்சைத் திணைக்களம் இலங்கைப் பரීட்சைத் திணைக்களம்
 Department of Examinations, Sri Lanka Department of Examinations, Sri Lanka Department of Examinations, Sri Lanka Department of Examinations, Sri Lanka Department of Examinations, Sri Lanka
 ශ්‍රී ලංකා විභාග දෙපාර්තමේන්තුව ශ්‍රී ලංකා විභාග දෙපාර්තමේන්තුව ශ්‍රී ලංකා විභාග දෙපාර්තමේන්තුව ශ්‍රී ලංකා විභාග දෙපාර්තමේන්තුව ශ්‍රී ලංකා විභාග දෙපාර්තමේන්තුව
 இலங்கைப் பரීட்சைத் திணைக்களம் இலங்கைப் பரීட்சைத் திணைக்களம் இலங்கைப் பரීட்சைத் திணைக்களம் இலங்கைப் பரීட்சைத் திணைக்களம் இலங்கைப் பரීட்சைத் திணைக்களம்

අධ්‍යයන පොදු සහතික පත්‍ර (උසස් පෙළ) විභාගය, 2015 අගෝස්තු
 கல்விப் பொதுத் தராதரப் பத்திர (உயர் தர)ப் பரீட்சை, 2015 ஆகஸ்ட்
 General Certificate of Education (Adv. Level) Examination, August 2015

සංයුක්ත ගණිතය I
 இணைந்த கணிதம் I
 Combined Mathematics I

10 S I

B කොටස

* ප්‍රශ්න පහකට පමණක් පිළිතුරු සපයන්න.

11. (a) x හි මාත්‍රය 4 වූ $F(x)$, $G(x)$ හා $H(x)$ යන බහුපද පහත දැක්වෙන පරිදි දෙනු ලැබේ.

$$F(x) = (x^2 - \alpha x + 1)(x^2 - \beta x + 1), \text{ මෙහි } \alpha \text{ හා } \beta \text{ තාත්වික නියත වේ;}$$

$$G(x) = 6x^4 - 35x^3 + 62x^2 - 35x + 6.$$

$$H(x) = x^4 + x^2 + 1.$$

- (i) $F(x) = 0$ හා $G(x) = 0$ යන දෙකට ම එක ම මූල තිබේ නම්, α හා β මූල වශයෙන් ඇති වර්ගජ සමීකරණය $6x^2 - 35x + 50 = 0$ බව පෙන්වන්න.
ඵහයින්, $G(x) = 0$ සමීකරණයෙහි සියලු ම මූල සොයන්න.
- (ii) $F(x) = H(x)$ වෙයි නම්, α හා β ට තිබිය හැකි අගයන් සොයා, $H(x) = 0$ සමීකරණයේ මූල තාත්වික නො වන බව පෙන්වන්න.

- (b) (i) $f(x) = 2x^4 + \gamma x^3 + \delta x + 1$ යැයි ගනිමු; මෙහි γ හා δ තාත්වික නියත වේ. $f(-\frac{1}{2}) = 0$ හා $f(-2) = 21$ බව දී ඇති විට, $f(x)$ හි තාත්වික ඒකජ සාධක දෙක සොයන්න.
- (ii) සියලු ම තාත්වික x සඳහා $(x^2 + x + 1)P(x) + (x^2 - 1)Q(x) = 3x$ සමීකරණය සපුරාලන $P(x)$ හා $Q(x)$ ඒකජ ප්‍රකාශන දෙක සොයන්න.

12. (a) නිපුණතා සංදර්ශන තරගයක විනිසුරුවන් ලෙස කටයුතු කිරීම සඳහා සාමාජික සාමාජිකාවන් හතර දෙනෙකුගෙන් සමන්විත විනිසුරු මඩුල්ලක් පිහිටුවා ගත යුතුව ඇත. මෙම විනිසුරු මඩුල්ල තෝරා ගත යුතුව ඇත්තේ ක්‍රීඩිකාවන් තුන් දෙනෙකු, ක්‍රීඩකයින් දෙදෙනෙකු, ගායිකාවන් හය දෙනෙකු, ගායකයින් පස් දෙනෙකු, නිළියන් දෙදෙනෙකු හා නළුවන් හතර දෙනෙකුගෙන් සමන්විත කණ්ඩායමකිනි. ප්‍රධාන විනිසුරු, ක්‍රීඩකයකු හෝ ක්‍රීඩිකාවක හෝ විය යුතු ය. විනිසුරු මඩුල්ලේ අනෙක් තිදෙනා තෝරා ගත යුතු වන්නේ ක්‍රීඩක ක්‍රීඩිකාවන් හැර කණ්ඩායමේ ඉතිරි අයගෙන් ය. පහත දැක්වෙන එක් එක් අවස්ථාවේ දී විනිසුරු මඩුල්ල පිහිටුවා ගත හැකි වෙනස් ආකාර ගණන සොයන්න.

- (i) අඩු තරමින් එක් ගායිකාවක හා එක් ගායකයකු මඩුල්ලට ඇතුළත් විය යුතු ම නම්,
- (ii) ප්‍රධාන විනිසුරු ඇතුළුව පිරිමි දෙදෙනෙකු හා ගැහැනු දෙදෙනෙකු මඩුල්ලේ සිටිය යුතු ම නම්,
- (iii) ප්‍රධාන විනිසුරු ක්‍රීඩිකාවක විය යුතු ම නම්.

(b) $r \in \mathbb{Z}^+$ සඳහා $A(r+5)^2 - B(r+1)^2 = r+C$ වන පරිදි A, B හා C නියතවල අගයන් සොයන්න.

ඵහයින්, අපරිමිත ශ්‍රේණියක r වන පදය $U_r = \frac{8}{(r+1)^2(r+3)(r+5)^2}$ යන්න $f(r) - f(r+2)$ ලෙස ප්‍රකාශ කළ හැකි බව පෙන්වන්න; මෙහි $f(r)$ යනු නිර්ණය කළ යුතු ශ්‍රිතයක් වේ.

$\sum_{r=1}^n U_r$ ශ්‍රේණියේ ඓක්‍යය සොයා, $\sum_{r=1}^{\infty} U_r$ ශ්‍රේණිය, $\frac{1}{8^2} + \frac{1}{15^2}$ ඓක්‍යයට අභිසාරී වන බව අපෝහනය කරන්න.

13.(a) A, B හා C න්‍යාස තුනක්

$$A = \begin{pmatrix} 0 & 2 & -3 \\ 0 & -1 & 2 \end{pmatrix}, B = \begin{pmatrix} a & b & 0 \\ c & d & 0 \end{pmatrix} \text{ හා } C = \begin{pmatrix} 3 & 4 \\ 2 & 3 \\ 1 & 2 \end{pmatrix} \text{ මගින් දෙනු ලැබේ.}$$

(i) $AC = I_2 = \begin{pmatrix} 1 & 0 \\ 0 & 1 \end{pmatrix}$ බව පෙන්වන්න. CA ගුණිතයන් සොයන්න.

(ii) $BC = I_2$ වන පරිදි a, b, c හා d හි අගයන් සොයන්න.

(iii) $(\lambda A + \mu B)C = I_2$ වෙයි නම්, λ හා μ සම්බන්ධ කෙරෙන සමීකරණයක් ලබා ගන්න.

$$D = \begin{pmatrix} -3 & 8 & -6 \\ 2 & -5 & 4 \end{pmatrix} \text{ න්‍යාසය, A හා B ඇසුරෙන් ප්‍රකාශ කර, එනයිත්, DC ගුණිතය සොයන්න.}$$

(b) z සංකීර්ණ සංඛ්‍යාවක් $z = \cos \theta + i \sin \theta$ ලෙස දෙනු ලැබේ; මෙහි $\theta (-\pi < \theta \leq \pi)$ තාත්ත්වික පරාමිතියකි. ආගන්ථි සටහනක් මත z නිරූපණය කරන ලක්ෂ්‍යයේ C පථය සොයන්න.

$\cos \theta$ හා $\sin \theta$ සඳහා ප්‍රකාශන z හා $\frac{1}{z}$ ඇසුරෙන් ලබා ගන්න.

$$w = \frac{2z}{z^2+1} \text{ හා } t = \frac{z^2-1}{z^2+1} \text{ යැයි ගනිමු; මෙහි } z \text{ යන්න } z \neq \pm i \text{ වන පරිදි } C \text{ මත පිහිටයි.}$$

(i) $\text{Im}(w) = 0$ හා $\text{Re}(t) = 0$ බව පෙන්වන්න. එනයිත්, හෝ අන් ක්‍රමයකින් හෝ, $w^2 + t^2 = 1$ බව තවදුරටත් පෙන්වන්න.

(ii) $w = 2$ සමීකරණය සපුරාලන z සංකීර්ණ සංඛ්‍යා සොයන්න.

(iii) $t = i$ සමීකරණය සපුරාලන z සංකීර්ණ සංඛ්‍යා සොයන්න.

14.(a) $x \neq 0$ සඳහා $y = x \sin \frac{1}{x}$ යැයි ගනිමු.

(i) $x \frac{dy}{dx} = y - \cos \frac{1}{x}$ හා

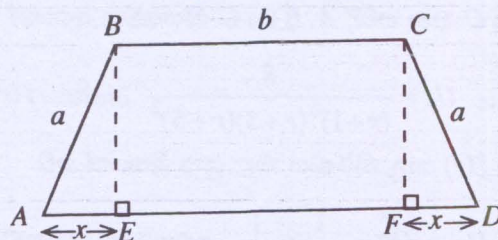
(ii) $x^4 \frac{d^2y}{dx^2} + y = 0$

බව පෙන්වන්න.

(b) $x \neq 1$ සඳහා $f(x) = \frac{2x^2+1}{(x-1)^2}$ යැයි ගනිමු.

$f(x)$ හි පළමු ව්‍යුත්පන්නය හා හැරුම් ලක්ෂ්‍යය සොයන්න. හැරුම් ලක්ෂ්‍යය හා ස්පර්ශෝන්මුඛ දක්වමින්, $y = f(x)$ හි ප්‍රස්තාරයේ දළ සටහනක් අඳින්න.

(c) දී ඇති රූපයෙහි, ABCD යනු, BC හා AD සමාන්තර පාද සහිත ත්‍රපීසියමකි. සෙන්ටිමීටරවලින් මනිනු ලබන එහි පාදවල දිග $AB = CD = a$, $BC = b$ හා $AD = b + 2x$ මගින් දෙනු ලැබේ; මෙහි $0 < x < a$ වේ. BE හා CF යනු පිළිවෙලින් B හා C ශීර්ෂවල සිට AD පාදය මතට ඇඳි ලම්බ වේ.



ABCD ත්‍රපීසියමේ වර්ගඵලය $S(x)$, වර්ග සෙන්ටිමීටරවලින් $S(x) = (b+x)\sqrt{a^2-x^2}$ මගින් දෙනු ලබන බව පෙන්වන්න.

$a = \sqrt{6}$ හා $b = 4$ නම්, x හි එක්තරා අගයකට $S(x)$ උපරිම වන බව තවදුරටත් පෙන්වා, x හි මෙම අගය හා ත්‍රපීසියමේ උපරිම වර්ගඵලය සොයන්න.

15. (a) $\int_0^{\pi} f(x) dx = \int_0^{\pi} f(\pi - x) dx$ බව පෙන්වන්න.

$\int_0^{\frac{\pi}{2}} \sin^2 x dx = \frac{\pi}{4}$ බවත් පෙන්වන්න.

ඒනයින්, $\int_0^{\pi} x \sin^2 x dx = \frac{\pi^2}{4}$ බව පෙන්වන්න.

(b) සුදුසු ආදේශයක් හා කොටස් වශයෙන් අනුකලන ක්‍රමය භාවිතයෙන්, $\int x^3 e^{x^2} dx$ සොයන්න.

(c) $\frac{1}{x^3 - 1} = \frac{A}{x - 1} + \frac{Bx + C}{x^2 + x + 1}$ වන පරිදි A, B හා C නියතවල අගයන් සොයන්න.

ඒනයින්, $\frac{1}{x^3 - 1}$ යන්න x විෂයයෙන් අනුකලනය කරන්න.

(d) $t = \tan \frac{x}{2}$ ආදේශය භාවිතයෙන්, $\int_0^{\frac{\pi}{2}} \frac{dx}{5 + 4\cos x + 3\sin x} = \frac{1}{6}$ බව පෙන්වන්න.

16. වෘත්ත දෙකක සමීකරණ $x^2 + y^2 + 2gx + 2fy + c = 0$ හා $x^2 + y^2 + 2g'x + 2f'y + c' = 0$ යැයි ගනිමු. මෙම වෘත්ත ප්‍රලම්බ ලෙස ඡේදනය වේ නම්, $2gg' + 2ff' = c + c'$ බව පෙන්වන්න.

$x^2 + y^2 - 8x - 6y + 16 = 0$ සමීකරණය සහිත C වෘත්තය x -අක්ෂය ස්පර්ශ කරන බව පෙන්වන්න.

O මූලයෙහි පොදු කේන්ද්‍රය පිහිටන, අරය r වූ C_1 වෘත්තයක් හා අරය $R (> r)$ වූ C_2 වෘත්තයක් පිළිවෙළින් A හා B ලක්ෂ්‍යවල දී C වෘත්තය ස්පර්ශ කරයි. r හා R හි අගයන් ද A හා B හි ඛණ්ඩාංක ද සොයන්න.

S යනු, C හා C_1 යන වෘත්ත දෙක ම ප්‍රලම්බ ලෙස ඡේදනය කරන හා y -අක්ෂය ස්පර්ශ කරන වෘත්තයක් යැයි ගනිමු. S සඳහා තිබිය හැකි සමීකරණ දෙක සොයන්න.

C හා C_2 යන වෘත්ත දෙකට ම B ලක්ෂ්‍යයෙහි දී අදින ලද පොදු ස්පර්ශකයට x -අක්ෂය P හි දී ද y -අක්ෂය Q හි දී ද හමු වේ. පොදු ස්පර්ශකයේ සමීකරණය $4x + 3y = 40$ බවත්, PQ රේඛා ඛණ්ඩය විෂ්කම්භයක් ලෙස ඇති වෘත්තයේ සමීකරණය $3(x^2 + y^2) - 30x - 40y = 0$ බවත් පෙන්වන්න.

17. (a) $\cos^2(\alpha + \beta) + \cos^2 \alpha + \cos^2 \beta - 2\cos(\alpha + \beta)\cos \alpha \cos \beta = 1$ බව පෙන්වන්න.

(b) $f(x) = \cos 2x + \sin 2x + 2(\cos x + \sin x) + 1$ යැයි ගනිමු. $f(x)$ යන්න $k(1 + \cos x) \sin(x + \alpha)$ ආකාරයෙන් ප්‍රකාශ කරන්න; මෙහි k හා α යනු නිර්ණය කළ යුතු නියත වේ.

$g(x)$ යන්න $\frac{f(x)}{1 + \cos x} = \sqrt{2} \{g(x) - 1\}$ වන ලෙස ගනිමු; මෙහි $-\frac{\pi}{2} \leq x \leq \frac{\pi}{2}$ වේ.

$y = g(x)$ හි ප්‍රස්තාරයේ දළ සටහනක් ඇඳ ඒනයින්, ඉහත දී ඇති පරාසය තුළ $f(x) = 0$ සමීකරණයට එක විසඳුමක් පමණක් ඇති බව පෙන්වන්න.

(c) සුපුරුදු අංකනයෙන්, ABC ත්‍රිකෝණයක් සඳහා සයින් නීතිය භාවිතයෙන්,

$a(b - c) \operatorname{cosec} \frac{A}{2} \cot \frac{A}{2} = (b + c)^2 \tan \left(\frac{B - C}{2} \right) \sec \left(\frac{B - C}{2} \right)$ බව පෙන්වන්න.

ශ්‍රී ලංකා විභාග දෙපාර්තමේන්තුව ශ්‍රී ලංකා විභාග දෙපාර්තමේන්තුව ශ්‍රී ලංකා විභාග දෙපාර්තමේන්තුව ශ්‍රී ලංකා විභාග දෙපාර්තමේන්තුව ශ්‍රී ලංකා විභාග දෙපාර්තමේන්තුව
 இலங்கைப் பரீட்சைத் திணைக்களம் இலங்கைப் பரීட்சைத் திணைக்களம் இலங்கைப் பரීட்சைத் திணைக்களம் இலங்கைப் பரීட்சைத் திணைக்களம் இலங்கைப் பரීட்சைத் திணைக்களம்
 Department of Examinations, Sri Lanka Department of Examinations, Sri Lanka Department of Examinations, Sri Lanka Department of Examinations, Sri Lanka Department of Examinations, Sri Lanka
 ශ්‍රී ලංකා විභාග දෙපාර්තමේන්තුව ශ්‍රී ලංකා විභාග දෙපාර්තමේන්තුව ශ්‍රී ලංකා විභාග දෙපාර්තමේන්තුව ශ්‍රී ලංකා විභාග දෙපාර්තමේන්තුව ශ්‍රී ලංකා විභාග දෙපාර්තමේන්තුව
 இலங்கைப் பரීட்சைத் திணைக்களம் இலங்கைப் பரීட்சைத் திணைக்களம் இலங்கைப் பரීட்சைத் திணைக்களம் இலங்கைப் பரීட்சைத் திணைக்களம் இலங்கைப் பரීட்சைத் திணைக்களம்
 Department of Examinations, Sri Lanka Department of Examinations, Sri Lanka Department of Examinations, Sri Lanka Department of Examinations, Sri Lanka Department of Examinations, Sri Lanka

අධ්‍යයන පොදු සහතික පත්‍ර (උසස් පෙළ) විභාගය, 2015 අගෝස්තු
கல்விப் பொதுத் தராதரப் பத்திர (உயர் தர)ப் பரீட்சை, 2015 ஆகஸ்ட்
General Certificate of Education (Adv. Level) Examination, August 2015

සංයුක්ත ගණිතය II	II	10 S II	පැය තුනයි
இணைந்த கணிதம் II	II		மூன்று மணித்தியாலம்
Combined Mathematics II	II		Three hours

විභාග අංකය

උපදෙස් :

- * මෙම ප්‍රශ්න පත්‍රය කොටස් දෙකකින් සමන්විත වේ;
A කොටස (ප්‍රශ්න 1 - 10) සහ **B කොටස** (ප්‍රශ්න 11 - 17).
- * **A කොටස:**
සියලු ම ප්‍රශ්නවලට පිළිතුරු සපයන්න. එක් එක් ප්‍රශ්නය සඳහා ඔබේ පිළිතුරු, සපයා ඇති ඉඩේහි ලියන්න. වැඩිපුර ඉඩ අවශ්‍ය වේ නම්, ඔබට අමතර ලියන කඩදාසි භාවිත කළ හැකි ය.
- * **B කොටස:**
 ප්‍රශ්න **පහකට** පමණක් පිළිතුරු සපයන්න. ඔබේ පිළිතුරු, සපයා ඇති කඩදාසිවල ලියන්න.
- * නියමිත කාලය අවසන් වූ පසු **A කොටසෙහි** පිළිතුරු පත්‍රය, **B කොටසෙහි** පිළිතුරු පත්‍රයට උඩින් සිටින පරිදි කොටස් දෙක අමුණා විභාග ශාලාධිපතිට භාර දෙන්න.
- * ප්‍රශ්න පත්‍රයෙහි **B කොටස පමණක්** විභාග ශාලාවෙන් පිටතට ගෙන යාමට ඔබට අවසර ඇත.
- * මෙම ප්‍රශ්න පත්‍රයෙහි **g** මගින් ගුරුත්වජ ත්වරණය දැක්වෙයි.

පරීක්ෂකවරුන්ගේ ප්‍රයෝජනය සඳහා පමණි.

(10) සංයුක්ත ගණිතය II		
කොටස	උග්‍ර අංකය	ලකුණු
A	1	
	2	
	3	
	4	
	5	
	6	
	7	
	8	
	9	
	10	
B	11	
	12	
	13	
	14	
	15	
	16	
	17	
	එකතුව	
	ප්‍රතිශතය	

I පත්‍රය	
II පත්‍රය	
එකතුව	
අවසාන ලකුණු	

අවසාන ලකුණු

ඉලක්කමෙන්	
අකුරින්	

සංකේත අංක

උත්තර පත්‍ර පරීක්ෂක	
පරීක්ෂා කළේ:	1
	2
අධීක්ෂණය කළේ:	

සියලු ම හිමිකම් ඇවිරිණි / முழுப் பதிப்புரிமையுடையது / All Rights Reserved

ශ්‍රී ලංකා විභාග දෙපාර්තමේන්තුව ශ්‍රී ලංකා විභාග දෙපාර්තමේන්තුව ශ්‍රී ලංකා විභාග දෙපාර්තමේන්තුව ශ්‍රී ලංකා විභාග දෙපාර්තමේන්තුව ශ්‍රී ලංකා විභාග දෙපාර්තමේන්තුව
 இலங்கைப் பரீட்சைத் திணைக்களம் இலங்கைப் பரීட்சைத் திணைக்களம் இலங்கைப் பரීட்சைத் திணைக்களம் இலங்கைப் பரීட்சைத் திணைக்களம் இலங்கைப் பரීட்சைத் திணைக்களம்
 Department of Examinations, Sri Lanka Department of Examinations, Sri Lanka Department of Examinations, Sri Lanka Department of Examinations, Sri Lanka Department of Examinations, Sri Lanka

අධ්‍යයන පොදු සහතික පත්‍ර (උසස් පෙළ) විභාගය, 2015 අගෝස්තු
 கல்விப் பொதுத் தராதரப் பத்திர (உயர் தரப் பரீட்சை, 2015 ஆகஸ்ட்
 General Certificate of Education (Adv. Level) Examination, August 2015

සංයුක්ත ගණිතය II
 இணைந்த கணிதம் II
 Combined Mathematics II

10 S II

B කොටස

* ප්‍රශ්න පහකට පමණක් පිළිතුරු සපයන්න.

(මෙම ප්‍රශ්න පත්‍රයෙහි g මගින් ගුරුත්වජ ත්වරණය දැක්වෙයි.)

11. (a) P හා Q අංශු දෙකක් අවල තිරස් ගෙබිමක් මත ලක්ෂ්‍ය දෙකක සිට පිළිවෙළින් u හා $\frac{u}{\sqrt{2}}$ වේගවලින් සිරස් ව ඉහළට, එක විට ප්‍රක්ෂේප කරනු ලැබේ. ගෙබිම සිට $\frac{u^2}{4g}$ උසකින් අවල සුමට තිරස් සිවිලිමක් ඇත. සිවිලිමත් එය සමග ගැටෙන P අංශුවක් අතර ප්‍රත්‍යාගතී සංගුණකය $\frac{1}{\sqrt{2}}$ වන අතර, අංශු දෙක ගුරුත්වය යටතේ පමණක් ඉහළට හා පහළට වලනය වේ.

(i) P අංශුව සිවිලිම සමග ගැටීමට මොහොතකට පෙර එහි වේගයත්, ගැටීම සිදු වන මොහොත දක්වා ගත වූ T_1 කාලයත් සොයන්න.

P අංශුව එහි ප්‍රක්ෂේප ලක්ෂ්‍යය කරා $\frac{u\sqrt{3}}{2}$ වේගයෙන් ආපසු පැමිණෙන බව පෙන්වන්න.

(ii) Q අංශුව, සිවිලිමට යත්තමින් ළඟා වන බව පෙන්වා, එම මොහොත දක්වා ගත වූ T_2 කාලය සොයන්න.

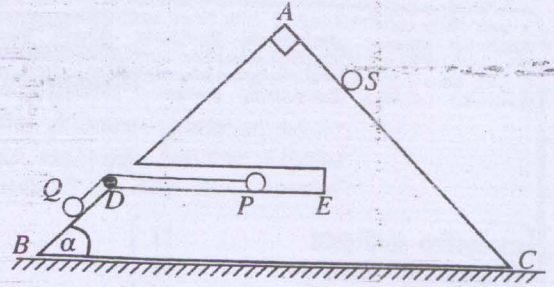
(iii) P හා Q අංශු දෙකෙහි ප්‍රක්ෂේප මොහොතේ සිට ආපසු අදාළ ප්‍රක්ෂේප ලක්ෂ්‍ය වෙතට පැමිණීම දක්වා, ඒවායේ වලින සඳහා ප්‍රවේග-කාල ප්‍රස්තාරවල දළ සටහන්, එක ම රූපයක අඳින්න.

(iv) ප්‍රවේග-කාල ප්‍රස්තාර භාවිතයෙන්, P අංශුව සිවිලිම සමග ගැටෙන මොහොතේ දී Q අංශුව, සිවිලිමට $\frac{u^2}{2g}(\sqrt{2} - 1)^2$ සිරස් දුරක් පහළින් තිබෙන බව පෙන්වන්න.

(b) S නැවක්, u ඒකාකාර වේගයෙන් උතුරු දිශාවට යාත්‍රා කරයි. එහි සරල රේඛීය පෙත P වරායක සිට නැගෙනහිර පැත්තට p ලම්බ දුරකින් පිහිටා ඇත. එක්තරා මොහොතක දී, PS හි දිශාව නැගෙනහිරින් දකුණට 45° කෝණයක් සාදන විට දී ම, S නැව හමු වීම සඳහා B1 හා B2 සැපයුම් බෝට්ටු දෙකක් P වරායේ සිට වෙනස් දිශා දෙකකට $v\left(\frac{u}{\sqrt{2}} < v < u\right)$ ඒකාකාර වේගයෙන් එක විට ගමන් අරඹයි. මෙම බෝට්ටු පිළිවෙළින් T1 හා T2 (> T1) කාලවල දී S නැවට ළඟා වේ. $\frac{v}{u} = \sqrt{\frac{2}{3}}$ බව තවදුරටත් දී ඇත්නම්, S නැවට සාපේක්ෂ ව B1 හා B2 බෝට්ටුවල වලින සඳහා සාපේක්ෂ ප්‍රවේග ත්‍රිකෝණ දෙකෙහි දළ සටහන් එක ම රූපයක ඇඳ, P වරායේ සිට S නැව වෙත ගමන් කිරීමේ දී B1 හා B2 බෝට්ටුවල නියම වලින දිශා සොයන්න.

තවදුරටත්, $T_2 - T_1 = \frac{2\sqrt{3}p}{u}$ බව පෙන්වන්න.

12. (a) දී ඇති රූපයේ, ABC ත්‍රිකෝණය, ස්කන්ධය M වූ ඒකාකාර සුමට කුඤ්ඤයක ගුරුත්ව කේන්ද්‍රය ඔස්සේ යන සිරස් භරස්කඩක් චරුපණය කරයි. කුඤ්ඤය තුළ BC ට සමාන්තර වූ DE සිහින් සුමට පිල්ලක් ඇත. AB හා AC රේඛා, අදාළ මුහුණත්වල උපරිම බැවුම් රේඛා වන අතර $\hat{ABC} = \alpha$ හා $\hat{BAC} = \frac{\pi}{2}$ වේ.

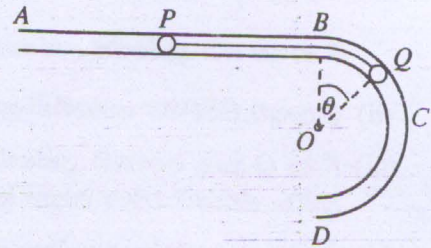


BC අඩංගු මුහුණත අවල සුමට තිරස් මේසයක් මත සිටින පරිදි කුඤ්ඤය තබා ඇත. එක එකක ස්කන්ධය

m වූ P හා Q අංශු දෙකක් පිළිවෙළින් DE හා DB මත තබා ඒවා, D ලක්ෂ්‍යයෙහි පිහිටි කුඩා සුමට සැහැල්ලු කප්පියක් උඩින් යන සැහැල්ලු අවිතන්‍ය තන්තුවකින් ඇඳා ඇත. ස්කන්ධය $\frac{m}{2}$ වූ S අංශුවක් AC මත ලක්ෂ්‍යයක තබා P හා Q සම්බන්ධ කෙරෙන තන්තුව ඇදී තිබිය දී, පද්ධතිය මෙම පිහිටීමෙන් නිශ්චලතාවයේ සිට මුදා හරිනු ලැබේ.

P අංශුවට ED දිගේ ද Q අංශුවට DB දිගේ ද S අංශුවට AC දිගේ ද වලිත සමීකරණ ලියා දක්වන්න. තවදුරටත්, මුළු පද්ධතියට ම BC දිගේ වලිත සමීකරණය ලියන්න. **ඒනයින්,** කුඤ්ඤයේ ත්වරණය \vec{BC} හි දිශාවට $\frac{mgsin\alpha}{2M+3m-2m\cos\alpha}$ බව පෙන්වන්න.

(b) $ABCD$ සිහින් සුමට නලයක් පහත රූපයේ දැක්වෙන ආකාරයට නවා ඇත. නලයේ AB කොටස සෘජු වේ. BCD කොටසට අරය a හා කේන්ද්‍රය O වූ අර්ධ වෘත්තාකාර හැඩයක් ඇති අතර BD විෂකම්භය AB ට ලම්බ වේ. AB තිරස් ව හා ඉහළින් ම ඇතිව නලය සිරස් තලයක සවිකර ඇත. නලය ඇතුළත, ස්කන්ධය m වූ P අංශුවක්



හා ස්කන්ධය $3m$ වූ Q අංශුවක් $l (> \frac{\pi a}{2})$ දිගැති සැහැල්ලු අවිතන්‍ය තන්තුවකින් සම්බන්ධ කර ඇත. ආරම්භයේ දී, තන්තුව ඇදී AB දිගේ තිබෙන අතර Q අංශුව B ලක්ෂ්‍යයේ තබා ඇත. Q අංශුව මෙම පිහිටීමේ සිට යන්තමින් විස්ථාපනය කරනු ලැබීමෙන් t කාලයක දී OQ අරය θ සුළු කෝණයකින් හැරේ.

ගත්ති සංස්ථිති මූලධර්මය යෙදීමෙන්, $\left(\frac{d\theta}{dt}\right)^2 = \frac{3g}{2a}(1 - \cos\theta)$ බව පෙන්වන්න.

ඒනයින්, හෝ අන් ක්‍රමයකින් හෝ, P අංශුවේ ත්වරණය $\frac{3g}{4} \sin\theta$ බව පෙන්වන්න.

t කාලයේ දී Q අංශුව මත නලයෙන් ඇති කරන ප්‍රතික්‍රියාව හා තන්තුවේ ආතතිය සොයන්න.

13. ස්වාභාවික දිග a හා ප්‍රත්‍යාස්ථතා මාපාංකය $2mg$ වූ සැහැල්ලු ප්‍රත්‍යාස්ථ තන්තුවක එක කෙළවරක් අවල A ලක්ෂ්‍යයකට ගැට ගසා ඇත. A හි මට්ටමට ඉහළින් සවිකරන ලද B කුඩා සුමට නාදැත්තක් උඩින් තන්තුව යන අතර, තන්තුවේ අනෙක් කෙළවරට ස්කන්ධය m වූ P අංශුවක් සම්බන්ධ කර ඇත. AB දුර a වන අතර, BA යටි අත් සිරස සමග සාදන කෝණය $\frac{\pi}{3}$ වේ. ආරම්භයේ දී P අංශුව B නාදැත්තට යන්තමින් පහළින් තබා සිරස් ව පහළට $u = \sqrt{\frac{5ga}{8}}$ වේගයෙන් ප්‍රක්ෂේප කරනු ලැබේ. කාලය t වන විට තන්තුවේ විතතිය x යැයි ගනිමු. P අංශුවෙහි සරල අනුවර්තී වලිතය සඳහා සමීකරණය $\ddot{X} + \omega^2 X = 0$ ආකාරයෙන් ප්‍රකාශ කළ හැකි බව පෙන්වන්න; මෙහි $X = x - \frac{a}{2}$ හා $\omega^2 = \frac{2g}{a}$ වේ. මෙම වලිත සමීකරණය සඳහා, $\dot{X}^2 = \omega^2 (A^2 - X^2)$ ආකාරයේ විසඳුමක් උපකල්පනය කරමින්, සරල අනුවර්තී වලිතයේ විස්තාරය $A = \frac{3a}{4}$ බව පෙන්වා, අංශුව ළඟා වන පහත් ම පිහිටීම වූ E ලක්ෂ්‍යය සොයන්න.

සරල අනුවර්තී වලිතයේ C කේන්ද්‍රය පසු කර අංශුව යන විට එහි වේගය $\frac{3u}{\sqrt{5}}$ බව පෙන්වන්න.

අනුරූප වෘත්ත වලිතය සැලකීමෙන්, හෝ අන් ක්‍රමයකින් හෝ, P අංශුව පහළට වලනය වීමේ දී C පසු කර යෑමට ගන්නා කාලය $\sqrt{\frac{a}{2g}} \left\{ \frac{\pi}{2} - \cos^{-1}\left(\frac{2}{3}\right) \right\}$ බව පෙන්වන්න.

තවදුරටත්, P අංශුව එහි පහත් ම පිහිටීම වූ E වෙත ළඟා වීමට ගන්නා කාලයත්, නාදැත්ත මත තන්තුවෙන් ඇති කරනු ලබන බලයේ උපරිම විශාලත්වයත් සොයන්න.

14. xy -තලයේ O මූලය අනුබද්ධයෙන් A, B හා C ලක්ෂ්‍යවල පිහිටුම් දෛශික, සුපුරුදු අංකනයෙන්, පිළිවෙළින් $i + j, 2i + 3j$ හා $4i + 2j$ වේ. $\vec{BP} = \frac{1}{3}\vec{BC}$ වන පරිදි BC මත පිහිටි P ලක්ෂ්‍යයේ පිහිටුම් දෛශිකය සොයන්න. $ABCD$ ත්‍රිකෝණමක D ශීර්ෂය ගනු ලබන්නේ BC හා AD ට සමාන්තර වන පරිදි ද PD, AC ට ලම්බ වන පරිදි ද වේ. D හි පිහිටුම් දෛශිකය $\frac{11}{3}i - \frac{1}{3}j$ බව පෙන්වන්න.

දුර මීටරවලින් ද බලය නිව්ටනවලින් ද මනින ලද, xy -තලයෙහි බල හතරකින් සමන්විත වන පද්ධතියක් පහත දැක්වෙන පරිදි දී ඇත.

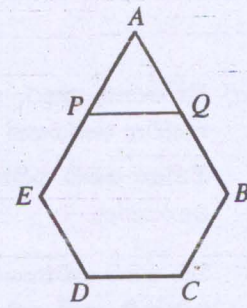
ක්‍රියා ලක්ෂ්‍යයෙහි බන්ධාංක	බලයේ Ox, Oy දිශාවලට සංරචක
$B(2, 3)$	$F_1 = (2, 4)$
$C(4, 2)$	$F_2 = (3, 1)$
$L(0, 1)$	$F_3 = (6, 12)$
$M(0, 6)$	$F_4 = (9, 3)$

(i) F_1 හා F_2 බල දෙකෙහි O මූලය හා $A(1, 1)$ ලක්ෂ්‍යය වටා සුර්ණ ශුන්‍ය වන බව පෙන්වා, ඒනයිත්, F_1, F_2, F_3 හා F_4 බල හතරෙන් සමන්විත පද්ධතියෙහි O මූලය වටා G සුර්ණය දක්ෂිණාවර්ත අතට 60 N m විශාලත්වයෙන් යුතු වන බව පෙන්වන්න.

(ii) පද්ධතියෙහි R සම්ප්‍රයුක්තයේ (X, Y) සංරචක සොයන්න. ඒනයිත්, R හි ක්‍රියා රේඛාවට y -අක්ෂය හමු වන ලක්ෂ්‍යය සොයන්න.

(iii) බල පද්ධතිය $(0, -4)$ ලක්ෂ්‍යයෙහි ක්‍රියා කරන තනි බලයකින් හා සුර්ණය G_1 වූ යුග්මයකින් ප්‍රතිස්ථාපනය කරනු ලැබේ. G_1 හි අගය සොයා, තනි බලයේ ක්‍රියා රේඛාව $D(\frac{11}{3}, -\frac{1}{3})$ ලක්ෂ්‍යය ඔස්සේ යන බව පෙන්වන්න.

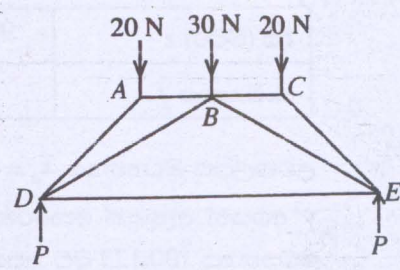
15. (a) AB, BC, CD, DE හා EA ඒකාකාර බර දඬු පහක් ඒවායේ කෙළවරවලින් සුමට ලෙස සන්ධි කර රූපයේ දැක්වෙන පරිදි $ABCDE$ පංචාස්‍රයක හැඩයේ රාමු සැකිල්ලක් සාදා ඇත. BC, CD හා DE දඬු එක එකක දිග l හා බර W වේ. AB හා EA දඬු එක එකක දිග $2l$ හා බර $2W$ වේ. දිග l වූ සැහැල්ලු PQ දණ්ඩක P හා Q දෙකෙළවර පිළිවෙළින් AE හා AB හි මධ්‍ය ලක්ෂ්‍යවලට සුමට ලෙස අසව් කර ඇත. A සන්ධියෙන් නිදහස් ලෙස ඵල්ලා ඇති රාමු සැකිල්ල සිරස් තලයක සමතුලිතව පිහිටයි.



B සන්ධියෙහි ප්‍රතික්‍රියාවේ තිරස් හා සිරස් සංරචක වන (X, Y) ද PQ සැහැල්ලු දණ්ඩේ තෙරපුම වන T ද නිර්ණය කිරීම සඳහා ප්‍රමාණවත් සමීකරණ ලියා දක්වන්න. ඒනයිත්, B සන්ධියේ දී AB දණ්ඩ මත ප්‍රතික්‍රියාව සොයා, $T = \frac{7W}{\sqrt{3}}$ බව පෙන්වන්න.

(b) දෘඪ සැහැල්ලු දඬු හතක් ඒවායේ කෙළවරවලින් නිදහස් ලෙස සන්ධි කර සාදා ගත් සමමිතික රාමු සැකිල්ලක් රූපයේ දැක්වේ. AB, BC හා DE දඬු තිරස් වේ. $\hat{ADE} = \hat{CED} = 45^\circ$ සහ $\hat{BDE} = \hat{BED} = 30^\circ$ වේ. රාමු සැකිල්ලට A, B හා C සන්ධිවල දී රූපයේ දැක්වෙන භාර යොදා ඇති අතර, D හා E සන්ධිවල දී සමාන P සිරස් බලවලින් ආධාර කර ඇත. P හි අගය සොයන්න.

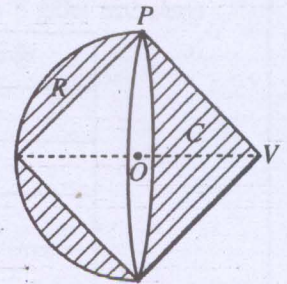
බෝ අංකනය යෙදීමෙන්, A හා D සන්ධි සඳහා ප්‍රත්‍යාබල සටහන් එක ම රූපයක අඳින්න. ඒනයිත්, AD, AB, DE හා DB දඬුවල ප්‍රත්‍යාබල සොයා, ඒවා ආතති හෝ තෙරපුම් වශයෙන් ප්‍රකාශ කරන්න.



16. ආධාරකයේ අරය a හා උස h වූ ඒකාකාර ඝන කේතුවක හා අරය a වූ ඒකාකාර ඝන අර්ධගෝලයක ස්කන්ධ කේන්ද්‍රවල පිහිටුම්, අනුපාතිකය හා පිහිටීම සොයන්න.

ස්කන්ධය M , අරය a හා කේන්ද්‍රය O වූ ඒකාකාර ඝන අර්ධගෝලයකින්, ආධාරකයේ අරය a හා උස a වූ C නම් සෘජු වෘත්ත කේතුව ඉවත් කිරීමෙන් ලැබෙන ඝන වස්තුව R ගැසී ගනී. M ඇසුරෙන් R ඝන වස්තුවේ ස්කන්ධය, හා ස්කන්ධ කේන්ද්‍රයේ පිහිටීම සොයන්න.

ඊළඟට රූපයේ දැක්වෙන ආකාරයට S සංයුක්ත වස්තුවක් සෑදෙන. පරිදි C ඝන කේතුව R ඝන වස්තුවට සම්බන්ධ කරනු ලැබේ. මෙහි දී C හි ආධාරකයේ වෘත්තාකාර දාරය R හි ගැටියට දෘඪ ලෙස සම්බන්ධ කරනු ලබන්නේ ගැටියේ O කේන්ද්‍රය C හි ආධාරකයේ කේන්ද්‍රය සමඟ සම්පාත වන පරිදි ය.



S සංයුක්ත වස්තුවේ ගුරුත්ව කේන්ද්‍රය G , එහි සමමිතික අක්ෂය මත, ආධාරකවල පොදු කේන්ද්‍රය වන O සිට $\frac{a}{8}$ දුරකින් පිහිටන බව පෙන්වන්න.

- (a) S සංයුක්ත වස්තුව, දාරයේ P ලක්ෂ්‍යයකින් නිදහස් ලෙස ඵල්ලනු ලැබේ.
 - (i) සමමිතික අක්ෂය වන OV හි තිරසර ආනතිය සොයන්න; මෙහි V යනු C හි ශීර්ෂයයි.
 - (ii) සමමිතික අක්ෂය තිරස් ලෙස තබා ගැනීම සඳහා V ශීර්ෂයට ඇදිය යුතු අංශුවේ m ස්කන්ධය, M ඇසුරෙන් සොයන්න.
- (b) V හි දී සම්බන්ධ කරන ලද m ස්කන්ධය ද සහිත S සංයුක්ත වස්තුව, ඵල්ලන ලද ලක්ෂ්‍යයෙන් ඉවත් කර, එහි අර්ධගෝලීය පෘෂ්ඨය අවල සුමට තිරස් තලයක ඇතිව සමතුලිතව තබනු ලැබේ. OV අක්ෂය හා උඩු අත් සිරස අතර කෝණයේ අගය පරාසය සොයන්න.

17. (a) මිනිසෙක්, යතුරු පැදිය, පා පැදිය හෝ පයින් යන ගමන් ක්‍රම තුනෙන් එකක් පමණක් යොදා ගනිමින්, නිශ්චිත මාර්ගයක් දිගේ අනතුරු සහිත ගමනක් යයි.

මිනිසා මෙම ගමනාගමන ක්‍රම යොදා ගැනීමේ සම්භාවිතා පිළිවෙළින් $p, 2p$ හා $3p$ වේ නම්, p හි අගය සොයන්න.

ඔහු මෙම ගමනාගමන ක්‍රම යොදා ගැනීමේ දී අනතුරක් සිදු වීමේ සම්භාවිතා පිළිවෙළින් $\frac{1}{5}, \frac{1}{10}$ සහ $\frac{1}{20}$ වේ නම්, තනි ගමනක දී අනතුරක් සිදු වීමේ සම්භාවිතාව ගණනය කරන්න.

ගමන අතරතුරේ දී මිනිසාට අනතුරක් සිදු වී ඇති බව දන්නේ නම්, මිනිසා ගමන් කරමින් සිටියේ,

- (i) යතුරු පැදියෙන්, (ii) පා පැදියෙන්, (iii) පයින්

වීමේ සම්භාවිතාව ගණනය කරන්න.

වඩාත් ආරක්ෂිත වූයේ කුමන ගමනාගමන ක්‍රමය ද? ඔබගේ පිළිතුර සනාථ කරන්න.

(b) කාර්මික විද්‍යාල සිසුන් 100 ක කණ්ඩායමක් මහා මාර්ගයක එක්තරා කොටසක් මනින ලද අතර, ඔවුන්ගේ මිනුම් පහත සඳහන් සංඛ්‍යාත වගුවේ දක්වා ඇත.

දිග (මීටර) x	99.8	99.9	100.0	100.1	100.2	100.3	100.4
සංඛ්‍යාතය f	5	7	12	33	25	15	3

උපකල්පිත මධ්‍යන්‍යය $\bar{x}_a = 100.1$ හා $d = 0.1$ සඳහා, $y = \frac{x - \bar{x}_a}{d}$ පරිණාමනය භාවිතයෙන්, අනුරූප y හා y^2 අගයන් ඇතුළත් කෙරෙන පරිදි ඉහත වගුව විස්තීරණය කරන්න. y හි මධ්‍යන්‍යය සොයා, ඒහයින් x හි මධ්‍යන්‍යය 100.123 බව පෙන්වන්න.

$\sqrt{1.917} \approx 1.385$ බව ගනිමින්, සංඛ්‍යාත ව්‍යාප්තියේ සම්මත අපගමනය, ආසන්න වශයෙන් දශමස්ථාන තුනකට නිවැරදි ව, ගණනය කරන්න.