

**අධ්‍යයන පොදු සහතික පත්‍ර (උසස් පෙළ) විභාගය, අගෝස්තු 2016**  
**General Certificate of Education (Adv.Level) Examination, August 2016**  
**ආර්ථික විද්‍යාව I/පැය දෙක යි**

උපදෙස්:

- ❖ සියලු ම ප්‍රශ්නවලට පිළිතුරු මෙම ප්‍රශ්නපත්‍රයේ ම සපයන්න.
- ❖ උත්තර පත්‍රයේ නියමිත ස්ථානයේ ඔබේ විභාග අංකය ලියන්න.
- ❖ උත්තර පත්‍රයේ පිටුපස දී ඇති උපදෙස් ද සැලකිල්ලෙන් කියවා පිළිපදින්න.
- ❖ 1 සිට 30 තෙක් එක් එක් ප්‍රශ්නයට (1), (2), (3), (4), (5) යන පිළිතුරුවලින් නිවැරදි හෝ ඉතාමත් ගැළපෙන හෝ පිළිතුරු තෝරාගෙන, එය උත්තර පත්‍රයේ පසුපස දක්වෙන උපදෙස් පරිදි කතිරයක් (X) යොදා දක්වන්න.

01. ආර්ථික විද්‍යාවේ 'හිඟකම' සංකල්පයෙන් අදහස් කරනුයේ,
- (1) සමාජය තමන් සතු සියලු සම්පත් කාර්යක්ෂම ව උපයෝජනය නොකරන තත්ත්වයකි.
  - (2) පවත්නා සම්පත්වලින් මිනිසුන්ගේ චුළුමනා කිසිසේත් සපුරාගත නොහැකි තත්ත්වයකි.
  - (3) සෑම සමාජයක ම කිසියම් සාමාජික පිරිසක් දිළින්දන් ලෙස ජීවත් වන තත්ත්වයකි.
  - (4) සමාජයේ වශයෙන් හිතකර භාණ්ඩ හා සේවා නිපදවනවා වෙනුවට, නොවැදගත් භාණ්ඩ හා සේවා චුළුමනාවටත් වඩා නිපදවන තත්ත්වයකි.
  - (5) නිෂ්පාදනය කාර්යක්ෂම වුවත් බෙදාහැරීම අකාර්යක්ෂම ව පවතින තත්ත්වයකි.
- (.....)

02. නිෂ්පාදන හැකියා මායිම් වනු, මූලයට අවතල හැඩයකින් යුතු ව අදිනු ලබන්නේ,
- (1) කවර හෝ භාණ්ඩයක් වැඩිපුර නිපදවන විට, එහි ආවස්ථික පිරිවැය පහළ බසින බව පිළිබිඹු කිරීමට ය.
  - (2) ආර්ථිකය සහ සම්පත්වල හිඟකම පිළිබිඹු කිරීමට ය.
  - (3) කවර හෝ භාණ්ඩයක් වැඩිපුර නිපදවන විට, එහි ආවස්ථික පිරිවැය සඳහා ව පවතින සර්ව පිළිබිඹු කිරීමට ය.
  - (4) ආර්ථිකයක සම්පත් බෙදීයාමේ අසාධාරණත්වය පිළිබිඹු කිරීමට ය.
  - (5) කවර හෝ භාණ්ඩයක් වැඩිපුර නිපදවන විට, එහි ආවස්ථික පිරිවැය ඉහළ නගින බව පිළිබිඹු කිරීමට ය.
- (.....)

03. නිදහස් වෙළෙඳ පොළ ආර්ථිකයක පහත සඳහන් කවර කරුණක් සාවද්‍ය වේ ද?
- (1) මිල, ආර්ථිකයේ තරගකාරී නිෂ්පාදන ක්ෂේත්‍ර අතර සම්පත් සම සේ බෙදා වෙන් කරයි.
  - (2) මිල, භාණ්ඩ හා සේවාවන්හි සාපේක්ෂ හිඟකම සහ ඒවායේ නිෂ්පාදන පිරිවැය පෙන්නුම් කරයි.
  - (3) සාපේක්ෂ මිල වෙනස්කම්, නිෂ්පාදන ආයතනවල ලාභ නිර්ණය කරන සාධකයක් වන අතර, එබැවින් එය නිෂ්පාදනය වෙබරියමත් කිරීමට හෝ අවෙබරියමත් කිරීමට හෝ බලපායි.
  - (4) මිල, භාණ්ඩ හා සේවා සඳහා පාරිභෝගිකයන්ගේ ගෙවීමට ඇති කැමැත්ත පිළිබඳ මිනුමක් වේ.
  - (5) මිල, භාණ්ඩයක් ලබාගැනීම සඳහා කොපමණ කැප කළ යුතු ද යන්න පිළිබඳ සංඥාවක් පාරිභෝගිකයන්ට ලබාදෙයි.
- (.....)

04. බාහිරතා නොමැති තරගකාරී වෙළෙඳ පොළක සම්පත් බෙදා වෙන් කිරීමේ කාර්යක්ෂමතාව හටගනු ඇත්තේ සියලු වෙළෙඳ පොළවල මිල,
- (1) මුළු පිරිවැයට සමාන වන විට දී ය.
  - (2) ආන්තික අයහාරයට සමාන වන විට දී ය.
  - (3) ආන්තික පිරිවැයට සමාන වන විට දී ය.
  - (4) සාමාන්‍ය විචල්‍ය පිරිවැයට සමාන වන විට දී ය.
  - (5) ආන්තික නිෂ්පාදනයේ වටිනාකමට සමාන වන විට දී ය.
- (.....)

05. 'මානව ප්‍රාණධනය' යන්නෙන් අදහස් කරනුයේ,
- (1) ප්‍රාණධන උපකරණ නිපදවීමට යොදාගැනෙන ශ්‍රම සම්පත යි.
  - (2) ගොඩනැගිලි සහ යන්ත්‍ර-යුතු යි.
  - (3) ශ්‍රම හමුදාව සතු කුසලතා සහ දැනුම් සම්භාරය යි.
  - (4) ව්‍යවසායකත්වය සහ අවදානම් දැරීමේ හැකියාව යි.
  - (5) සෞඛ්‍ය හා අධ්‍යාපන ක්ෂේත්‍රයන්හි සේවා නියුක්ත ශ්‍රම හමුදාව යි.
- (.....)

06. ව්‍යව නිමැවුම යනු,
- (1) පසුගිය දසවසර තුළ ආර්ථිකයක් සැබවින් ම අත් කරගත් උපරිම දළ දේශීය නිෂ්පාදනය වේ.
  - (2) සමස්ත ශ්‍රම හමුදාව ම වෙළෙඳ භාණ්ඩ නිෂ්පාදන අංශයේ සේවා නියුක්ත වූ කාල පරිච්ඡේදවල දී අත් කරගත් නිමැවුම වේ.
  - (3) සියලු සම්පත් වඩා කාර්යක්ෂම ව යොදාගැනීමෙන් ආර්ථිකයට කිසිවිටක අත් කරගත නොහැකි අරමුණකි.
  - (4) ආර්ථිකයේ සම්පත් පූර්ණ සේවා නියුක්ත ව, ප්‍රයස්න මට්ටමින් උපයෝජනය කරන විට නිපදවිය හැකි දළ දේශීය නිෂ්පාදනය වේ.
  - (5) ආර්ථිකයේ සම්පත් පූර්ණ සේවා නියුක්ත ව, උපරිම මට්ටමින් උපයෝජනය කරන විට නිපදවිය හැකි දළ දේශීය නිෂ්පාදනය වේ.
- (.....)

07. X භාණ්ඩය බාල භාණ්ඩයක් බවත්, තරගකාරී වෙළෙඳ පොළක අලෙවි කරනු ලබන බවත් සලකන්න. X භාණ්ඩය සඳහා ඇති වෙළෙඳ පොළෙහි අනෙකුත් කරුණු නොවෙනස් ව තිබිය දී, හැකුම්කරුවන්ගේ ආදායමේ පහළ බැසීමක් නිසා වෙළෙඳ පොළ ඉල්ලුම සමතුලිත මිල සහ සමතුලිත ප්‍රමාණය මත කෙබඳු බලපෑමක් ඇති වේ ද?

	ඉල්ලුම	මිල	ප්‍රමාණය
(1)	අඩු වේ.	අඩු වේ.	අඩු වේ.
(2)	වැඩි වේ.	වැඩි වේ.	වැඩි වේ.
(3)	අඩු වේ.	වැඩි වේ.	අඩු වේ.
(4)	වැඩි වේ.	අඩු වේ.	අඩු වේ.
(5)	අඩු වේ.	වැඩි වේ.	වැඩි වේ.

(.....)

08. කිසියම් අනාවරණ භාණ්ඩයක් මත විශේෂිත බද්දක් (ඒකක බද්දක්) පනවනු ලබන අතර, එම භාණ්ඩයේ වෙළෙඳ පොළ ඉල්ලුම් ලේඛනයක්, බද්දට පෙර හා බද්දට පසු සැපයුම් ලේඛනයක් පහත දැක්වෙන වගුව පෙන්වනු ලබයි.

මිල (රු.)	ඉල්ලුම් කරනු ලබන ප්‍රමාණය	බද්දට පෙර සැපයුම් ප්‍රමාණය	බද්දට පසු සැපයුම් ප්‍රමාණය
12	50	20	0
13	50	30	10
14	50	40	20
15	50	50	30
16	50	60	40

භාණ්ඩ ඒකකයක් සඳහා අය කරනු ලැබූ බද්දේ ප්‍රමාණය කොපමණ ද?

- (1) රුපි. 2 (2) රුපි. 3 (3) රුපි. 4 (4) රුපි. 5 (5) රුපි. 6 (.....)

09. බෝල්පොයින්ට් පැන් සඳහා මිල ඉල්ලුම් නම්‍යතාව -3.0කි. බෝල්පොයින්ට් පැනක මිල රුපි. 25ක් වන විට පැන් 300ක් ඉල්ලුම් කරනු ලැබේ. පැනක මිල රුපි. 20කට අඩු වුව හොත්, කොපමණ ප්‍රමාණයක් ඉල්ලුම් කරනු ලැබේ ද?

- (1) 900 (2) 630 (3) 560 (4) 480 (5) 180 (.....)

10. කිසියම් භාණ්ඩයක් හෝ සේවාවක් හෝ සඳහා වන වෙළෙඳ පොළ සැපයුම් වක්‍රය වීමට විතැන් වනුයේ,

- (1) තාක්ෂණය වැඩි දියුණු වන විට දී ය.  
 (2) යෙදවුම් මිල ගණන් පහළ වැටෙන විට දී ය.  
 (3) යෙදවුම් මිල ගණන් ඉහළ නැගෙන විට දී ය.  
 (4) තාක්ෂණය වැඩි දියුණු වන විට හා යෙදවුම් මිල ගණන් පහළ වැටෙන විට දී ය.  
 (5) කර්මාන්තය තුළට සැපයුම්කරුවන් වැඩි වැඩියෙන් ප්‍රවේශ වන විට දී ය.

(.....)

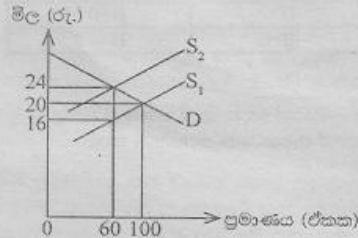
11. X භාණ්ඩය සඳහා ඇති සැපයුම් වක්‍රය පහත දැක්වෙන සමීකරණයෙන් පෙන්වනු ලබයි.

$$Q_x = 6P_x$$

මෙහි  $s_{Q_x}$  යනු X භාණ්ඩයේ සැපයුම් ප්‍රමාණය වන අතර  $P_x$  යනු X භාණ්ඩයේ මිල ය. X භාණ්ඩයේ සැපයුම් මිල නම්‍යතාව පිළිබඳ ව මෙම සමීකරණයෙන් නිගමනය කළ හැක්කේ කුමක් ද?

- (1) සැපයුම් මිල නම්‍යතාව 6.0කි.  
 (2) සැපයුම් මිල නම්‍යතාව 1.0කි.  
 (3) සැපයුම් මිල නම්‍යතාව 0.1කි.  
 (4) සැපයුම් මිල නම්‍යතාව 0.0කි.  
 (5) සැපයුම් මිල නම්‍යතාව 0.6කි. (.....)

12. X භාණ්ඩය මත පනවා තිබූ විශේෂිත බද්දක් ඉවත් කළ පසුව, සැපයුම්  $S_2$  සිට  $S_1$  දක්වා වැඩි වන බව පහත සඳහන් රූපසටහන පෙන්වයි.  $S_1$  සැපයුම් වක්‍රය බද්ද පැනවීමට පෙර තිබූ සැපයුම් වක්‍රය සේ ම බද්ද ඉවත් කළ පසු දක්නට ඇති සැපයුම් වක්‍රය ද වේ.



බද්ද ඉවත් කිරීම, බදු අයහාරය සහ පාරිභෝගික වියදම මත කෙබඳු බලපෑමක් ඇති කරනු ලැබේ ද?

	බදු අයහාරය	පාරිභෝගික වියදම
(1)	1 440කින් අඩු වේ.	2 000කින් වැඩි වේ.
(2)	480කින් අඩු වේ.	560කින් අඩු වේ.
(3)	480කින් අඩු වේ.	560කින් වැඩි වේ.
(4)	960කින් වැඩි වේ.	1 440කින් වැඩි වේ.
(5)	1 440කින් අඩු වේ.	960කින් අඩු වේ.

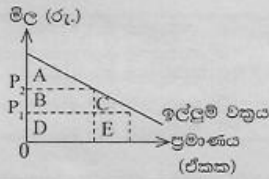
(.....)

13. ආදේශන ප්‍රතිවිපාකය යනු පහත සඳහන් කරුණක ප්‍රතිඵලයක් ලෙස ඉල්ලුම් කරනු ලබන ප්‍රමාණයේ හටගන්නා වෙනස් වීම ය. එනම්,

- (1) අනෙකුත් කරුණු නොවෙනස් ව තිබිය දී සාපේක්ෂ මිල වෙනස් වීමකි.  
 (2) මූලික ආදායම් නොවෙනස් ව තිබිය දී නිරපේක්ෂ මිල වෙනස් වීමකි.  
 (3) මුදල් ආදායම් නොවෙනස් ව තිබිය දී සාපේක්ෂ මිල වෙනස් වීමකි.  
 (4) සාපේක්ෂ මිල නොවෙනස් ව තිබිය දී මූලික ආදායම් වෙනස් වීමකි.  
 (5) සාපේක්ෂ මිල නොවෙනස් ව තිබිය දී මුදල් ආදායම් වෙනස් වීමකි.

(.....)

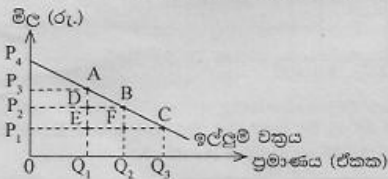
14. කිසියම් රටක් විසින් ආනයනය කරනු ලබන පරිභෝජන භාණ්ඩයක් සඳහා ඇති ඉල්ලුම් වක්‍රය මෙම රූපසටහන පෙන්වනු ලබයි. එම භාණ්ඩය මත ඒකකකට  $P_1 - P_2$  ප්‍රමාණයේ ආනයන බද්දක් රජය විසින් පනවනු ලබයි. එහි ප්‍රතිඵලයක් වශයෙන් හටගන්නා පාරිභෝගික අතිරික්තයේ අඩු වීම හා ආණ්ඩුවේ අයහාරයේ වැඩි වීම මැනෙනුයේ රූපසටහනේ කවර ප්‍රදේශයකින් ද?



	පාරිභෝගික අතිරික්තය අඩු වීම	ආණ්ඩුවේ අයහාරය වැඩි වීම
(1)	A+B	B+C
(2)	A+B+C	B
(3)	A+B	B+C+D+E
(4)	D	B+D
(5)	B+C	B

(.....)

15. කිසියම් භාණ්ඩයක් සඳහා ඇති වෙළෙඳ පොළ ඉල්ලුම් වක්‍රය පහත සඳහන් රූපසටහන පෙන්වුම් කරයි.



මෙම භාණ්ඩයේ සැපයුම පූර්ණ නම්, ආරම්භයේ දී එහි මිල  $P_1$  වශයෙන් පැවති බවත් සලකන්න. එම භාණ්ඩය මත බද්දක් පැනවීම නිසා, මිල  $P_1$  සිට  $P_2$  දක්වා වැඩි වූයේ නම්, බද්ද නිසා හටගන්නා අධිබද්ධ බර කොපමණ වේ ද?

- (1)  $P_3 A P_2$  ප්‍රදේශය (2)  $A D B$  ප්‍රදේශය  
 (3)  $P_1 P_1 C$  ප්‍රදේශය (4)  $P_1 C B P_2$  ප්‍රදේශය  
 (5)  $B F C$  ප්‍රදේශය

(.....)

16. ආයතනයක් සියලු ම යෙදවුම් 50% කින් වැඩි කරන විට නිමැවුම 40% කින් ඉහළ නැගී. මෙම තත්ත්වය පෙන්වුම් කරනුයේ,

- (1) හිත වන ඵල නීතිය යි.  
 (2) අඩු වන පරිමාණානුකූල ඵල නීතිය යි.  
 (3) විචල්‍ය සාධකානුපාත නීතිය යි.  
 (4) වැඩි වන පරිමාණානුකූල ඵල නීතිය යි.  
 (5) ආන්තික ඵල නීතිය යි.

(.....)

17. අවම සාමාන්‍ය විචල්‍ය පිරිවැයට වඩා පහළ මිල පරාසයේ දී, පූර්ණ තරගකාරී නිෂ්පාදන ආයතනයක සැපයුම් වක්‍රය,

- (1) පවත්නා වෙළෙඳ පොළ මිලේ දී තිරස් අක්ෂයට සමාන්තර රේඛාවක් වේ.  
 (2) ඉහත නිමැවුමේ දී සිරස් රේඛාවක් වේ.  
 (3) ආයතනයේ ආන්තික පිරිවැය වක්‍රයට ම සමාන වේ.  
 (4) ආයතනයේ සාමාන්‍ය විචල්‍ය පිරිවැය වක්‍රයට ම සමාන වේ.  
 (5) ධන නිමැවුමක් සහිත ව ඉහළට බෑවුම් වේ.

(.....)

18. තරගකාරී වෙළෙඳ පොළක කටයුතු කරන නිෂ්පාදන ආයතනයක ලාභ උපරිමනය කෙරෙන නිමැවුම් මට්ටම නිර්ණය වන ලක්ෂ්‍යයේ දී,

- (1) ආන්තික පිරිවැය පහළ බසිමින් පවතී.  
 (2) ආන්තික පිරිවැය ඉහළ නගිමින් පවතී.  
 (3) ආන්තික අයහාරය ඉහළ නගිමින් පවතී.  
 (4) ආන්තික පිරිවැය අවම මට්ටමේ පවතී.  
 (5) ආන්තික පිරිවැය ආන්තික අයහාරයට වඩා පහළින් පවතී.

(.....)

19. නිෂ්පාදන ආයතනයක් කෙටි කාලයේ දී කිසිවක් නිෂ්පාදනය නොකරන්නේ නම්, පහත සඳහන් පිරිවැය අතරින් ඉහත අගයක් ගනුයේ කවර පිරිවැයක් ද?

- (1) ආවේණික පිරිවැය (2) මුළු විචල්‍ය පිරිවැය  
 (3) මුළු ස්ථාවර පිරිවැය (4) සාමාන්‍ය මුළු පිරිවැය  
 (5) මුළු පිරිවැය

(.....)

20. ආදායම් වක්‍රීය ප්‍රවාහ ආකෘතිය තුළ ඇතුළත් 'මූර්ත' ප්‍රවාහ අතරෙන් එකක් වන්නේ,

- (1) ආයතන වෙතින් කුටුම්භ කරා ඇදෙන භාණ්ඩ හා සේවා ප්‍රවාහය යි.  
 (2) ආයතන වෙතින් කුටුම්භ කරා ඇදෙන සාධක සේවා ප්‍රවාහය යි.  
 (3) කුටුම්භ වෙතින් ආයතන කරා ඇදෙන භාණ්ඩ හා සේවා ප්‍රවාහය යි.  
 (4) ආයතන වෙතින් කුටුම්භ කරා ගලා යන මුදල් ගෙවීම් ප්‍රවාහය යි.  
 (5) කුටුම්භ වෙතින් ආයතන කරා ගලා යන මුදල් ගෙවීම් ප්‍රවාහය යි.

(.....)

21. පසුගිය වර්ෂයේ දී කිසියම් රටක පොදු මිල මට්ටම ඉහළ ගිය නමුදු භාණ්ඩ හා සේවා නිෂ්පාදනය නොවෙනස් ව තිබුණි යැයි සලකන්න. මෙම තොරතුරුවලට අනුව පහත සඳහන් කවරක් නිවැරදි වේ ද?

	නාමික දළ දේශීය නිෂ්පාදනය	මූර්ත දළ දේශීය නිෂ්පාදනය
(1)	ඉහළ ගියේ ය.	ඉහළ ගියේ ය.
(2)	නොවෙනස් ව තිබිණි.	නොවෙනස් ව තිබිණි.
(3)	පහළ වැටුණි.	පහළ වැටුණි.
(4)	ඉහළ ගියේ ය.	නොවෙනස් ව තිබිණි.
(5)	පහළ වැටුණි.	ඉහළ ගියේ ය.

(.....)

22. පහත සඳහන් දෑ අතරින්, පෞද්ගලික ආදායම ගණනය කිරීමේ දී ඇතුළත් කරගන්නා නමුදු ජාතික ආදායම ගණනය කිරීමේ දී බැහැර කෙරෙන්නේ කවරක් ද?

- (1) සමාගමික ලාභාංශය  
 (2) සංක්‍රාම ගෙවීම්  
 (3) සමාජ ආරක්ෂණ දායක මුදල්  
 (4) සමාගමික නොබෙදූ ලාභ  
 (5) ශුද්ධ පොලීය

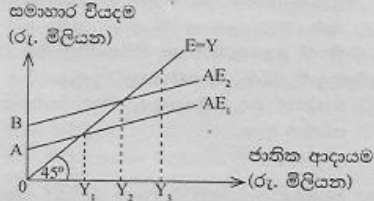
(.....)

23. සරල ආර්ථිකයක සමාහාර පරිභෝජන ශ්‍රිතය  $C = 250 + 0.75Y$  බවත්, ආයෝජනය  $I = 450$  බවත්, උපකල්පනය කරන්න. මෙම ආර්ථිකයේ සමතුලිත ආදායම මට්ටම
- (1) 1 800 කි. (2) 800 කි.
  - (3) 3 600 කි. (4) 7 200 කි.
  - (5) 9 000 කි. (.....)

24. ආයෝජන ගුණකයේ වටිනාකම වැඩි වන්නේ පහත සඳහන් කවර කරුණක වැඩි වීමක් නිසා ද?
- (1) මුදල් සැපයුම
  - (2) සමතුලිත නිමැවුම
  - (3) පෞද්ගලික ආදායම් බදු අනුපාතිකය
  - (4) ආන්තික පරිභෝජන නැඹියාව
  - (5) ව්‍යවස්ථාපිත සංචිත අනුපාතය (.....)

25. ආර්ථිකයේ වක්‍රීය ආදායම් ප්‍රවාහයට කරනු ලබන විදීමක් (injection) නියෝජනය කරනුයේ පහත දැක්වෙන කවරක් ද?
- (1) වෙළෙඳ ගිණුමේ හිඟයක්
  - (2) ආණ්ඩුවේ අයවැය ලේඛනයේ හිඟයක්
  - (3) මුදල් බදු ඉහළ යාමක්
  - (4) පෞද්ගලික සමාගම්වල රඳවාගනු ලැබූ ලාභ
  - (5) කුටුම්භ ඉතුරුම් (.....)

26. කිසියම් ආර්ථිකයක සාර්ව ආර්ථික විචලනයන්ගේ හැසිරීම පහත දැක්වෙන රූපසටහන පෙන්වනුම් කරයි.



- මෙම ආර්ථිකයේ ජාතික ආදායම් මට්ටම  $Y_3$  සහ සමාහාර වියදම් ශ්‍රිතය  $AE_2$  වේ නම්,
- (1) ආර්ථිකය සමතුලිත වේ.
  - (2) අනපේක්ෂිත තොග සමුච්චනයක් සහ ජාතික ආදායම ඉහළ යාමක් සිදු වේ.
  - (3) අනපේක්ෂිත තොග සමුච්චනයක් සහ ජාතික ආදායම පහළ වැටීමක් සිදු වේ.
  - (4) අනපේක්ෂිත තොග අඩු වීමක් සහ ජාතික ආදායම ඉහළ යාමක් සිදු වේ.
  - (5) අනපේක්ෂිත තොග අඩු වීමක් සහ ජාතික ආදායම පහළ වැටීමක් සිදු වේ. (.....)

27. මුදල් ප්‍රමාණවැදයට අනුව භාමික මුදල් සැපයුමෙහි 10% ක වැඩි වීමක් නිසා,
- (1) මූර්ත මුදල් සැපයුම 10% කින් ඉහළ යනු ඇත.
  - (2) මූර්ත නිමැවුම 10% කින් ඉහළ යනු ඇත.
  - (3) පොලී අනුපාතිකය 10% කින් පහළ වැටෙනු ඇත.
  - (4) පොදු මිල මට්ටම 10% කින් ඉහළ යනු ඇත.
  - (5) එයට හිලවී වශයෙන් මුදලේ සංසරණ ප්‍රවේගය පහළ වැටෙනු ඇත. (.....)

28. රටක ජාතික ආදායම පූර්ණ සේවා නියුක්ති මට්ටමේ ඇතැයි උපකල්පනය කරන්නේ නම්, උද්ධමනයක් ඇති වීමට වඩාත් හේතු වන්නේ පහත සඳහන් කවර තත්ත්වයක් ද?
- (1) පොලී අනුපාතිකයේ පහළ යාමක්
  - (2) ශ්‍රම ඵලදායිතාවයේ ඉහළ යාමක්
  - (3) විනිමය අනුපාතිකයේ අගය ඉහළ යාමක්
  - (4) ආන්තික ආයාන නැඹියාවේ ඉහළ යාමක්
  - (5) පෞද්ගලික ආදායම් බදු අනුපාතිකයේ ඉහළ යාමක් (.....)

29. වාණිජ බැංකුවලට මුදල් මැවිය හැක්කේ,
- (1) සංචිත පුද්ගලිකත්වලට මාරු කිරීමෙනි.
  - (2) මහ බැංකුවෙන් භාණ්ඩාගාර බිල්පත් මිල දී ගැනීමෙනි.
  - (3) අතැති මුදල් මහ බැංකුව වෙත යැවීමෙනි.
  - (4) 100% ක සංචිත අවශ්‍යතාවක් පවත්වා ගැනීමෙනි.
  - (5) අධිසංචිත ගනුදෙනුකරුවන්ට ණය වශයෙන් ලබාදීමෙනි. (.....)

30. එක්තරා පුද්ගලයකු තම වාණිජ බැංකු තැන්පතු ගිණුමෙන් රු. 10 000 ක් ආපසු ගනු ලැබේ යැයි සලකන්න. ව්‍යවස්ථාපිත සංචිත අවශ්‍යතාවය 20% ක් වේ නම් සහ අනෙකුත් කරුණු කිසිවක් නොවෙනස් වී පවතී නම් මෙම ගනුදෙනුව නිසා සෘජුව ම,
- (1) මුදල් සැපයුම රු. 10 000 කින් අඩු වේ.
  - (2) බැංකු තැන්පතු රු. 10 000 කින් අඩු වේ.
  - (3) මුදල් සැපයුම රු. 50 000 කින් අඩු වේ.
  - (4) බැංකු තැන්පතු රු. 50 000 කින් අඩු වේ.
  - (5) බැංකු තැන්පතු රු. 8 000 කින් අඩු වේ. (.....)

31. ශ්‍රී ලංකාවේ වාණිජ බැංකු තම ව්‍යවස්ථාපිත සංචිත තබාගනුයේ,
- (1) අතැති මුදල් සහ මහ බැංකු තැන්පතු වශයෙනි.
  - (2) අතැති මුදල් සහ භාණ්ඩාගාර බිල්පත් වශයෙනි.
  - (3) බැංකුවේ සේප්පුවල ඇති රත්‍රං සහ විදේශ ව්‍යවහාර මුදල් වශයෙනි.
  - (4) ක්ෂණික ව ලබාගත හැකි වෙනත් වාණිජ බැංකුවල තැන්පතු වශයෙනි.
  - (5) මහ බැංකුවේ පවත්වා ගනු ලබන තැන්පතු සහ විදේශ ව්‍යවහාර මුදල් වශයෙනි. (.....)

32. මහ බැංකුව විසින් වාණිජ බැංකුවලින් භාණ්ඩාගාර බිල්පත් මිල දී ගන්නේ නම්, වාණිජ බැංකු සංචිතවලට සහ මුදල් සැපයුමට කුමක් සිදු වේ ද?

	බැංකු සංචිත	මුදල් සැපයුම
(1)	වැඩි වේ.	අඩු වේ.
(2)	වැඩි වේ.	වැඩි වේ.
(3)	අඩු වේ.	අඩු වේ.
(4)	අඩු වේ.	වැඩි වේ.
(5)	වැඩි වේ.	වෙනස් නොවේ.

(.....)

33. පරිභෝජනයේ කරගනැරිත්වයක් නොමැති සහ පරිභෝජනයෙන් බැහැර කරලීමේ හැකියාවක් නොමැති භාණ්ඩයක්,  
 (1) ශුද්ධ පොද්ගලික භාණ්ඩයක් විය නොහැකි ය.  
 (2) ශුද්ධ පොදු භාණ්ඩයක් විය නොහැකි ය.  
 (3) බාල භාණ්ඩයක් විය නොහැකි ය.  
 (4) අර්ධ පොදු භාණ්ඩයක් විය නොහැකි ය.  
 (5) ගෝලීය පොදු භාණ්ඩයක් විය නොහැකි ය. (.....)

34. ප්‍රතික්‍රමිත ආදායම් බද්දක් ක්‍රියාත්මක වන විට දී දිළින්නදෝ,  
 (1) තම ආදායමින් ධනවත් අයට වඩා අඩු ප්‍රතිශතයක් බදු වශයෙන් ගෙවති.  
 (2) ධනවත් අයට වඩා වැඩි රුපියල් ප්‍රමාණයක් බදු වශයෙන් ගෙවති.  
 (3) තම ආදායම් මට්ටම සමඟ සමානුපාතික ව වෙනස් වන බද්දක් ගෙවති.  
 (4) ධනවත් අයට වඩා අඩු රුපියල් ප්‍රමාණයක් බදු වශයෙන් ගෙවති.  
 (5) තම ආදායමින් ධනවත් අයට වඩා වැඩි ප්‍රතිශතයක් බදු වශයෙන් ගෙවති. (.....)

35. වැඩිපුර තවත් එක් පුද්ගලයෙකුට ශුද්ධ පොදු භාණ්ඩයක් භාවිත කිරීමට ඉඩ සලසා දීමේ ආන්තික සමාජ පිරිවැය,  
 (1) සෘණ වේ. (2) ශුන්‍ය වේ.  
 (3) ධන වේ. (4) අපරිමිත වේ.  
 (5) භාවිත කරන්නන් සංඛ්‍යාව වැඩි වෙත් ම ඉහළ නගී. (.....)

36. නිදහස් වෙළෙඳ පොළක් තුළ නිෂ්පාදනය කෙරෙන එක්කරා භාණ්ඩයක සමතුලිත නිමැවුම් මට්ටමේ දී එම භාණ්ඩයේ ආන්තික පෞද්ගලික හා බාහිර ප්‍රතිලාභන්, ආන්තික පෞද්ගලික හා බාහිර පිරිවැයන් වශයෙන් දක්වේ.

අයිතමය	රුපි. මිලියන	අයිතමය	රුපි. මිලියන
ආන්තික පෞද්ගලික ප්‍රතිලාභ	36	ආන්තික පෞද්ගලික පිරිවැය	24
ආන්තික බාහිර ප්‍රතිලාභ	18	ආන්තික බාහිර පිරිවැය	0

- මෙම වෙළෙඳ පොළට රජය මැදිහත් වීමෙන් සමීපත් බෙදා වෙන් කිරීමේ කාර්යක්ෂමතාව ඉහළ දැමිය හැකි ය. මක්නිසාද යත් එම භාණ්ඩය,  
 (1) පොදු භාණ්ඩයක් වන බැවිනි.  
 (2) ශුභ සාධක භාණ්ඩයක් වන බැවිනි.  
 (3) අවමුණ භාණ්ඩයක් වන බැවිනි.  
 (4) ගෝලීය පොදු භාණ්ඩයක් වන බැවිනි.  
 (5) බාල භාණ්ඩයක් වන බැවිනි. (.....)

37. අයවැය නිහඟ මූල්‍යනයට යොදාගනු ලබන පහත සඳහන් ක්‍රම අතරෙන්, සමාහාර ඉල්ලුම් විශාලත ම ප්‍රමාණයකින් වැඩි කළ හැක්කේ කවරක් මගින් ද?  
 (1) විදේශිකයන්ට පිළිණපත් අලෙවි කිරීම  
 (2) මහ බැංකුවට පිළිණපත් අලෙවි කිරීම  
 (3) වාණිජ බැංකුවලට පිළිණපත් අලෙවි කිරීම  
 (4) ජාතික ඉතිරි කිරීමේ බැංකුවට පිළිණපත් අලෙවි කිරීම  
 (5) සේවක අර්ථසාධක අරමුදලට පිළිණපත් අලෙවි කිරීම (.....)

38. පහත වගුව සැලකිල්ලට ගන්න.

වර්ෂය	අපනයන මිල දර්ශකය	වෙළෙඳ අනුපාත දර්ශකය
1	100	100
2	90	80
3	80	60

- මෙම දත්තවලට අනුව එළැඹිය හැකි නිගමනයක් වන්නේ අදාළ කාල පරිච්ඡේදයේ දී,  
 (1) අපනයන මිල ඉහළ නගිමින් පැවති බව ය.  
 (2) ආනයන මිල ඉහළ නගිමින් පැවති බව ය.  
 (3) වෙළෙඳ අනුපාතයේ වැඩි දියුණු වීමක් සිදු වූ බව ය.  
 (4) සමාන අපනයන ප්‍රමාණයකින් වැඩි ආනයන ප්‍රමාණයක් ලබාගත හැකි වූ බව ය.  
 (5) අපනයන මිල ඉහළ යාම, ආනයන මිල ඉහළ යාමට වඩා විශාල වූ බව ය. (.....)

39. කිසිදු භාණ්ඩයක් හෝ සේවාවක් හෝ නිෂ්පාදනය කිරීමෙහිලා නිරපේක්ෂ වාසියක් නොමැති රටක් පිළිබඳ ව පහත සඳහන් කවරක් නිවැරදි වේ ද?  
 (1) එම රටට සාපේක්ෂ වාසියක් ද හිමි නොවේ.  
 (2) අඩු ආවේණික පිරිවැයක් සහිත භාණ්ඩයක් හෝ සේවාවක් හෝ නිෂ්පාදනය කිරීමෙන් එම රටට සාපේක්ෂ වාසියක් හිමි කරගත හැක.  
 (3) එම රට අමුද්‍රව්‍ය අපනයනය කොට අවසාන භාණ්ඩ ආනයනය කරනු ඇත.  
 (4) පිරිවැය වාසියක් නොමැති නිසා කිසිදු රටක් එම රට සමඟ වෙළෙඳාම කිරීමට කැමති නොවනු ඇත.  
 (5) එම රටේ ව්‍යවහාර මුදල් ඒකකයේ ජාත්‍යන්තර අගය ස්ථාවර ව පවතිනු ඇත. (.....)

40. විදේශ විනිමය වෙළෙඳ පොළෙහි ශ්‍රී ලංකා රුපියල් සඳහා ඉල්ලුම ව්‍යුත්පන්න වනුයේ,  
 (1) ශ්‍රී ලංකාවේ අපනයන + ශ්‍රී ලංකාවෙන් පිටතට ගලා යන ප්‍රාග්ධන ප්‍රවාහ මගිනි.  
 (2) ශ්‍රී ලංකාවේ අපනයන + ශ්‍රී ලංකාවට පිටතින් ගලා එන ප්‍රාග්ධන ප්‍රවාහ මගිනි.  
 (3) ශ්‍රී ලංකාවේ ආනයන + ශ්‍රී ලංකාවෙන් පිටතට ගලා යන ප්‍රාග්ධන ප්‍රවාහ මගිනි.  
 (4) ශ්‍රී ලංකාවේ ආනයන + ශ්‍රී ලංකාවට පිටතින් ගලා එන ප්‍රාග්ධන ප්‍රවාහ මගිනි.  
 (5) ශ්‍රී ලංකා රජය පවත්වා ගනු ලබන විදේශ සංචිත මගිනි. (.....)

41. සාපේක්ෂ වාසි පිළිබඳ පහත සඳහන් කවර ප්‍රකාශයක් නිවැරදි වේ ද?  
 (1) සාපේක්ෂ වාසිය තනිකර ම දේශගුණයේ වෙනස්කම් මත රඳාපවතී.  
 (2) සාපේක්ෂ වාසිය තනිකර ම සාධක සම්භාරයේ වෙනස්කම් මත රඳාපවතී.  
 (3) සාපේක්ෂ වාසියක් හිමි කරගැනීමට රටක් නිරපේක්ෂ වාසියක් ද හිමි කරගෙන සිටිය යුතු ය.  
 (4) මිල මට්ටම ඉහළ යන රටක්, කිසියම් සාපේක්ෂ වාසියක් අත් කරගෙන තිබුණ ද එය ද අහිමි කරගනු ඇත.  
 (5) ආණ්ඩුවේ විවක්ෂණය ශීඝ්‍ර ප්‍රතිපත්ති මගින් ඇතැම් භාණ්ඩ සඳහා සාපේක්ෂ වාසි නිර්මාණය කළ හැකි ය. (.....)

42. අනෙකුත් කරුණු නොවෙතය ව තිබිය දී අපගේ දේශීය මුදල් ඒකකයේ බාහිර අගය වැඩි වීමක්,

- (1) ආනයනය කරනු ලබන භාණ්ඩවල දේශීය මිල පහළ හෙළයි.
- (2) ආනයනය කරනු ලබන භාණ්ඩවල දේශීය මිල ඉහළ නංවයි.
- (3) ආනයනය කරනු ලබන භාණ්ඩවල විදේශ මිල ඉහළ නංවයි.
- (4) ආනයනය කරනු ලබන භාණ්ඩවල විදේශ මිල පහළ හෙළයි.
- (5) විදේශීය රටක දී දේශීය මුදල් ඒකකයේ වටිනාකම පහළ හෙළයි.

(.....)

43. ශ්‍රී ලාංකික සමාගමකට තමන් සතු ව මැදපෙරදිග ඇති ඇගයුම් කර්මාන්ත ශාලාවකින් රුපි. මිලියන 40ක ලාභාංශයක් ලැබෙනවා යැයි සලකන්න. මෙම ගනුදෙනුව ද්විත්ව සටහන් මූලධර්මයට අනුව ශ්‍රී ලංකාවේ හෙවුම් ශේෂ ලේඛනයෙහි වාර්තා කරනුයේ කෙසේ ද?

- (1) ප්‍රාග්ධන ගිණුම බැර සහ මූල්‍ය ගිණුම හර
- (2) ප්‍රාග්ධන ගිණුම හර සහ මූල්‍ය ගිණුම බැර
- (3) ප්‍රාග්ධන ගිණුම බැර සහ ජංගම ගිණුම හර
- (4) ජංගම ගිණුම බැර සහ මූල්‍ය ගිණුම හර
- (5) ජංගම ගිණුම හර සහ මූල්‍ය ගිණුම බැර

(.....)

44. සමහර කර්මාන්ත ශාලා ස්වයංක්‍රීයකරණය (automation) වීම නිසා ඇතැම් සාම්ප්‍රදායික සේවකයන් කුසලතා නොගැළපීමකට මුහුණපාන අතර, ඔවුන්ගෙන් සමහරු සේවා විද්‍යුක්තියෙන් බවට පත් වෙති. අනික් අතට පරිගණක ක්‍රියාකරුවන්ට ඉහළ ඉල්ලුමක් පවතී. මෙම විරැකියා ස්වරූපය වර්ග කරනුයේ,

- (1) වක්‍රීය සේවා විද්‍යුක්තිය වශයෙනි.
- (2) සාර්ථක සේවා විද්‍යුක්තිය වශයෙනි.
- (3) ස්වාභාවික සේවා විද්‍යුක්තිය වශයෙනි.
- (4) ව්‍යුහමය සේවා විද්‍යුක්තිය වශයෙනි.
- (5) සැහැටුණු සේවා විද්‍යුක්තිය වශයෙනි.

(.....)

45. කිසියම් රටක් සංවර්ධනය අත් කරගෙන ඇතැයි යන්න වඩාත් හොඳින් පෙන්වුම් කරනුයේ කවර වෙනසක් මගින් ද?

- (1) එම රටේ මූල්‍ය දළ දේශීය නිෂ්පාදනයේ වැඩි වීමක්
- (2) එම රටට හිමි ලෝක අපනයන ප්‍රතිශතයේ වැඩි වීමක්
- (3) එම රටේ හෙවුම් ශේෂය යහපත් වීමක්
- (4) එම රටේ මුදල් ඒකකයේ අගය ඉහළ යාමක්
- (5) එම රටේ සාමාන්‍ය පුරවැසියාගේ ජීවන තත්ත්වයේ අතිවෘද්ධියක්

(.....)

46. මුළු යැපුම් අනුපාතය යනු,

- (1) වැඩිහිටි ජනගහනයට ළමා ජනගහනයේ අනුපාතය යි.
- (2) ශ්‍රම නමුදුවේ සේවා නියුක්ත ජනගහනයට සේවා විද්‍යුක්ත ජනගහනයේ අනුපාතය යි.
- (3) වැඩ කරන වයසේ ජනගහනයෙන් පුද්ගලයන් 100කට වයස අවුරුදු 65ට වැඩි ජනගහනයේ අනුපාතය යි.
- (4) වයස අවුරුදු 15ට වැඩි ජනගහනයට වයස අවුරුදු 15ට අඩු ජනගහනයේ අනුපාතය යි.
- (5) වයස අවුරුදු 15-59 වයසේ ජනගහනයට වයස අවුරුදු 15ට අඩු සහ 59ට වැඩි ජනගහනයේ අනුපාතය යි.

(.....)

47. 2012/13 සමීක්ෂණ දත්තවලට අනුව ශ්‍රී ලංකාවේ ජනගහන දැවිලිකා දර්ශකයේ ආංශික ව්‍යාප්තිය නිවැරදි ව දක්වනුයේ පහත සඳහන් කවර දත්ත පෙළකින් ද?

	නාගරීක අංශය %	ග්‍රාමීය අංශය %	එකු අංශය %
(1)	4.5	10.2	16.3
(2)	2.5	6.7	12.9
(3)	4.2	7.5	10.6
(4)	2.1	7.6	10.9
(5)	3.1	7.9	10.2

(.....)

48. පහත දක්වෙන කෙබඳු ආර්ථික ගැටලුවක් ඇගයීමෙහිලා ලෝරන්ස් වක්‍රය භාවිත කළ හැකි ද?

- (1) ආර්ථිකයේ නිෂ්පාදන හා සම්පත් බෙදා වෙන් කිරීමේ කාර්යක්ෂමතාව
- (2) වෙළෙඳ හවුල්කරුවන්ගේ සාපේක්ෂ වාසි
- (3) රටවල් අතර විශේෂීකරණයේ නිවුනාව
- (4) ආදායම් බෙදී යාමේ සාධාරණත්වය
- (5) සේවා විද්‍යුක්තිය හා මිල ස්ථායීතාව අතර සම්බන්ධතාව

(.....)

49. 2014 වර්ෂයේ දී ශ්‍රී ලංකාවේ දළ දේශීය නිෂ්පාදනයට සහ සේවා නියුක්තියට, කෘෂිකර්මාන්ත අංශයේ දායකත්වය නිවැරදි ව දක්වෙන්නේ පහත සඳහන් කවරක් මගින් ද?

	දළ දේශීය නිෂ්පාදනය%	සේවා නියුක්තිය%
(1)	16.0	28.5
(2)	22.8	32.3
(3)	12.8	45.0
(4)	10.5	26.5
(5)	10.1	28.5

(.....)

50. පහත සඳහන් රටවල් අතරින් G7 කණ්ඩායමෙහි සාමාජිකයකු නොවන රට කුමක් ද?

- (1) ජපානය
- (2) කැනඩාව
- (3) ප්‍රංසය
- (4) ඉතාලිය
- (5) රුසියාව

(.....)

අධ්‍යයන පොදු සහතික පත්‍ර (උසස් පෙළ) විභාගය, අගෝස්තු 2016  
**General Certificate of Education (Adv.Level) Examination, August 2016**  
 ආර්ථික විද්‍යාව II/පැය තුනයි

උපදෙස් : \* 'අ' උප කොටසෙන් අවම වශයෙන් ප්‍රශ්න දෙකක් ද, 'ආ' උප කොටසෙන් අවම වශයෙන් ප්‍රශ්න දෙකක් ද තෝරාගෙන, ප්‍රශ්න පහකට පමණක් පිළිතුරු සපයන්න.

**'අ' උප කොටස**  
 (මෙම කොටසෙන් අවම වශයෙන් ප්‍රශ්න දෙකක් තෝරාගන්න)

1. (i) ආර්ථික සම්පත්වල ප්‍රභේද හතර කවරේ ද? එක් එක් ප්‍රභේදය සඳහා නිදසුනු බැගින් දක්වන්න. (෭-04 යි)
  - (ii) නිදහස් වෙළෙඳ පොළ ආර්ථිකයක්, මධ්‍යගත සැලසුම් ආර්ථිකයකින් වෙනස් වන්නේ කවර ආකාරයන්ගෙන් ද? (෭-04යි)
  - (iii) ආර්ථික විද්‍යාව තුළ ප්‍රාග්ධන සම්පතක් වශයෙන් මුදල් නොසැලකෙන්නේ ඇයි? (෭-04යි)
  - (iv) ව්‍යවසායකයෙකු යනු කවරෙක් ද? වෙළෙඳ පොළ ආර්ථිකයක් තුළ ව්‍යවසායකයන් ප්‍රධාන කාර්යභාරයක් ඉටු කරන්නේ ඇයි? (෭-04යි)
  - (v) පොද්ගලික දේපොළ සහ දේපොළ හිමිකම් ආරක්ෂා කිරීම වෙළෙඳ පොළ ආර්ථිකයේ සාර්ථකත්වය සඳහා අතිශය තීරණාත්මක වන්නේ ඇයි? (෭-04යි)
2. (i) නිෂ්පාදන හැකියා මායිම් වක්‍රයක් යනු කුමක් ද? නිෂ්පාදන හැකියා මායිම් වක්‍රයක් අදින විට ඔබ උපකල්පනය කරන දෑ නම් කරන්න. (෭-04 යි)
  - (ii) නිෂ්පාදන හැකියා මායිම් වක්‍රයක් පිටතට විතැන් වීමට බලපාන හේතු කවරේ ද? (෭-02 යි)
  - (iii) වැඩෙන ආවස්ථික පිරිවැය යන්නෙන් අදහස් වන්නේ කුමක් ද? නිෂ්පාදන හැකියා මායිම් වක්‍රයේ හැඩය සම්බන්ධයෙන් මෙම සංකල්පයෙන් ගම්‍ය වන්නේ කවරක් ද? (෭-04 යි)
  - (iv) වි සහ රෙදිපිළි නිෂ්පාදනයේ දී වැඩෙන ආවස්ථික පිරිවැය තත්ත්වයට මුහුණදෙන රටක් සඳහා නිෂ්පාදන හැකියා මායිම් වක්‍රයක් අදින්න. පහත සඳහන් පිදුම් නිසා නිෂ්පාදන හැකියා මායිම් වක්‍රය වෙනස් වන්නේ කෙසේ දැයි පෙන්වා දෙන්න.
    - (අ) වඩාත් හොඳ පොහොර වර්ගයක් අලුතින් සොයා ගැනීම
    - (ආ) නිෂ්පාදන ක්ෂේත්‍ර දෙකෙහි ම සේවා නියුක්ත කළ හැකි ශ්‍රම ප්‍රමාණයේ විශාල ප්‍රසාරණයක් හටගැනීම
    - (ඇ) දැඩි ඉඩේරයක් නිසා වගා කළ හැකි ගොවිබිම් ප්‍රමාණය 10%කින් අඩු වීම
    - (ඈ) නිෂ්පාදන පිරිවැය අඩු කෙරෙන නව තාක්ෂණයක් රෙදිපිළි කර්මාන්තය තුළ සොයා ගැනීම

- (v) නිෂ්පාදන කාර්යක්ෂමතාව සහ සම්පත් බෙදා වෙන් කිරීමේ කාර්යක්ෂමතාව අතර වෙනස දක්වන්න. (෭- 04 යි)
3. (i) පාරිභෝගික භාණ්ඩයක ඉල්ලුම් මිල නම්‍යතාව තීරණය කරනුයේ කවර සාධක ද? (෭-04 යි)
  - (ii) පහළට බැවුම් වන රේඛීය ඉල්ලුම් වක්‍රයක්, ඉහළ මිල පරාසයන්හි දී වඩාත් මිල නම්‍ය වන්නේත්, පහළ මිල පරාසයන්හි දී වඩාත් මිල අනම්‍ය වන්නේත් ඇයි? (෭-04 යි)
  - (iii) පහත දක්වෙන භාණ්ඩයන්ගේ ආදායම් ඉල්ලුම් නම්‍යතාවන් මත ඔබ එම භාණ්ඩ 'සුබෝපභෝගී' 'අත්‍යවශ්‍ය' හා 'බාල' වශයෙන් වර්ග කොට දක්වන්නේ කෙසේ ද?
 

(අ) බෝතල් කළ ජලය	1.3
(ආ) කවිපි	0.8
(ඇ) පාන්	0.5
(ඈ) ජංගම දුරකථන	1.8
  - (iv) තරඟකාරී වෙළෙඳ පොළක අලෙවි වන භාණ්ඩයකට අදාළ ඉල්ලුම් හා සැපයුම් වක්‍ර පහත සඳහන් රූපසටහන පෙන්වුම් කරයි.
 

දත්, රජය එම භාණ්ඩය මත ඒකකයකට රුපි. 60ක් වන සේ දේශීය භාණ්ඩ බද්දක් නිෂ්පාදනයන් මත පනවනවා යැයි සිතන්න.

- (අ) බද්දෙහි ප්‍රතිඵලයක් වශයෙන් පාරිභෝගික අතිරික්තය කොතරම් ප්‍රමාණයකින් වෙනස් වේ ද? (෭- 02 යි)
- (ආ) බද්දෙහි ප්‍රතිඵලයක් වශයෙන් නිෂ්පාදන අතිරික්තය කොතරම් ප්‍රමාණයකින් වෙනස් වේ ද? (෭- 02 යි)

(ග) දේශීය භාණ්ඩ බද්දෙන් රජය එකතු කරගනු ලබන අයහාරය කොපමණ ද?

(ල- 02 යි)

(ඊ) බද්ද නිසා අහිමි වන ආර්ථික අතිරික්තයේ ප්‍රමාණය ගණනය කරන්න.

(ල- 02 යි)

4. (i) හිත වන එල සහ අඩු වන පරිමාණානුකූල එල අතර වෙනස කුමක් ද?

(ල- 04 යි)

(ii) ආන්තික පිරිවැය සහ සාමාන්‍ය මුළු පිරිවැය අතර පවත්නා සම්බන්ධය පැහැදිලි කරන්න.

(ල- 04 යි)

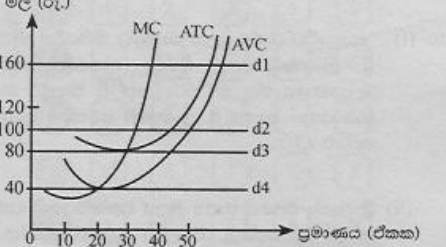
(iii) නිෂ්පාදන අතිරික්තය, ආර්ථික ලාභය සහ ආර්ථික බදු කුලිය යන සංකල්ප පැහැදිලි කරන්න.

(ල- 04 යි)

(iv) පූර්ණ තරගකාරී කර්මාන්තයක සිටින නිෂ්පාදන ආයතනයක්, වෙළෙඳ පොළ මිලට වඩා ඉහළ හෝ පහළ හෝ මිලක් තෝරා නොගන්නේ ඇයි?

(ල- 04 යි)

(v) පහත රූපසටහන පෙන්වුම් කරනුයේ කෙටි කාලයේ දී පූර්ණ තරගකාරී වෙළෙඳ පොළක කටයුතු කරන නිෂ්පාදන ආයතනයක ඉල්ලුම් හා පිරිවැය වක්‍රයන් ය.



(අ) වෙළෙඳ පොළ මිල රු. 160 දී ආයතනය උපයන ලාභය ගණනය කරන්න.

(ල- 02 යි)

(ආ) ආයතනය නිෂ්පාදනය අන්තිමට නිරණය කරනුයේ කවර මිලක දී ද?

(ල- 02 යි)

5. (i) එකතු කළ අගය යනු කුමක් ද? එය ගණනය කරනු ලබන්නේ කෙසේ ද?

(ල- 04 යි)

(ii) සමාහාර ආදායමේ ප්‍රධාන සංරචක නම් කරන්න.

(ල- 04 යි)

(iii) පහත දක්වන භනුදෙනු, රටක දළ දේශීය නිෂ්පාදිතයට ඇතුළු කරගන්නවා ද නැද්ද යන්න පැහැදිලි කරන්න.

(අ) විදේශයක නිෂ්පාදනය කරන ලද රූපි, මිලියන 10ක් වටිනා ටින් කෑම සංචාරක හෝටලයක් විසින් මිල දී ගැනීම

(ආ) නිෂ්පාදන සමාගමක් අගනුවර සිසිල් බිම් බෝතල් කිරීමේ කම්හලක් අලුතින් ඉදි කිරීම

(ඉ) ආයෝජකයකු විසින් ප්‍රධාන වාණිජ බැංකුවක රුපි, මිලියන 30ක් වටිනා කොටස් මිල දී ගැනීම

(ඊ) පොත් ප්‍රකාශකයෙකු විසින් අලුත් පොතක පිටපත් විශාල සංඛ්‍යාවක් මුද්‍රණය කොට, එයින් මෙම වර්ෂයේ අලෙවි නොවූ අතිරික්ත පිටපත් සංඛ්‍යාව, සමාගමේ තොගවලට එකතු කිරීම

(ල- 04 යි)

(iv) එක්තරා ආර්ථිකයකට අදාළ සාර්ව ආර්ථික දත්ත කිහිපයක් පහත දක්වේ. (සියලු ම සංඛ්‍යා රුපියල් මිලියනවලිනි.)

ස්වායත්ත පරිභෝජනය	=	500
සැලසුම් කළ ආයෝජනය (I)	=	1 250
ආණ්ඩුවේ මිල දී ගැනීම් (G)	=	1 000
ඉද්ධ අපනයන (NX)	=	-250
ආන්තික පරිභෝජන නැමියාව (MPC)	=	0.8

මෙම ආර්ථිකයේ සමතුලිත ජාතික ආදායම් මට්ටම නිර්ණය කරන්න.

(ල- 04 යි)

(v) එක්තරා ආර්ථිකයකට අදාළ සාර්ව ආර්ථික දත්ත කිහිපයක් පහත දක්වේ. (සියලු ම සංඛ්‍යා රුපියල් මිලියනවලිනි.)

ජාතික ආදායම	=	1 000
පරිභෝජන වියදම්	=	500
ආණ්ඩුවේ වියදම්	=	250
ඉද්ධ අපනයන	=	100
අයවැය හිඟය	=	40

(අ) වැය කළ හැකි ජාතික ආදායම ගණනය කරන්න.

(ල- 02 යි)

(ආ) මෙම ආර්ථිකයේ ආයෝජන වටිනාකම කොපමණ ද?

(ල- 02 යි)

**'ආ' උප කොටස**

(මෙම කොටසෙන් අවම වශයෙන් ප්‍රශ්න දෙකක් තෝරාගන්න.)

6. (i) මුදල් ප්‍රමාණවාදය සහ විනිමය සමීකරණය අතර වෙනස කුමක් ද?

(ල- 04 යි)

(ii) ශ්‍රී ලංකාවේ ජීවන වියදම් මිනුමක් වශයෙන් කොළඹ පාරිභෝගික මිල දර්ශකයට වඩා ජාතික පාරිභෝගික මිල දර්ශකයේ ඇති වාසි කවරේ ද?

(ල- 04 යි)

(iii) මිනිසුන් මුදල් ළඟ තබාගන්නේ ඇයි? මිනිසුන් ළඟ තබාගන්නා මුදල් ප්‍රමාණය කෙරෙහි ආදායම් මට්ටම කෙබඳු බලපෑමක් කරනු ලබයි ද?

(ල- 04 යි)

(iv) යම් කල්පිත ආර්ථිකයක, මුදල් සැපයුම (M) රුපි, බිලියන 3 600ක් ද, මුළු බැංකු තැන්පතු (D) රුපි, බිලියන 3 200ක් ද, ව්‍යවස්ථාපිත සංචිත අනුපාතය 10ක් ද වන අතර, බැංකු සතු ව අධිසංචිත තොම්බු බව ද සලකන්න.

(අ) මෙම ආර්ථිකයේ මුදල් ගුණකයේ අගය කොපමණ ද?

(ල- 02 යි)



(ආ) මෙම ආර්ථිකයේ මුදල් සැපයුම රුපි. මිලියන 100කින් අඩු කිරීමට මහ බැංකුව තුමක් කළ යුතු ද? (ල- 02යි)

(v) ශ්‍රී ලංකාවේ අන්තර් බැංකු ඒකඛණ ණය අරමුදල් වෙළෙඳ පොළෙහි පොලී අනුපාතික පාලනය කිරීම සඳහා මහ බැංකුව නිත්‍ය පොලී අනුපාතික කොරිඩෝව මෙහෙය වන්නේ කෙසේ ද? (ල- 04යි)

7. (i) ආර්ථිකයක සම්පත් බෙදා වෙන් කිරීම අකාර්යක්ෂම කරවීමෙහිලා, බාහිරතා බලපාන්නේ කෙසේ දැයි පැහැදිලි කරන්න. යෝග්‍ය ප්‍රස්තාර සටහන් මගින් මෙබි පිළිතුර විස්තර කරන්න. (ල- 04යි)

(ii) පොදු භාණ්ඩ යනු කවරේ ද? එබඳු භාණ්ඩ වෙළෙඳ පොළ මගින් පහසුවෙන් සැපයිය නොහැක්කේ මන්ද? (ල- 04යි)

(iii) බදු අය කිරීමේ අරමුණු කවරේ ද? (ල- 04යි)

(iv) යහපත් බදු ක්‍රමයක දක්නට ඇති නීත්‍යානුකූල සඳහන් කරන්න. (ල- 04යි)

(v) ශ්‍රී ලංකා ආණ්ඩුවේ පුනරාවර්තන වියදමෙහි ප්‍රධාන සංරචක නම් කරන්න. (ල- 04යි)

8. (i) සාපේක්ෂ වාසිය සහ නිරපේක්ෂ වාසිය අතර වෙනස දක්වන්න. (ල- 04යි)

(ii) මෑත වර්ෂවල ශ්‍රී ලංකාවේ කෘෂිකාර්මික අපනයන ඉපයීම්වල මන්දගාමී වර්ධනයට හේතු දක්වන්න. (ල- 04යි)

(iii) ශ්‍රී ලංකාව වර්තමානයේ කලාපීය සහ ද්විපාර්ශ්වීය වශයෙන් ඇති කරගෙන ඇති නිදහස් වෙළෙඳ ගිවිසුම් සඳහන් කරන්න. (ල- 04යි)

(iv) ද්විත්ව සටහන් මුලධර්මය යොදාගනිමින් පහත සඳහන් ගනුදෙනු ශ්‍රී ලංකාවේ ගෙවුම් ගේෂ ලේඛනයෙහි මඛ වාර්තා කරන්නේ කෙසේ ද? (ල- 04යි)

(අ) චීන ආයෝජකයකු විසින් ඩොලර් මිලියන 10ක කොටස් කොළඹ සුරැකුම්පත් හුවමාරුවෙන් මිලයට ගැනීම

(ආ) මැදපෙරදිග සේවය කරන ශ්‍රී ලාංකික ගෘහ සේවිකාවක් ඩොලර් 500ක මුදලක්, ලංකාවේ සිටින තම දෙමාපියන් වෙත එවීම

(ඇ) ශ්‍රී ලාංකික බැංකුවක් විදේශීය මූල්‍ය වෙළෙඳ පොළවල පිළිඹිබුණ පත් අලෙවි කොට, ඩොලර් මිලියන 40ක් ලබාගැනීම

(ඈ) ලෝකයේ ශීඝ්‍රයෙන් අලෙවි වන පොතක් පරිවර්තනය කොට ශ්‍රී ලංකාවේ අලෙවි කිරීම සඳහා ශ්‍රී ලංකාවේ ප්‍රකාශන සමාගමක් ඇමෙරිකානු ප්‍රකාශන සමාගමකට ඩොලර් 5 000ක් ගෙවා එහි ප්‍රකාශන අයිතිය ලබාගැනීම (ල- 04යි)

(v) පා වෙත විනිමය අනුපාතික ක්‍රමය යටතේ ශ්‍රී ලංකා රුපියලේ බාහිර අගය, ඇමෙරිකානු ඩොලර්වලින්

නිරණය වන ආකාරය පෙන්වුම් කිරීමට උචිත ප්‍රස්තාර සටහනක් අඳින්න. මෙම විදේශ විනිමය වෙළෙඳ පොළෙහි ඉල්ලුම් වක්‍රය පහළට සහ සැපයුම් වක්‍රය ඉහළට බැටුම් වන්නේ ඇයි ද යන්න පැහැදිලි කරන්න. (ල- 04යි)

9. (i) සංවර්ධනය පිළිබඳ දර්ශකයක් වශයෙන් මානව සංවර්ධන දර්ශකය, ප්‍රතිශීර්ෂ දළ ජාතික ආදායමට වඩා හොඳ දර්ශකයක් ලෙස සලකනු ලබන්නේ ඇයි? (ල- 05යි)

(ii) දිගු කාලීන ආර්ථික වෘද්ධිය ප්‍රවර්ධනය කිරීම පිණිස ආණ්ඩුවට ගත හැකි ක්‍රියාමාර්ග පහක් සඳහන් කරන්න. (ල- 05යි)

(iii) මෑත වර්ෂවල ශ්‍රී ලංකාවේ දරිද්‍රතා මට්ටම් පහළ වැටීමට දායක වී ඇති වැදගත් කරුණු කවරේ ද? (ල- 05යි)

(iv) රාජ්‍ය ණය මගින් මූල්‍යනය කෙරෙන, වෙළෙඳ නොවන අංශ පදනම් කරගත් වෘද්ධි උපාය මාර්ගයක්, ආර්ථිකය දිගු කාලීන තිරසාර වෘද්ධියක් කරා ගෙනයනු ඇතැයි අපේක්ෂා කළ නොහැකි ය. පසුගිය පස් වසර තුළ ශ්‍රී ලංකාවේ අන්දකීම් ඇසුරෙන් මෙම ප්‍රකාශයේ වලංගුභාවය අගයන්න. (ල- 05යි)

10. (i) "නානාවිධ රාජ්‍ය මූල්‍ය සානුබල හිඬියදීත් මෑත වර්ෂවල ශ්‍රී ලංකාවේ සෘජු විදේශ ආයෝජනයේ හැසිරීම, බලාපොරොත්තු කඩකරන්නක් වී තිබේ." සෘජු විදේශ ආයෝජන සඳහා ශ්‍රී ලංකාවේ පවත්නා ප්‍රධාන බාධක කවරේ ද? (ල- 05යි)

(ii) ශ්‍රී ලංකා රජයේ රාජ්‍ය මූල්‍ය තත්ත්වයෙහි දක්නට ඇති ප්‍රධාන ව්‍යුහාත්මක දුර්වලතා සඳහන් කරන්න. (ල- 05යි)

(iii) ශ්‍රී ලංකාවේ මෑත වර්ෂවල වෙළෙඳ ගේෂයේ හිඟය පුළුල් වෙමින් පැවතීමට බලපාන හේතු දක්වන්න. (ල- 05යි)

(iv) ශ්‍රී ලංකාවේ දිගු කාලීන ආර්ථික වෘද්ධිය කෙරෙහි අහිතකර ලෙස බලපෑ හැකි, ගෝලීය ආර්ථිකයේ වර්තමානයේ සිදු වන වෙනස්කම් කෙටියෙන් සඳහන් කරන්න. (ල- 05යි)